



四角形と
三角形の面積 15

● ブーメラン型の面積を
たし算で求める

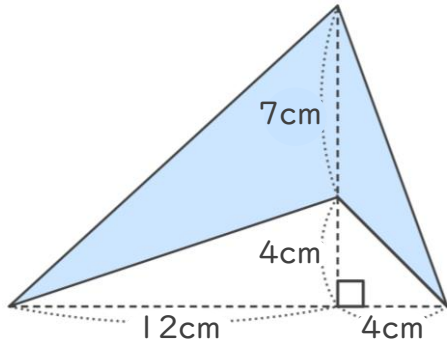


日にち： 月 日

名まえ _____

・ 次の四角形の面積を計算でもとめましょう。

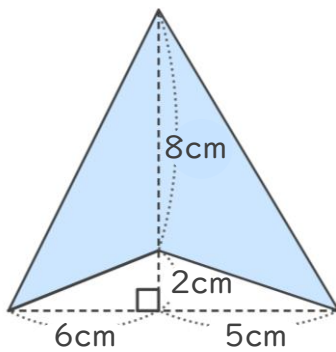
①



<式・考え方>

答え： _____

②



<式・考え方>

答え： _____



四角形と
三角形の面積 15

● ブーメラン型の面積を
たし算で求める



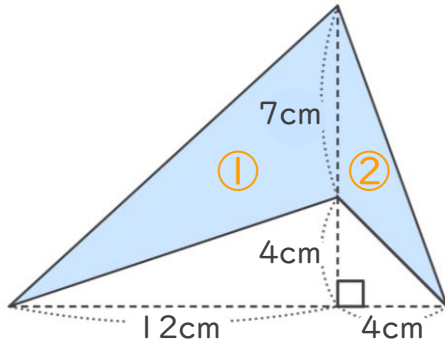
日にち： 月 日

名まえ _____

・ 次の四角形の面積を計算でもとめましょう。

①

※ 三角形の面積の差を利用して求めても良いです。



<式・考え方>

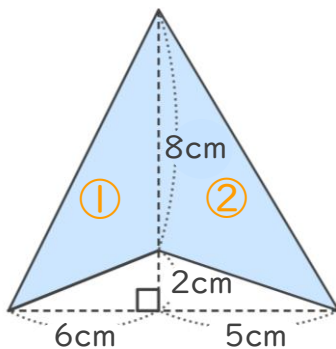
$$7 \times 12 \div 2 = 42 \quad (\text{①の三角形の面積})$$

$$7 \times 4 \div 2 = 14 \quad (\text{②の三角形の面積})$$

$$42 + 14 = 56 \quad (\text{①と②の面積の和})$$

答え： 56cm²

②



<式・考え方>

$$8 \times 6 \div 2 = 24 \quad (\text{①の三角形の面積})$$

$$8 \times 5 \div 2 = 20 \quad (\text{②の三角形の面積})$$

$$24 + 20 = 44 \quad (\text{①と②の面積の差})$$

答え： 44cm²

