

小数の倍3

◎ リボンを小数倍した長さ

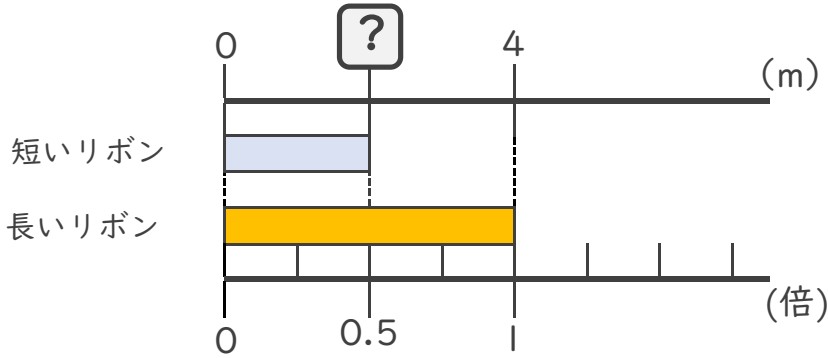


日にち： 月 日

名まえ _____

・ 次の問いに答えましょう。

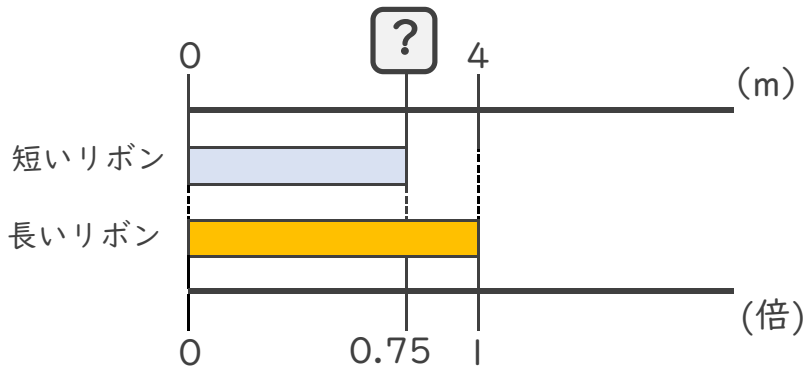
① 短いリボンは長いリボンの0.5倍の長さです。短いリボンの長さをもとめましょう。



式：

答え： _____

② 短いリボンは長いリボンの0.75倍の長さです。短いリボンの長さをもとめましょう。



式：

答え： _____

③ 20mの赤いリボンがあります。青いリボンは赤いリボンの0.3倍の長さです。青いリボンの長さをもとめましょう。

式：

答え： _____





小数の倍3

◎ リボンを小数倍した長さ

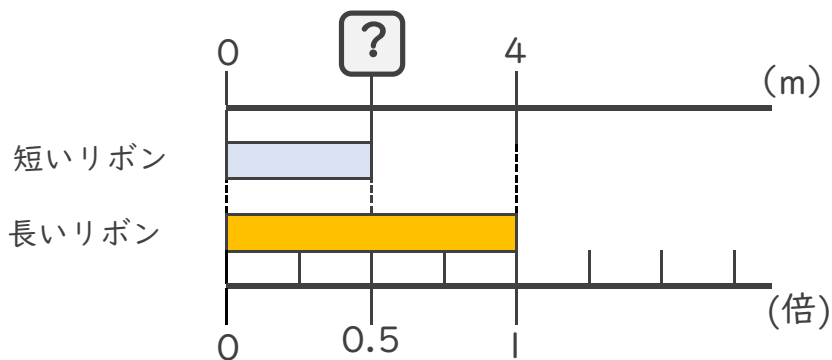


日にち： 月 日

名まえ _____

・ 次の問いに答えましょう。

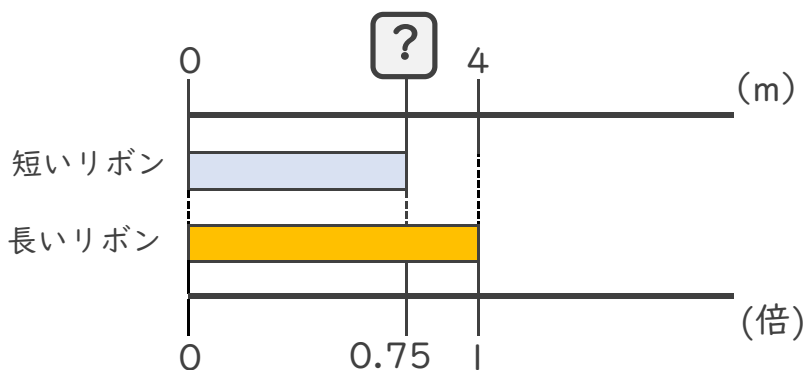
① 短いリボンは長いリボンの0.5倍の長さです。短いリボンの長さをもとめましょう。



式： $4 \times 0.5 = 2$

答え： 2m

② 短いリボンは長いリボンの0.75倍の長さです。短いリボンの長さをもとめましょう。



式： $4 \times 0.75 = 3$

答え： 3m

③ 20mの赤いリボンがあります。青いリボンは赤いリボンの0.3倍の長さです。青いリボンの長さをもとめましょう。

式： $20 \times 0.3 = 6$

答え： 6m

