



# 小数の倍3

㊦ リボンを小数倍した長さ

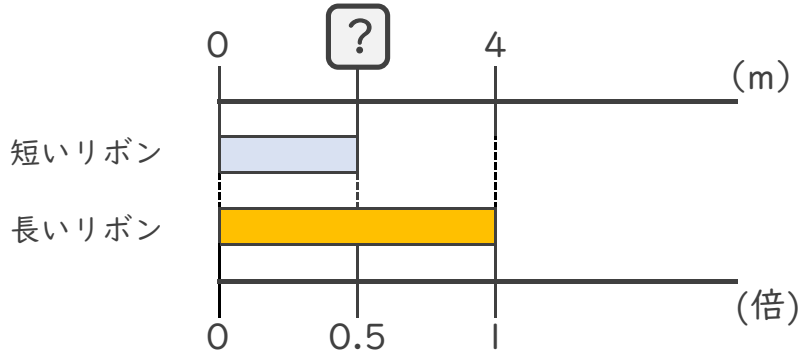


日にち：        月        日

名まえ \_\_\_\_\_

・ 次の問いに答えましょう。

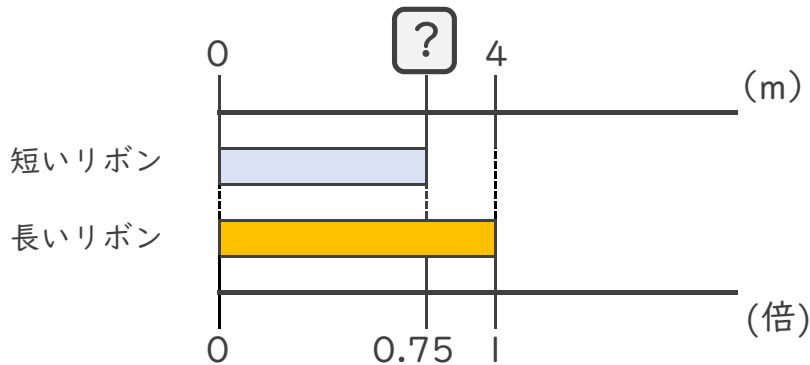
- ① 短いリボンは長いリボンの0.5倍の長さです。  
 短いリボンの長さをもとめましょう。



式：

答え： \_\_\_\_\_

- ② 短いリボンは長いリボンの0.75倍の長さです。  
 短いリボンの長さをもとめましょう。



式：

答え： \_\_\_\_\_

- ③ 20mの赤いリボンがあります。青いリボンは赤いリボンの0.3倍の長さです。青いリボンの長さをもとめましょう。

式：

答え： \_\_\_\_\_





# 小数の倍3

㊦ リボンを小数倍した長さ

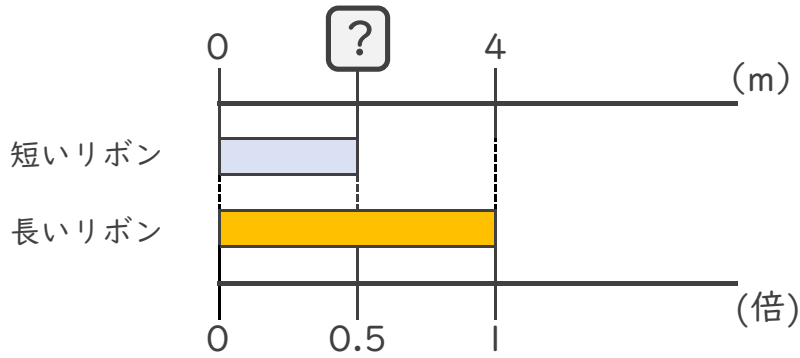


日にち：        月        日

名まえ \_\_\_\_\_

・ 次の問いに答えましょう。

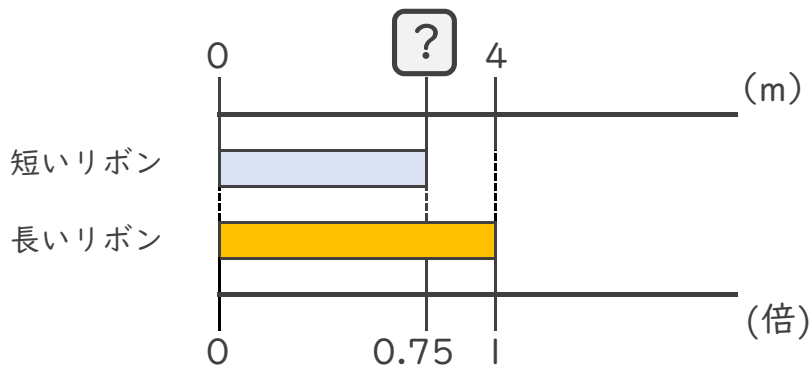
- ① 短いリボンは長いリボンの0.5倍の長さです。  
 短いリボンの長さをもとめましょう。



式：  $4 \times 0.5 = 2$

答え： 2m

- ② 短いリボンは長いリボンの0.75倍の長さです。  
 短いリボンの長さをもとめましょう。



式：  $4 \times 0.75 = 3$

答え： 3m

- ③ 20mの赤いリボンがあります。青いリボンは赤いリボンの  
 0.3倍の長さです。青いリボンの長さをもとめましょう。

式：  $20 \times 0.3 = 6$

答え： 6m

