



分数と小数  
整数の関係 3

● 分数の倍




日にち：            月            日

名まえ \_\_\_\_\_

・ 次の問いに分数で答えましょう。

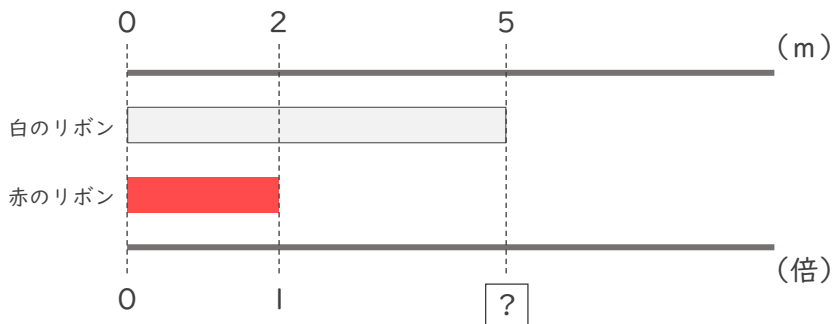
① 赤のリボンは白のリボンの何倍ですか。



式：

答え (            倍            )

② 白のリボンは赤のリボンの何倍ですか。



式：

答え (            倍            )

③ 白のリボンは青のリボンの何倍ですか。



式：

答え (            倍            )



分数と小数  
整数の関係 3

● 分数の倍




日にち：            月            日

名まえ \_\_\_\_\_

・次の問いに分数で答えましょう。

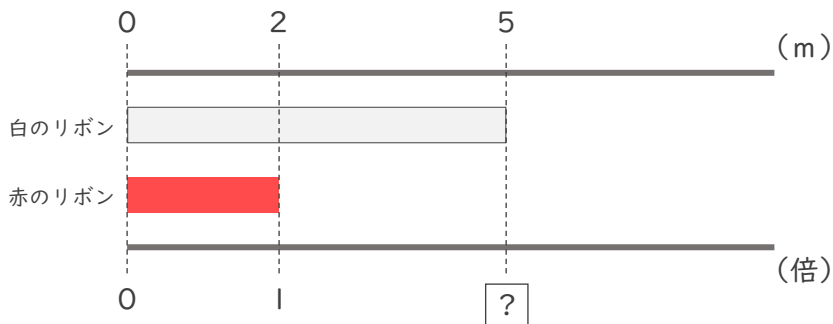
① 赤のリボンは白のリボンの何倍ですか。



式：  $6 \div 7 = \frac{6}{7}$

答え (  $\frac{6}{7}$  倍 )

② 白のリボンは赤のリボンの何倍ですか。



式：  $5 \div 2 = \frac{5}{2}$

答え (  $\frac{5}{2}$  倍 )

③ 白のリボンは青のリボンの何倍ですか。



式：  $7 \div 6 = \frac{7}{6}$

答え (  $\frac{7}{6}$  倍 )