



単位数あたりの
大きさ 4

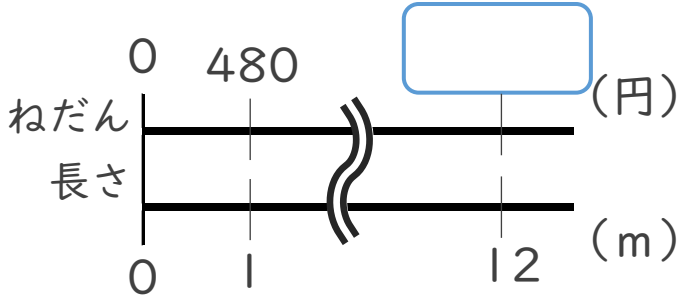


◎ 単位数から
比べられる量を求める

日にち： 月 日

名まえ _____

1 1 mあたりのねだんが480円の布の12mのねだんはいくらでしょう。

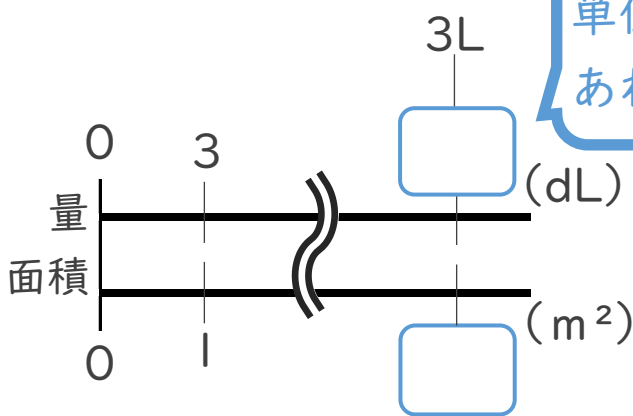


式：

筆算

答え： _____

2 かべを 1 m^2 あたり 3 dLのペンキで塗ります。ペンキは3L必要です。
かべの面積を求めましょう。



式：

筆算

答え： _____



単位数あたりの 大きさ 4

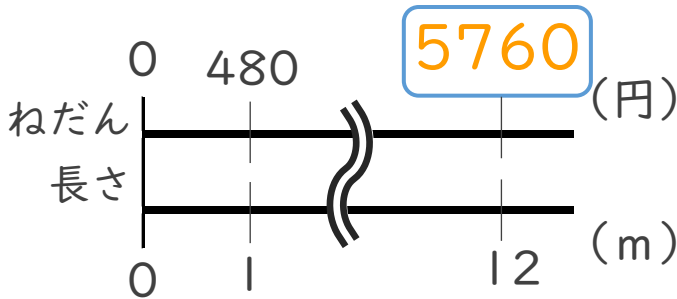
◎ 単位数から
比べられる量を求める



日にち： 月 日

名まえ _____

1 1 mあたりのねだんが480円の布の12mのねだんはいくらでしょう。

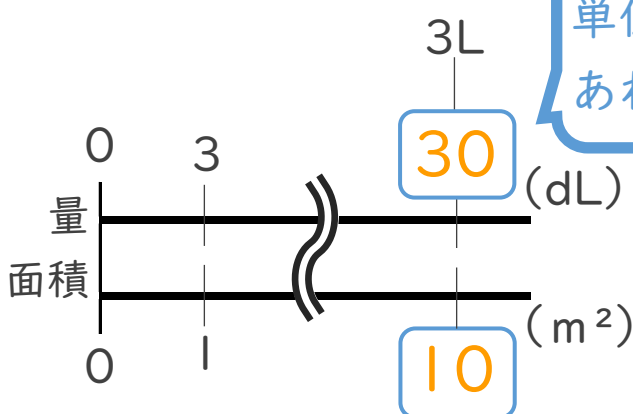


$$\text{式： } 480 \times 12 = 5760$$

筆算

答え： 5760 円

2 かべを1 m²あたり3 dLのペンキで塗ります。ペンキは3L必要です。
かべの面積を求めましょう。



$$\text{式： } 30 \div 3 = 10$$

筆算

答え： 10 m²

