



# 分数のたし算とひき算 I

◎ 数直線と大きさの等しい分数

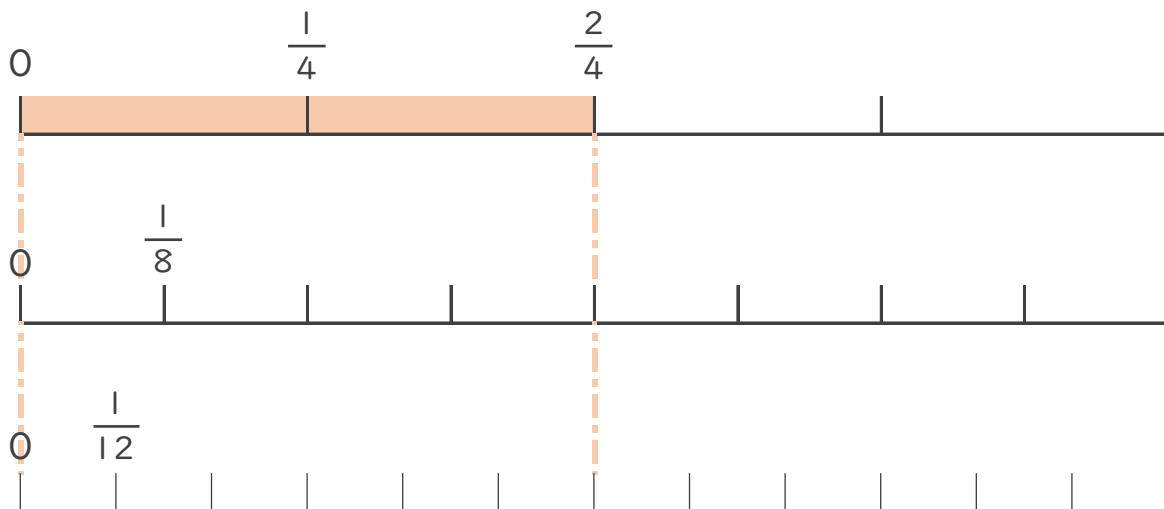


日にち：            月            日

名まえ \_\_\_\_\_

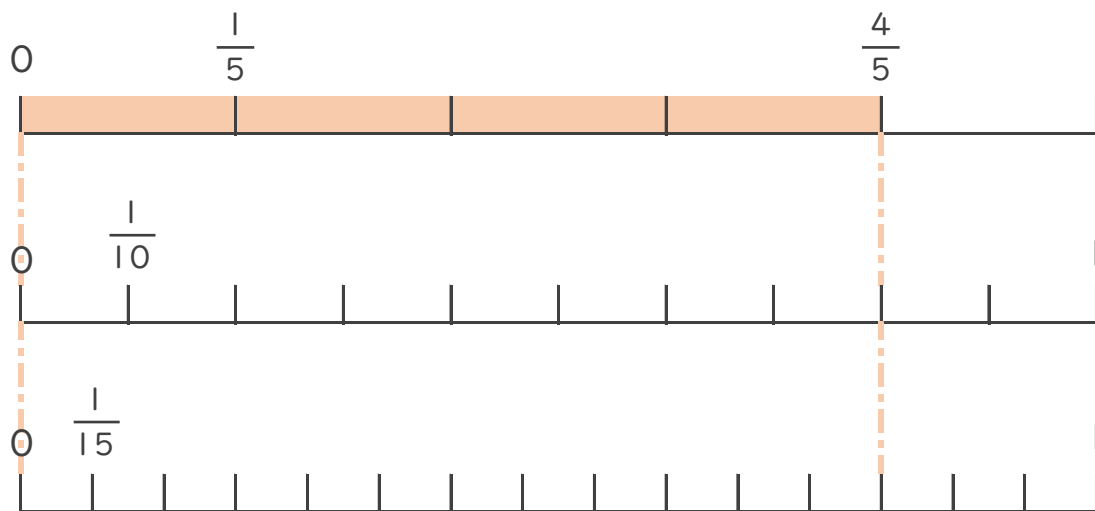
1  $\frac{2}{4}$  と大きさの等しい分数を2つ見つけましょう。

(うすい字は、なぞりましょう。)



答え  $\frac{4}{8}$  と  $\frac{6}{12}$

2  $\frac{4}{5}$  と大きさの等しい分数を2つ見つけましょう。



答え



# 分数のたし算とひき算 I

◎ 数直線と大きさの等しい分数

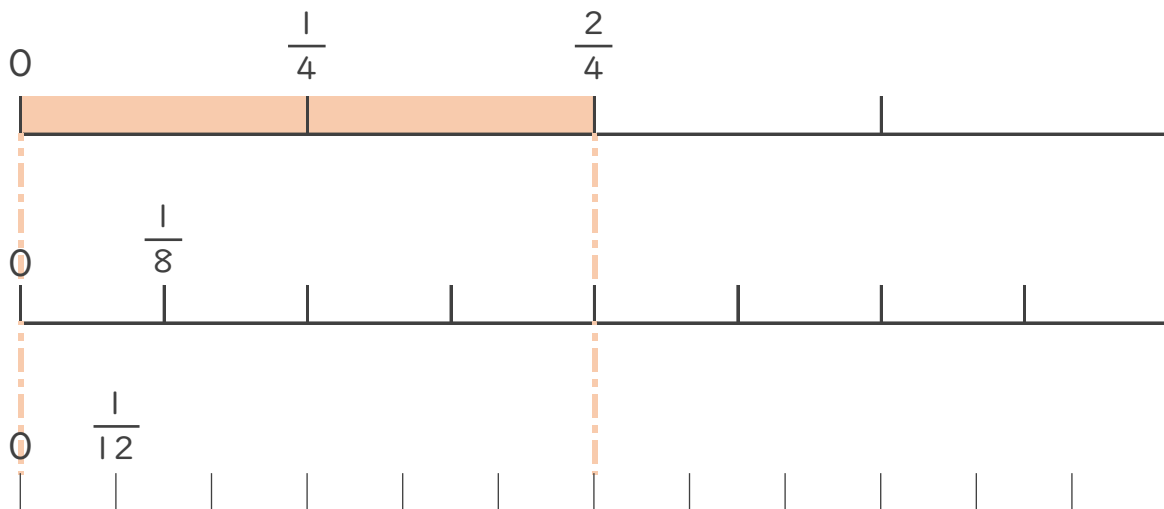


日にち： 月 日

名まえ \_\_\_\_\_

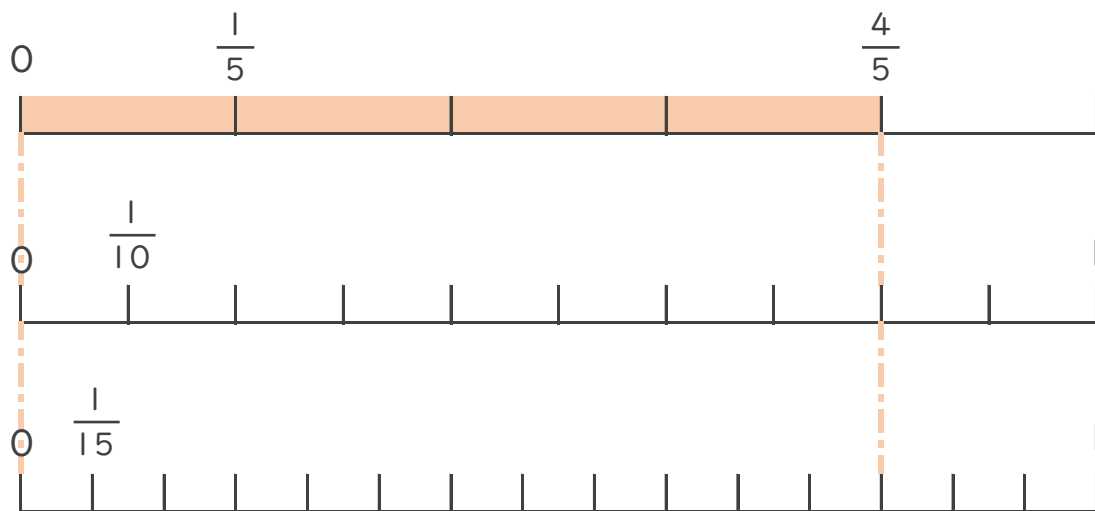
1  $\frac{2}{4}$  と大きさの等しい分数を2つ見つけましょう。

(うすい字は、なぞりましょう。)



答え  $\frac{4}{8}$  と  $\frac{6}{12}$

2  $\frac{4}{5}$  と大きさの等しい分数を2つ見つけましょう。



答え  $\frac{8}{10}$  と  $\frac{12}{15}$