



# 小数のかけ算 17

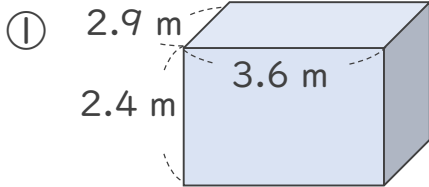
## ㊦ 直方体の体積



日にち：            月            日

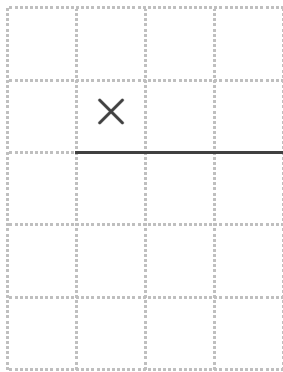
名まえ \_\_\_\_\_

・ 次の立体の体積は何  $m^3$  でしょうか。

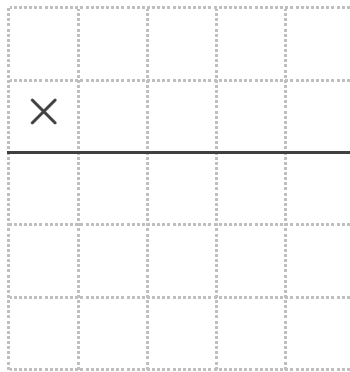


式： \_\_\_\_\_

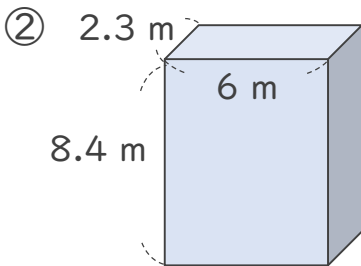
<筆算>



<筆算>

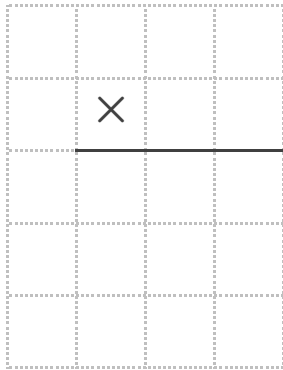


答え： \_\_\_\_\_

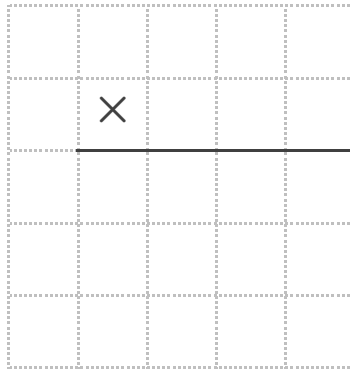


式： \_\_\_\_\_

<筆算>



<筆算>



答え： \_\_\_\_\_





# 小数のかけ算 17

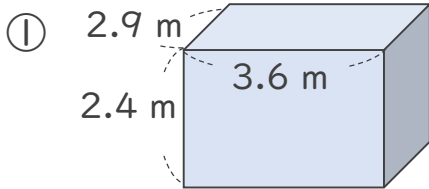
## ◎ 直方体の体積



日にち：            月            日

名まえ \_\_\_\_\_

・ 次の立体の体積は何  $m^3$  でしょうか。



式：  $2.9 \times 3.6 \times 2.4 = 25.056$

---

<筆算>

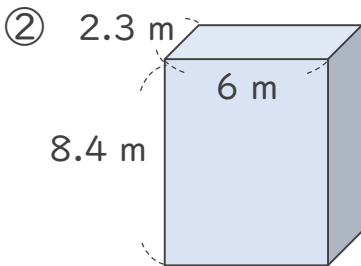
|  |   |      |  |
|--|---|------|--|
|  |   | 2.9  |  |
|  | × | 3.6  |  |
|  |   | 174  |  |
|  |   | 87   |  |
|  |   | 1044 |  |

<筆算>

|  |   |       |  |
|--|---|-------|--|
|  |   | 10.44 |  |
|  | × | 2.4   |  |
|  |   | 4176  |  |
|  |   | 2088  |  |
|  |   | 25056 |  |

答え：  $25.056 m^3$

---



式：  $2.3 \times 6 \times 8.4 = 115.92$

---

<筆算>

|  |   |      |  |
|--|---|------|--|
|  |   | 2.3  |  |
|  | × | 6    |  |
|  |   | 13.8 |  |
|  |   |      |  |
|  |   |      |  |

<筆算>

|  |   |       |  |
|--|---|-------|--|
|  |   | 13.8  |  |
|  | × | 8.4   |  |
|  |   | 552   |  |
|  |   | 1104  |  |
|  |   | 11592 |  |

答え：  $115.92 m^3$

---

