



小数の倍2

◎ 短いリボンは長いリボンの何倍？

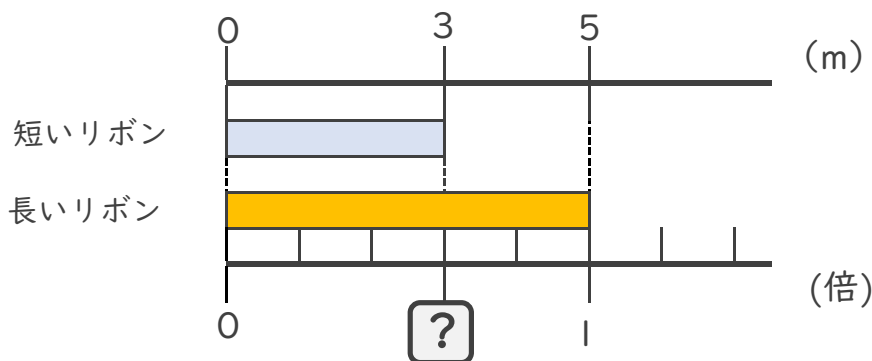


日にち： 月 日

名まえ _____

・ 次の問いに答えましょう。

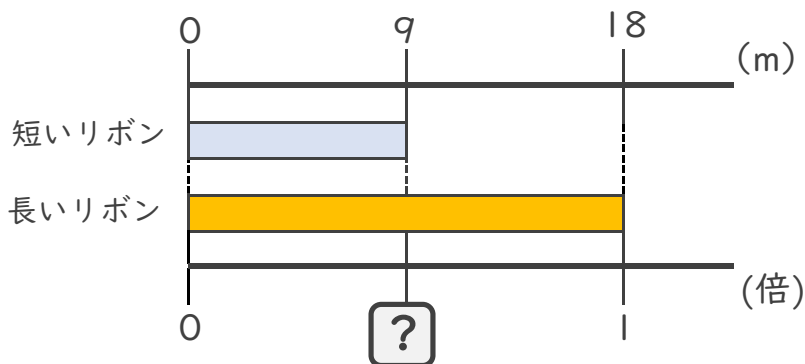
① 短いリボンは長いリボンの何倍でしょうか？



式： $3 \div$

答え： _____

② 短いリボンは長いリボンの何倍でしょうか？



式：

答え： _____

③ 6mのリボンと8mのリボンがあります。
短いリボンは長いリボンの何倍でしょうか？

式：

答え： _____





小数の倍2

◎ 短いリボンは長いリボンの何倍？

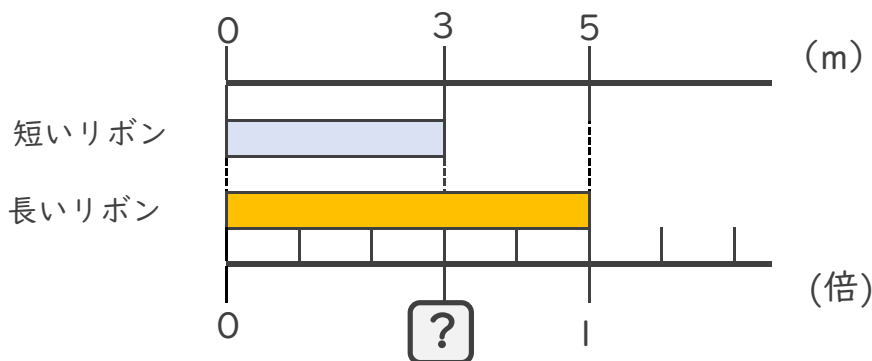


日にち： 月 日

名まえ _____

・ 次の問いに答えましょう。

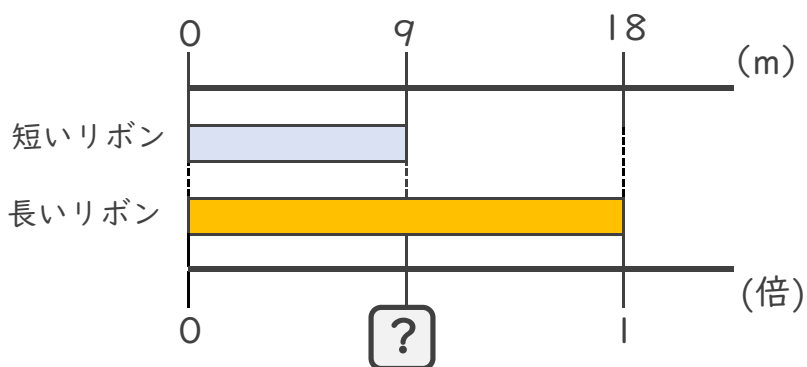
① 短いリボンは長いリボンの何倍でしょうか？



式： $3 \div 5 = 0.6$

答え： 0.6倍

② 短いリボンは長いリボンの何倍でしょうか？



式： $9 \div 18 = 0.5$

答え： 0.5倍

③ 6mのリボンと8mのリボンがあります。
短いリボンは長いリボンの何倍でしょうか？

式： $6 \div 8 = 0.75$

答え： 0.75倍

