

# 小数の倍①

◎ 長いリボンは  
短いリボンの何倍？

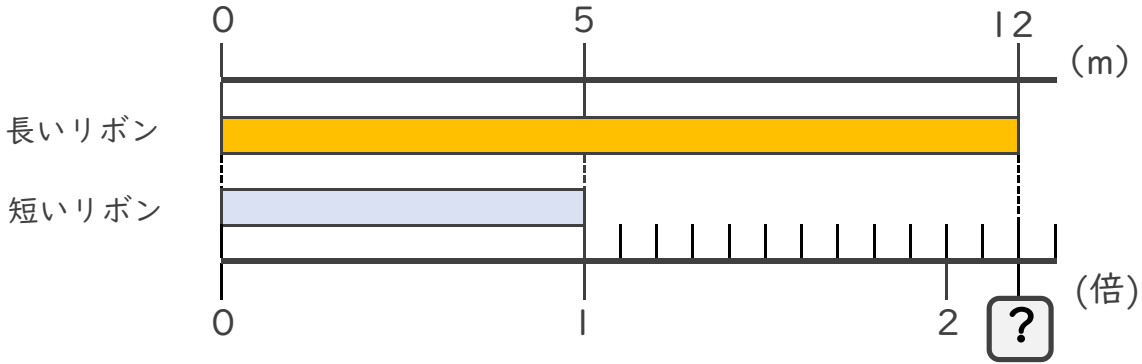


日にち：        月        日

名まえ \_\_\_\_\_

・ 次の問いに答えましょう。

① 長いリボンは短いリボンの何倍でしょうか？



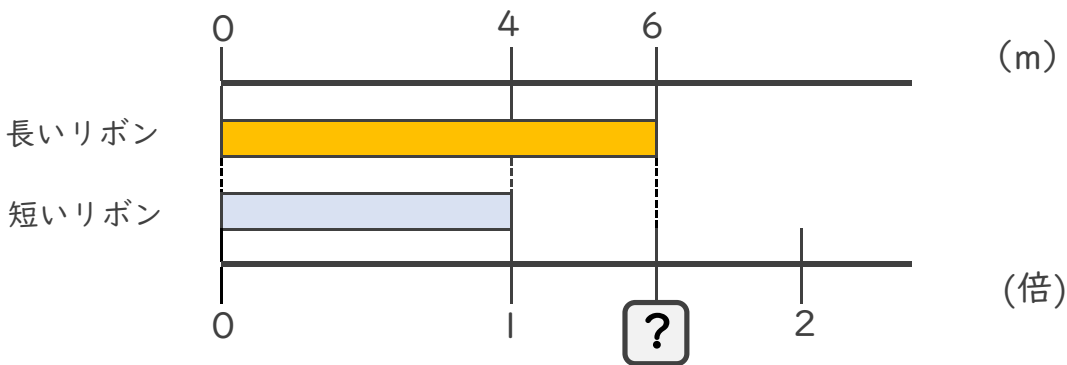
式：  $5 \times \square = 12$

$\square = \div$

$\square =$

答え： \_\_\_\_\_ 倍

② 長いリボンは短いリボンの何倍でしょうか？



式：

答え： \_\_\_\_\_





# 小数の倍!

◎ 長いリボンは  
短いリボンの何倍?

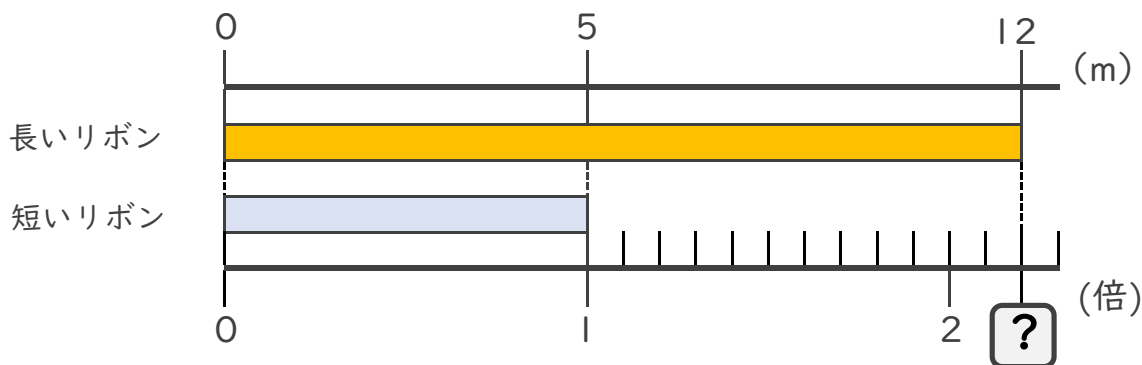


日にち：      月      日

名まえ \_\_\_\_\_

・ 次の問いに答えましょう。

① 長いリボンは短いリボンの何倍でしょうか?



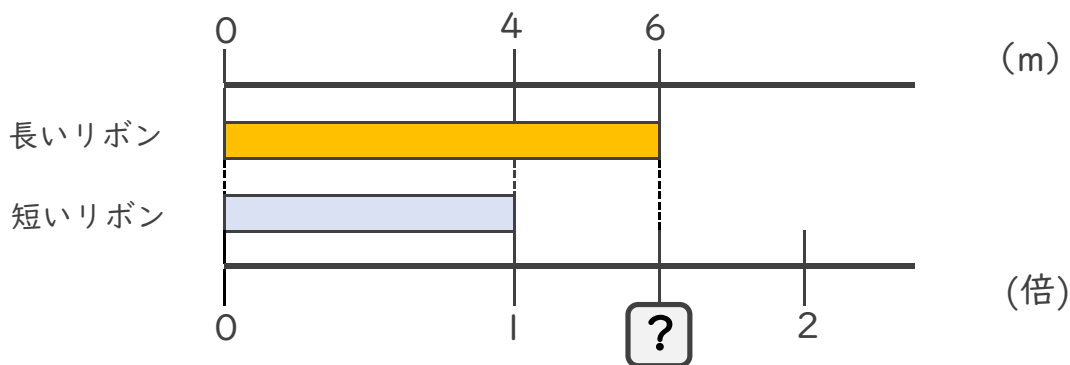
式：  $5 \times \square = 12$

$\square = 12 \div 5$

$\square = 2.4$

答え： 2.4倍

② 長いリボンは短いリボンの何倍でしょうか?



式：  $4 \times \square = 6$

$\square = 6 \div 4$

$\square = 1.5$

答え： 1.5倍

