



小数のかけ算 17

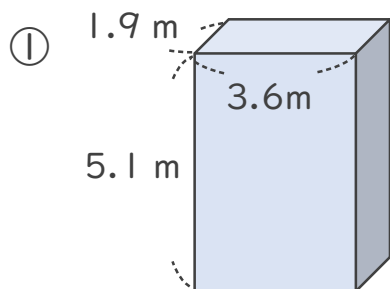
◎ 直方体の体積



日にち： 月 日

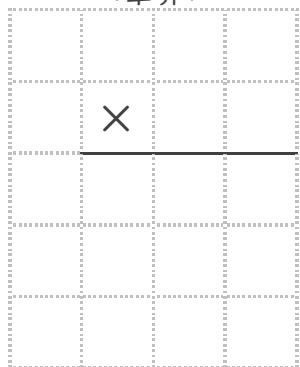
名まえ _____

・ 次の立体の体積は何 m^3 でしょうか。

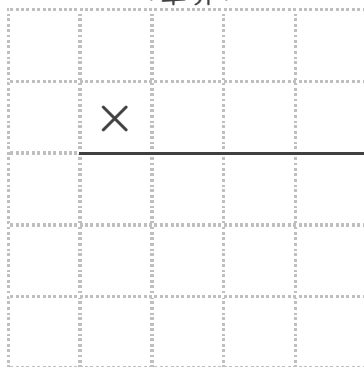


式： _____

<筆算>

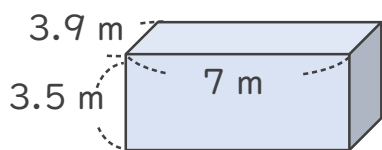


<筆算>



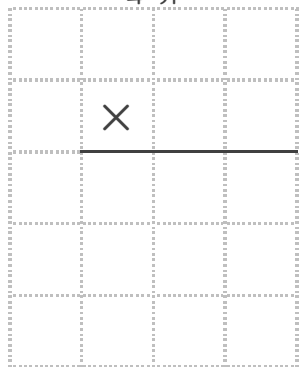
答え： _____

②

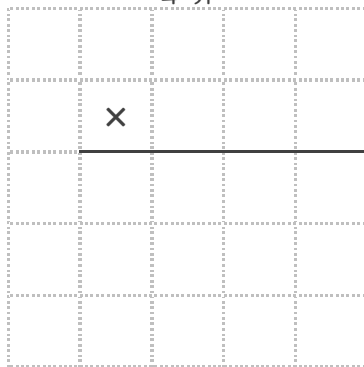


式： _____

<筆算>



<筆算>



答え： _____





小数のかけ算 17

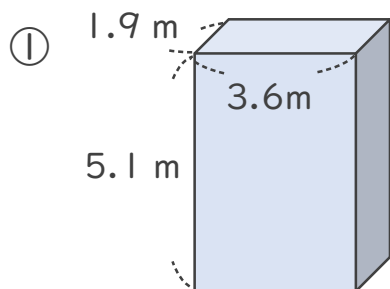
◎ 直方体の体積



日にち： 月 日

名まえ _____

・ 次の立体の体積は何 m^3 でしょうか。



式： $1.9 \times 3.6 \times 5.1 = 34.884$

<筆算>

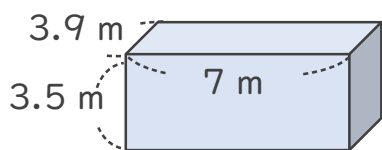
		1	.	9
×		3	.	6
	1	1	4	
	5	7		
	6	.	8	4

<筆算>

		6	.	8	4	
×		5	.	1		
		6	8	4		
	3	4	2	0		
	3	4	.	8	8	4

答え： $34.884 m^3$

②



式： $3.9 \times 7 \times 3.5 = 95.55$

<筆算>

		3	.	9
×		7		
	2	7	.	3

<筆算>

		2	7	.	3
×		3	.	5	
	1	3	6	5	
	8	1	9		
	9	5	.	5	5

答え： $95.55 m^3$

