



割合 8

● もとにする量・割合・
比べられる量を見分ける



日にち： 月 日

名まえ _____

次の文について、問題に答えましょう。

675m は 900m の 75% です。

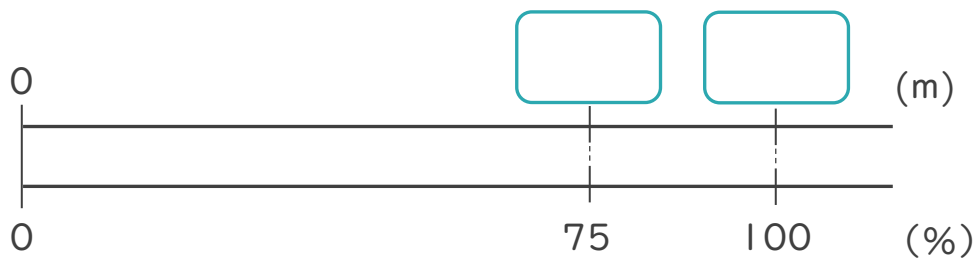
① 上の文で、もとにする量、比べられる量、割合は、それぞれ何ですか。

もとにする量・・・ ()

比べられる量・・・ ()

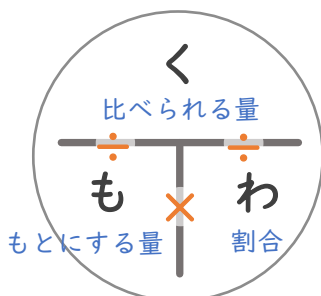
割合・・・ ()

② 下の図で、 にあてはまる数を書きましょう。

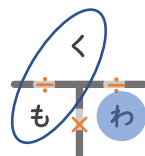


③ 次の にあてはまる言葉を書きましょう。

割合 = ÷



「く・も・わ」で覚えると便利！



わ = く ÷ も





割合 8

● もとにする量・割合・
比べられる量を見分ける



日にち： 月 日

名まえ _____

次の文について、問題に答えましょう。

675m は 900m の 75% です。

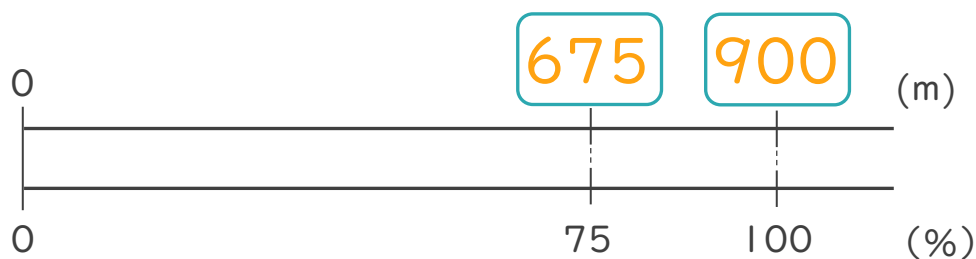
① 上の文で、もとにする量、比べられる量、割合は、それぞれ何ですか。

もとにする量・・・ (**900m**)

比べられる量・・・ (**675m**)

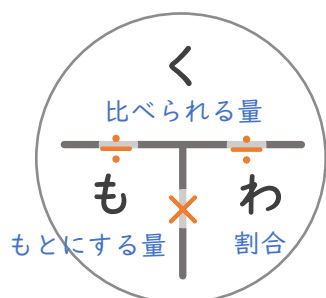
割合・・・ (**75%**)

② 下の図で、 にあてはまる数を書きましょう。

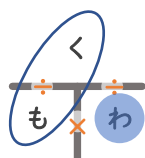


③ 次の にあてはまる言葉を書きましょう。

割合 = **比べられる量** ÷ **もとにする量**



「く・も・わ」で覚えると便利！



わ = く ÷ も

