



# 小数の倍3

㊦ リボンを小数倍した長さ

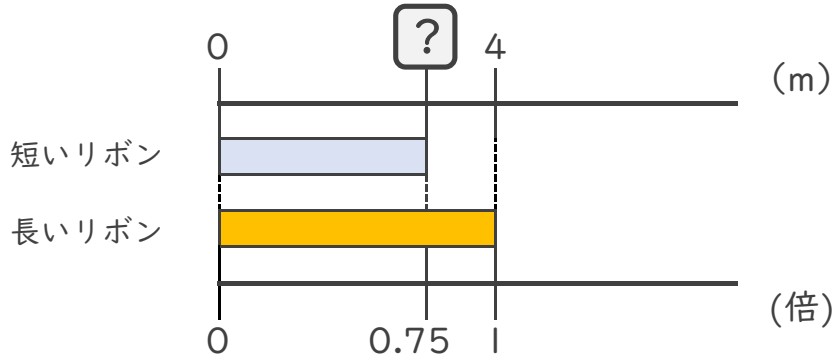


日にち： 月 日

名まえ

・次の問いに答えましょう。

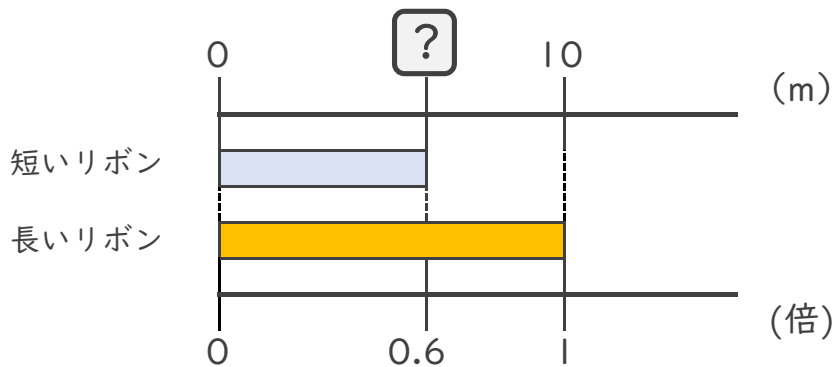
- ① 短いリボンは長いリボンの0.75倍の長さです。  
短いリボンの長さをもとめましょう。



式：

答え：

- ② 短いリボンは長いリボンの0.6倍の長さです。  
短いリボンの長さをもとめましょう。



式：

答え：

- ③ 25mの赤いリボンがあります。青いリボンは赤いリボンの0.6倍の長さです。青いリボンの長さをもとめましょう。

式：

答え：





# 小数の倍3

㉞ リボンを小数倍した長さ

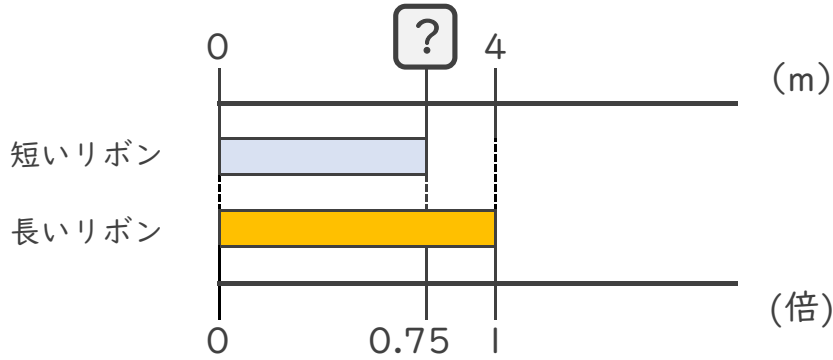


日にち：        月        日

名まえ \_\_\_\_\_

・ 次の問いに答えましょう。

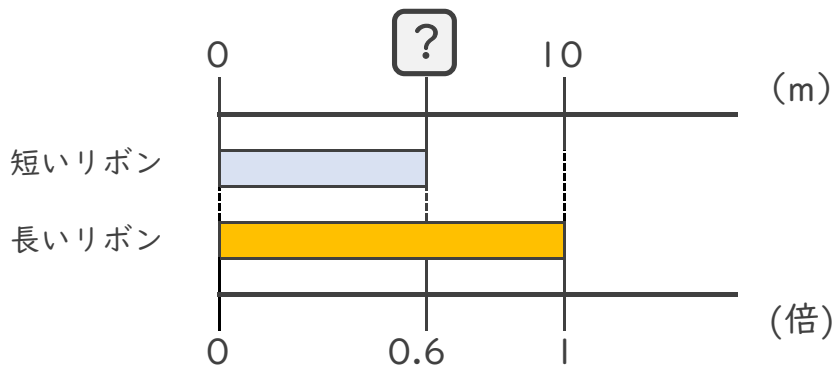
- ① 短いリボンは長いリボンの0.75倍の長さです。  
 短いリボンの長さをもとめましょう。



式：  $4 \times 0.75 = 3$

答え： 3m

- ② 短いリボンは長いリボンの0.6倍の長さです。  
 短いリボンの長さをもとめましょう。



式：  $10 \times 0.6 = 6$

答え： 6m

- ③ 25mの赤いリボンがあります。青いリボンは赤いリボンの  
 0.6倍の長さです。青いリボンの長さをもとめましょう。

式：  $25 \times 0.6 = 15$

答え： 15m

