



四角形と 三角形の面積 12

● 三角形の和で求める
四角形の面積

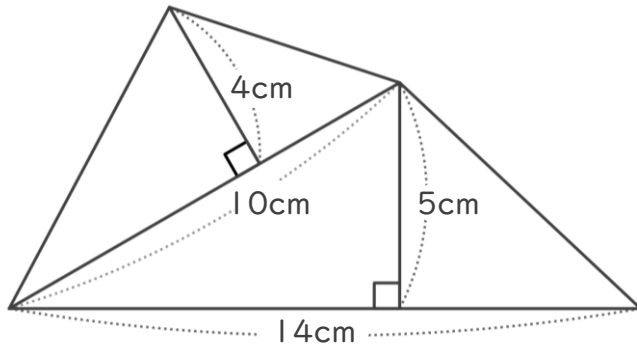


日にち： 月 日

名まえ _____

・ 次の四角形の面積を計算で求めましょう。

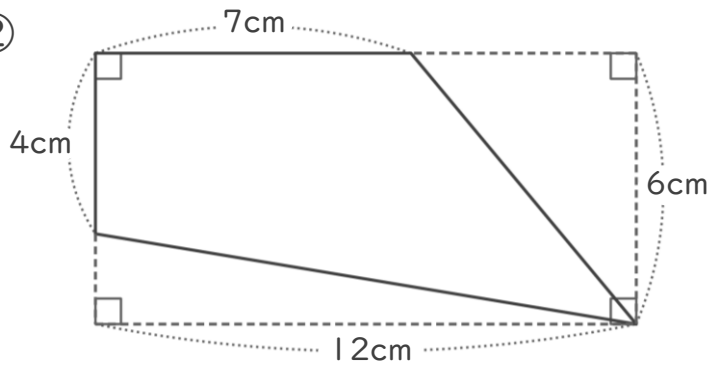
①



<式・考え方>

答え： _____

②



<式・考え方>

答え： _____



四角形と 三角形の面積 12

● 三角形の和で求める
四角形の面積

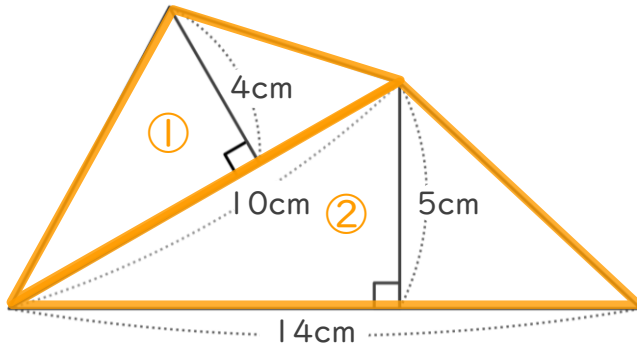


日にち： 月 日

名まえ _____

・ 次の四角形の面積を計算で求めましょう。

①



<式・考え方>

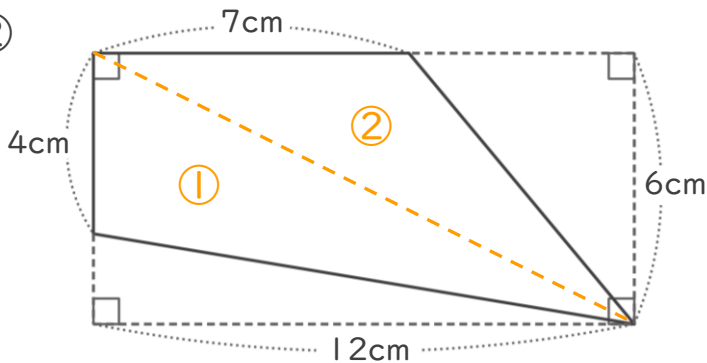
$$10 \times 4 \div 2 = 20 \quad (\text{①の三角形の面積})$$

$$14 \times 5 \div 2 = 35 \quad (\text{②の三角形の面積})$$

$$20 + 35 = 55 \quad (\text{①と②の面積の和})$$

答え： 55cm²

②



<式・考え方>

$$4 \times 12 \div 2 = 24 \quad (\text{①の三角形の面積})$$

$$7 \times 6 \div 2 = 21 \quad (\text{②の三角形の面積})$$

$$24 + 21 = 45 \quad (\text{①と②の面積の和})$$

答え： 45cm²

