



# 図形の角 3

## ◎ 三角形の外角

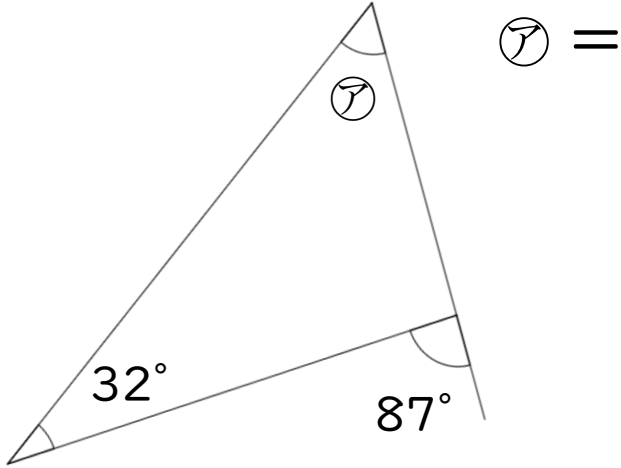


日にち：            月            日

名まえ \_\_\_\_\_

・ 次の図で、㉠～㉣の角度は何度ですか。  
計算で求めましょう。

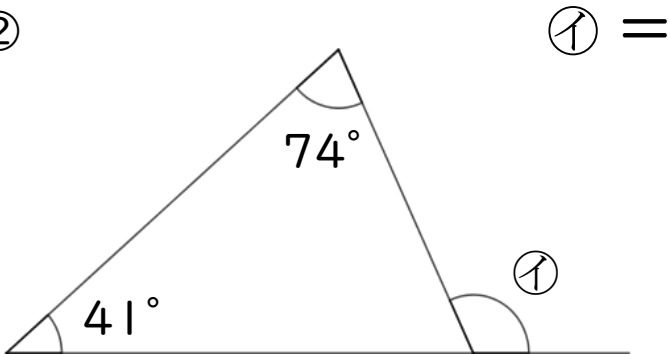
①



㉠ =

答え： \_\_\_\_\_

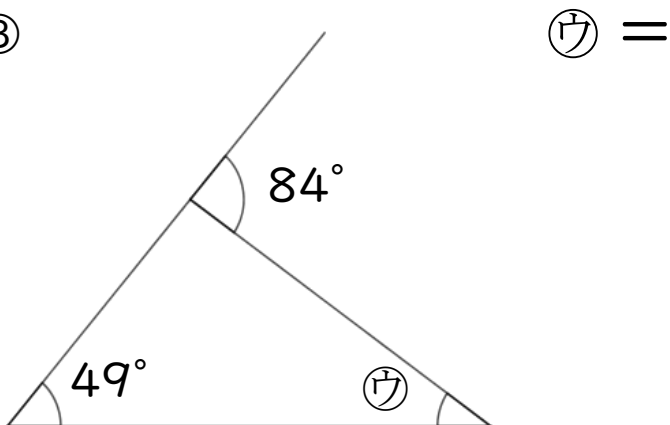
②



㉡ =

答え： \_\_\_\_\_

③



㉢ =

答え： \_\_\_\_\_





# 図形の角 3

## ◎ 三角形の外角

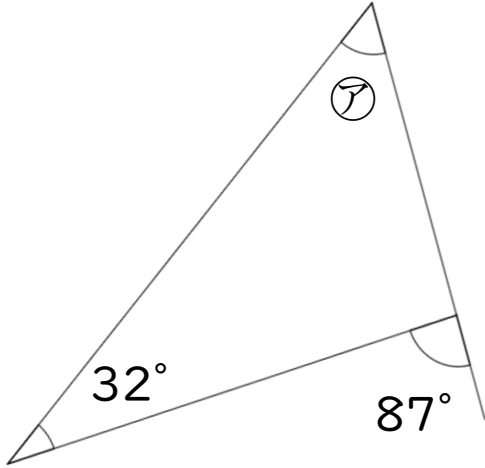


日にち：            月            日

名まえ \_\_\_\_\_

・ 次の図で、㉠～㉣の角度は何度ですか。  
計算で求めましょう。

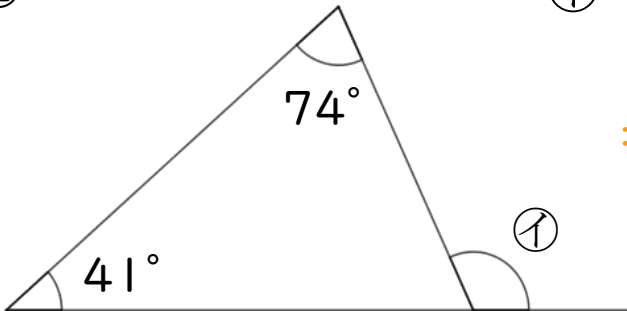
①



$$\begin{aligned}\text{㉠} &= 87 - 32 \\ &= 55\end{aligned}$$

答え： 55°

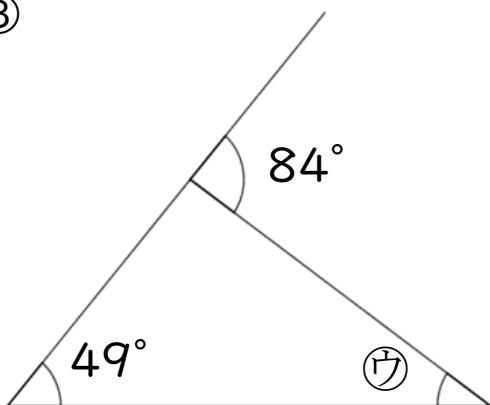
②



$$\begin{aligned}\text{㉡} &= 74 + 41 \\ &= 115\end{aligned}$$

答え： 115°

③



$$\begin{aligned}\text{㉢} &= 84 - 49 \\ &= 35\end{aligned}$$

答え： 35°

