



図形の角 3

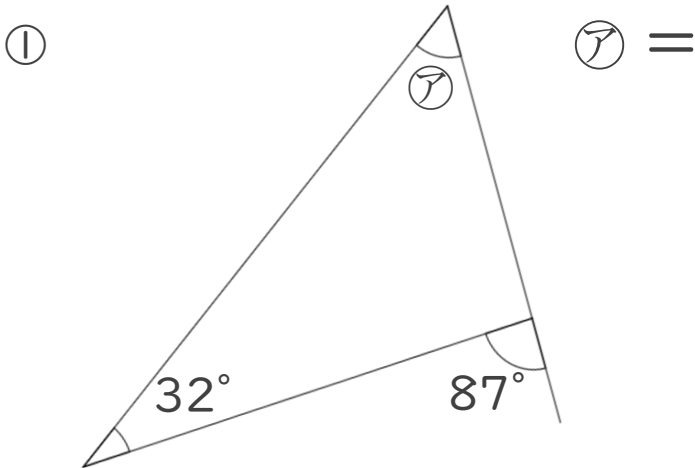
● 三角形の外角



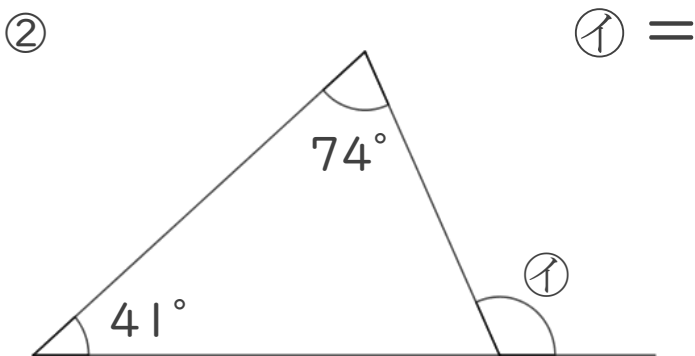
日にち： 月 日

名まえ _____

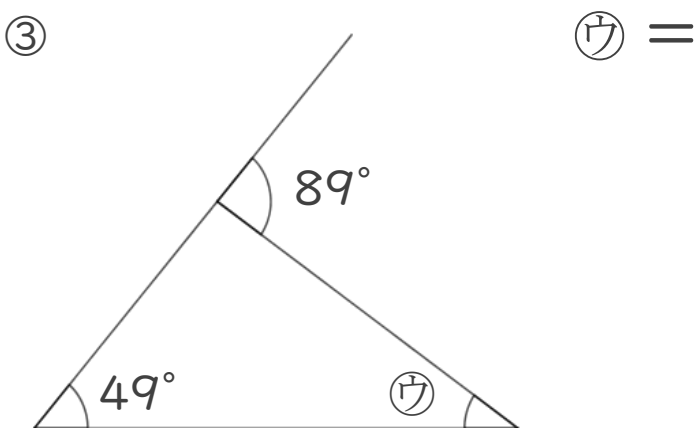
・ 次の図で、㉠～㉣の角度は何度ですか。
計算で求めましょう。



答え： _____



答え： _____



答え： _____



図形の角 3

● 三角形の外角

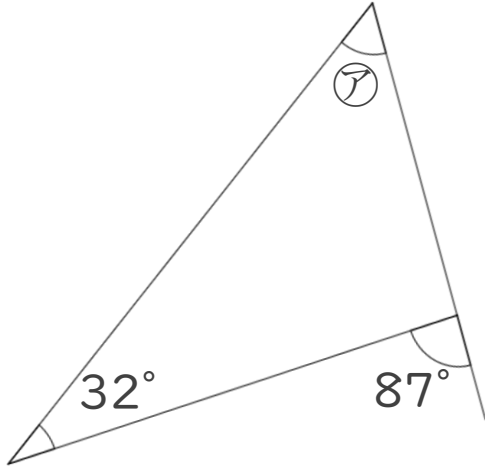


日にち： 月 日

名まえ _____

・次の図で、㉠～㉣の角度は何度ですか。
計算で求めましょう。

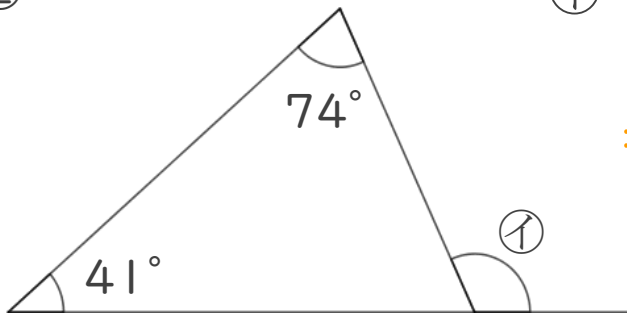
①



$$\begin{aligned} \text{㉠} &= 87 - 32 \\ &= 55 \end{aligned}$$

答え： 55°

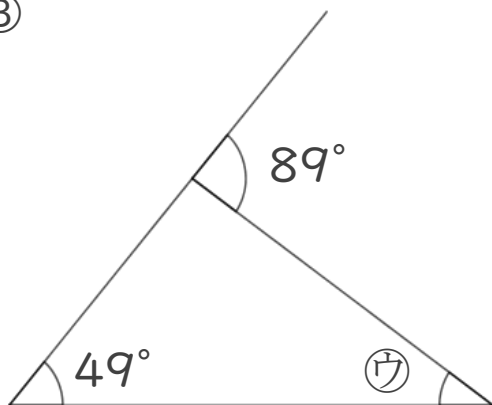
②



$$\begin{aligned} \text{㉡} &= 74 + 41 \\ &= 115 \end{aligned}$$

答え： 115°

③



$$\begin{aligned} \text{㉢} &= 89 - 49 \\ &= 40 \end{aligned}$$

答え： 40°