



分数と小数
整数の関係 3

分数の倍




日にち： 月 日

名まえ _____

・次の問いに分数で答えましょう。

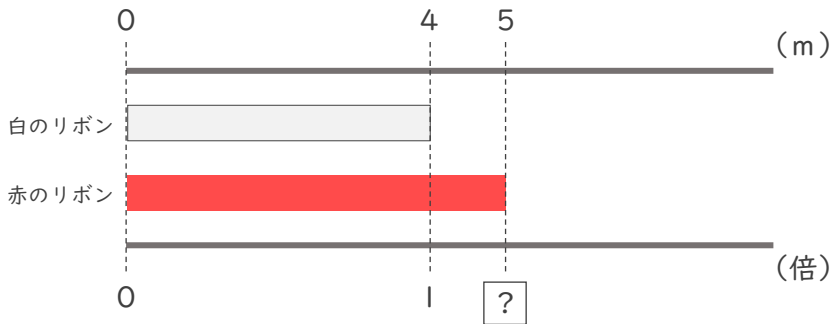
① 白のリボンは青のリボンの何倍ですか。



式：

答え (倍)

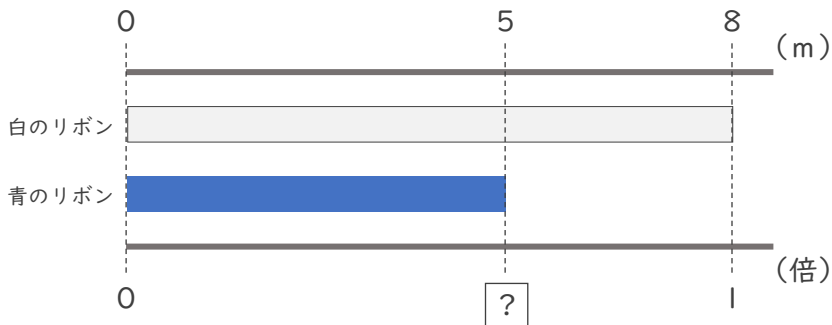
② 赤のリボンは白のリボンの何倍ですか。



式：

答え (倍)

③ 青のリボンは白のリボンの何倍ですか。



式：

答え (倍)



分数と小数
整数の関係 3

● 分数の倍



日にち： 月 日

名まえ _____

・ 次の問いに分数で答えましょう。

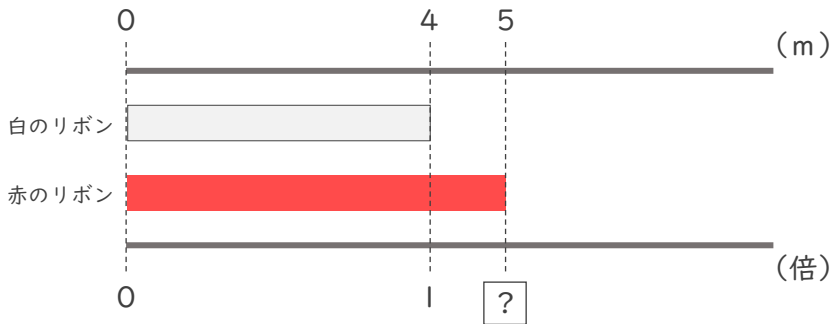
① 白のリボンは青のリボンの何倍ですか。



式： $6 \div 7 = \frac{6}{7}$

答え ($\frac{6}{7}$ 倍)

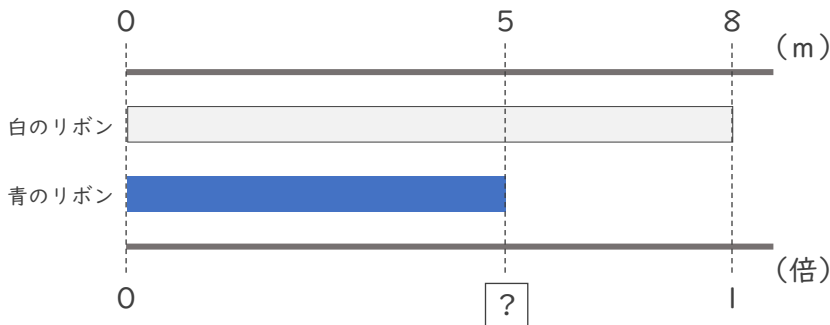
② 赤のリボンは白のリボンの何倍ですか。



式： $5 \div 4 = \frac{5}{4}$

答え ($\frac{5}{4}$ 倍)

③ 青のリボンは白のリボンの何倍ですか。



式： $5 \div 8 = \frac{5}{8}$

答え ($\frac{5}{8}$ 倍)