



四角形と
三角形の面積 2

● 平行四辺形の
面積を求める公式

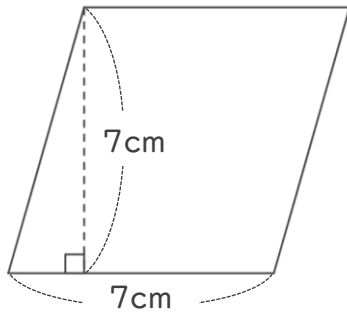


日にち： 月 日

名まえ _____

・ 次の平行四辺形の面積を計算でもとめましょう。

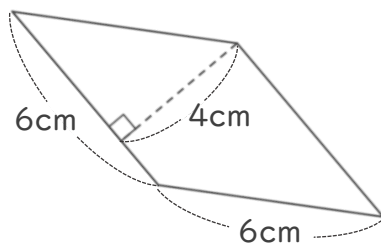
①



式：

答え： _____

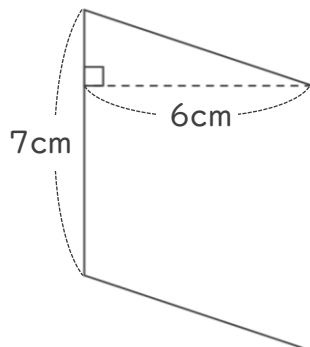
②



式：

答え： _____

③



式：

答え： _____



四角形と
三角形の面積 2

● 平行四辺形の
面積を求める公式

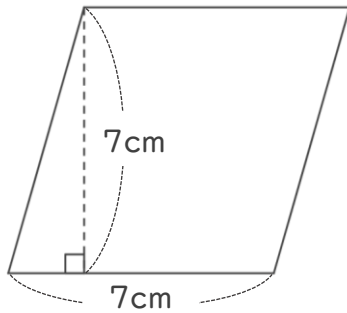


日にち： 月 日

名まえ _____

・ 次の平行四辺形の面積を計算でもとめましょう。

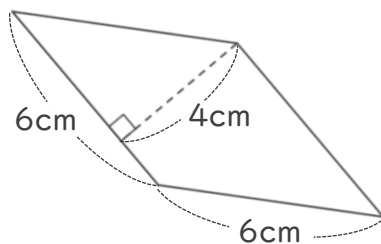
①



式： $7 \times 7 = 49$

答え： 49cm^2

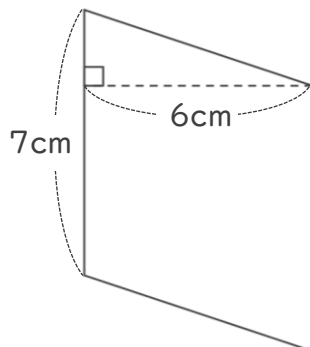
②



式： $6 \times 4 = 24$

答え： 24cm^2

③



式： $7 \times 6 = 42$

答え： 42cm^2

