



# 小数のかけ算 17

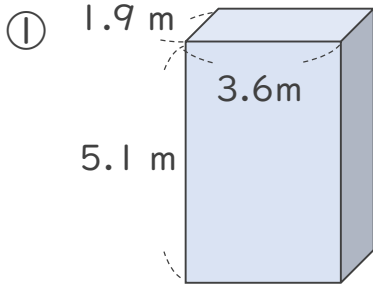


## ◎ 直方体の体積

日にち：          月          日

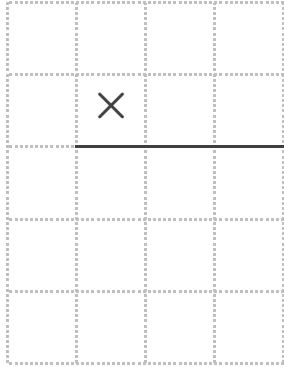
名まえ \_\_\_\_\_

・ 次の立体の体積は何  $m^3$  でしょうか。

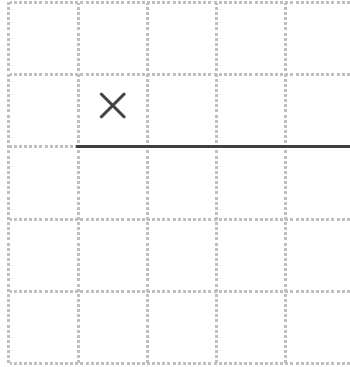


式： \_\_\_\_\_

<筆算>

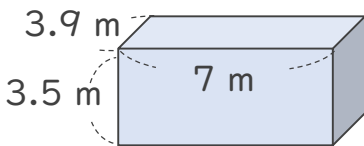


<筆算>



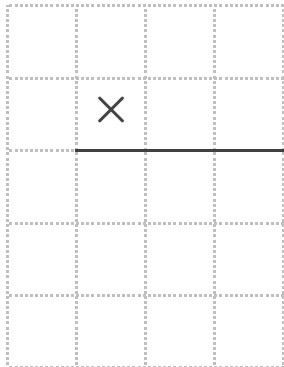
答え： \_\_\_\_\_

②

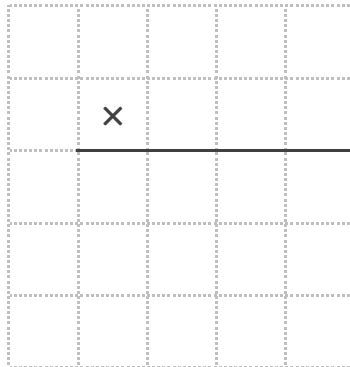


式： \_\_\_\_\_

<筆算>



<筆算>



答え： \_\_\_\_\_





# 小数のかけ算 17

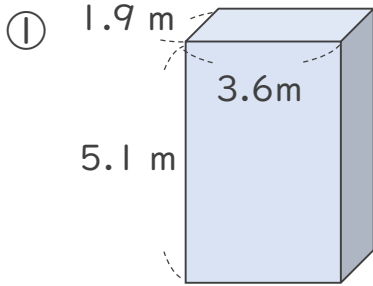
## ◎ 直方体の体積



日にち：            月            日

名まえ \_\_\_\_\_

・ 次の立体の体積は何  $m^3$  でしょうか。



式：  $1.9 \times 3.6 \times 5.1 = 34.884$

---

<筆算>

		1	.	9	
	×	3	.	6	
		1	1	4	
		5	7		
		6	.	8	4

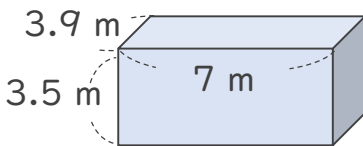
<筆算>

		6	.	8	4		
	×		5	.	1		
		6	8	4			
		3	4	2	0		
		3	4	.	8	8	4

答え：  $34.884 m^3$

---

②



式：  $3.9 \times 7 \times 3.5 = 95.55$

---

<筆算>

		3	.	9	
	×		7		
		2	7	.	3

<筆算>

		2	7	.	3	
	×		3	.	5	
		1	3	6	5	
		8	1	9		
		9	5	.	5	5

答え：  $95.55 m^3$

---

