



小数の倍2

◎ 短いリボンは長いリボンの何倍？

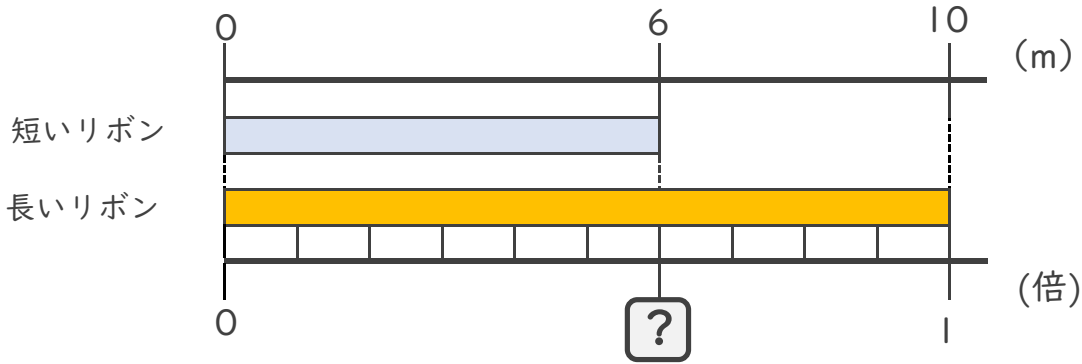


日にち： 月 日

名まえ _____

・ 次の問いに答えましょう。

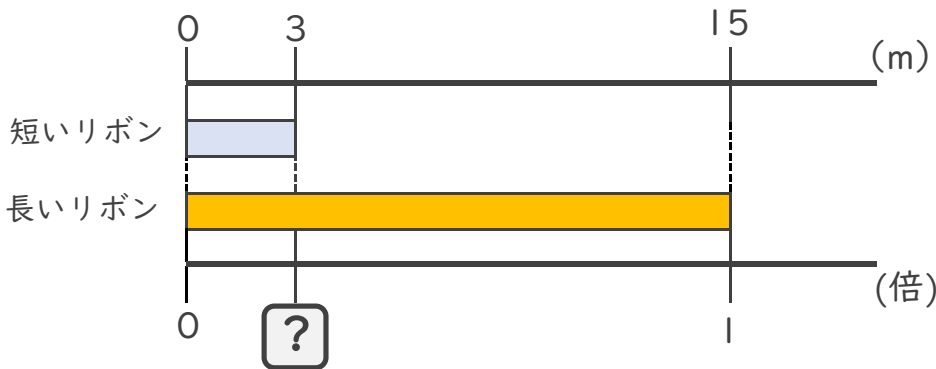
① 短いリボンは長いリボンの何倍でしょうか？



式： $6 \div$

答え： _____

② 短いリボンは長いリボンの何倍でしょうか？



式：


答え： _____

③ 12mのリボンと16mのリボンがあります。
短いリボンは長いリボンの何倍でしょうか？

式：

答え： _____





小数の倍2

◎ 短いリボンは長いリボンの何倍？

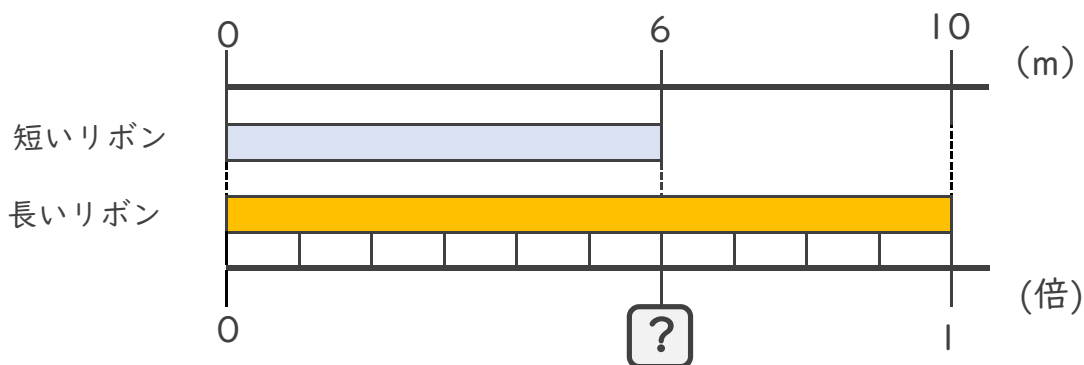


日にち： 月 日

名まえ _____

・ 次の問いに答えましょう。


① 短いリボンは長いリボンの何倍でしょうか？



式： $6 \div 10 = 0.6$

答え： 0.6倍

② 短いリボンは長いリボンの何倍でしょうか？



式： $3 \div 15 = 0.2$

答え： 0.2倍

③ 12mのリボンと16mのリボンがあります。
短いリボンは長いリボンの何倍でしょうか？

式： $12 \div 16 = 0.75$

答え： 0.75倍

