



# 小数の倍2

◎ 短いリボンは長いリボンの何倍？

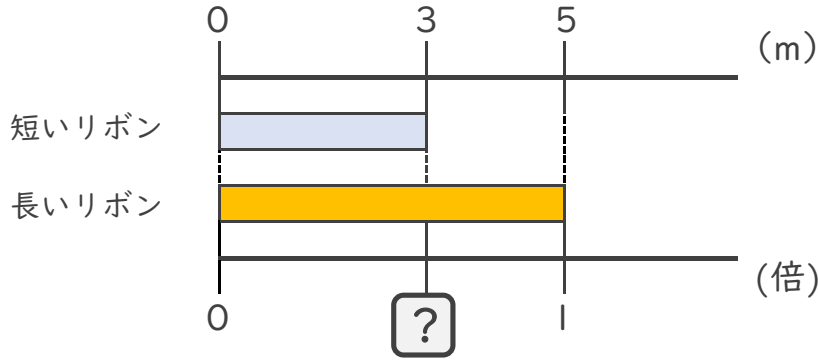


日にち：        月        日

名まえ \_\_\_\_\_

・ 次の問いに答えましょう。(うすい字は、なぞりましょう。)

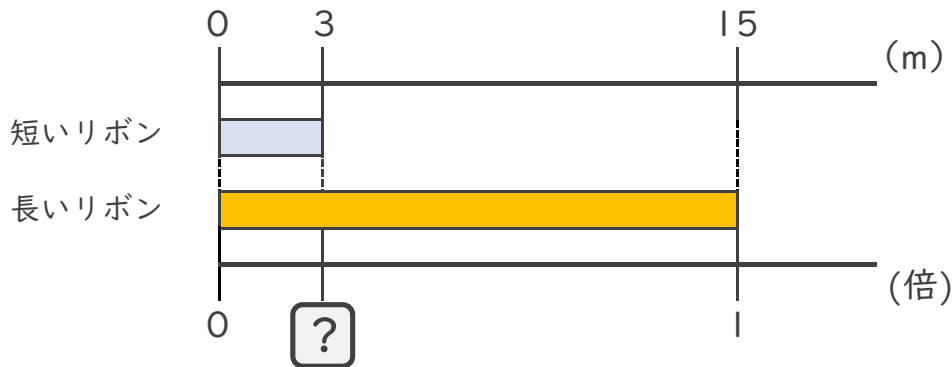
① 短いリボンは長いリボンの何倍ですか。



式：  $3 \div$

答え： \_\_\_\_\_

② 短いリボンは長いリボンの何倍ですか。



式：

答え： \_\_\_\_\_

③ 12mのリボンと16mのリボンがあります。  
短いリボンは長いリボンの何倍ですか。

式：

答え： \_\_\_\_\_





# 小数の倍2

◎ 短いリボンは  
長いリボンの何倍？

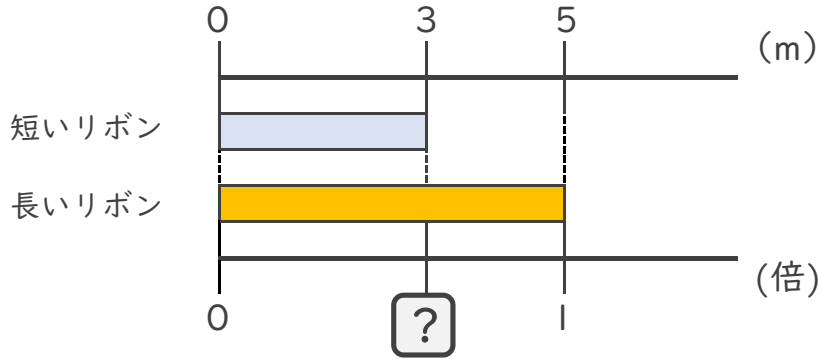


日にち：        月        日

名まえ \_\_\_\_\_

・ 次の問いに答えましょう。(うすい字は、なぞりましょう。)

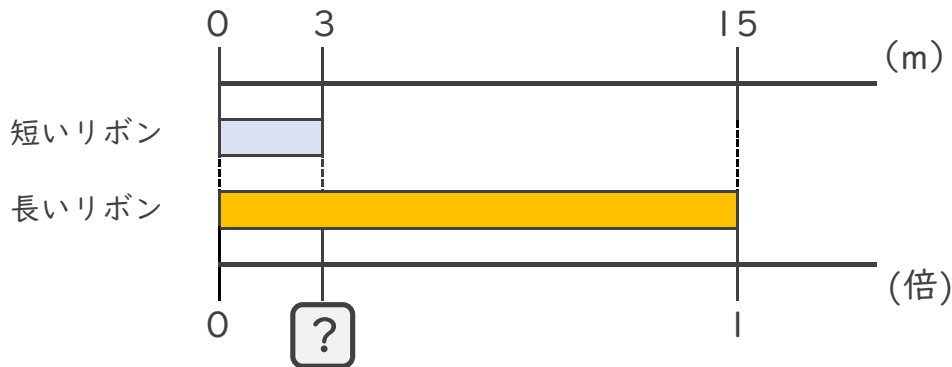
① 短いリボンは長いリボンの何倍ですか。



式：  $3 \div 5 = 0.6$

答え： 0.6倍

② 短いリボンは長いリボンの何倍ですか。



式：  $3 \div 15 = 0.2$

答え： 0.2倍

③ 12mのリボンと16mのリボンがあります。  
短いリボンは長いリボンの何倍ですか。

式：  $12 \div 16 = 0.75$

答え： 0.75倍

