



小数の倍①

◎ 長いリボンは
短いリボンの何倍？

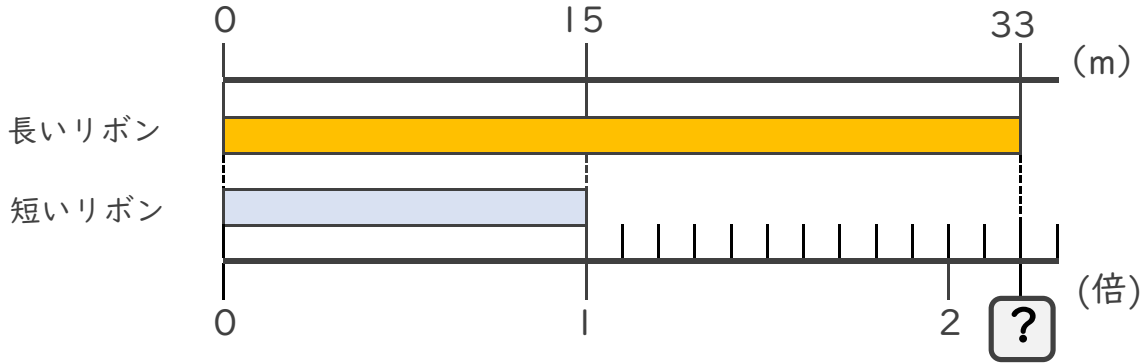


日にち： 月 日

名まえ _____

・ 次の問いに答えましょう。

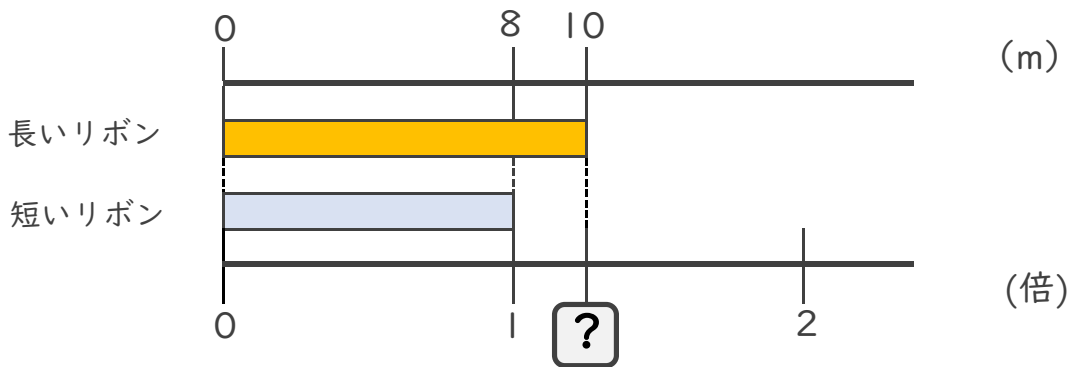
① 長いリボンは短いリボンの何倍でしょうか？



式： $15 \times \square =$
 $\square =$
 $\square =$

答え： _____

② 長いリボンは短いリボンの何倍でしょうか？



式：

答え： _____





小数の倍!

◎ 長いリボンは
短いリボンの何倍?

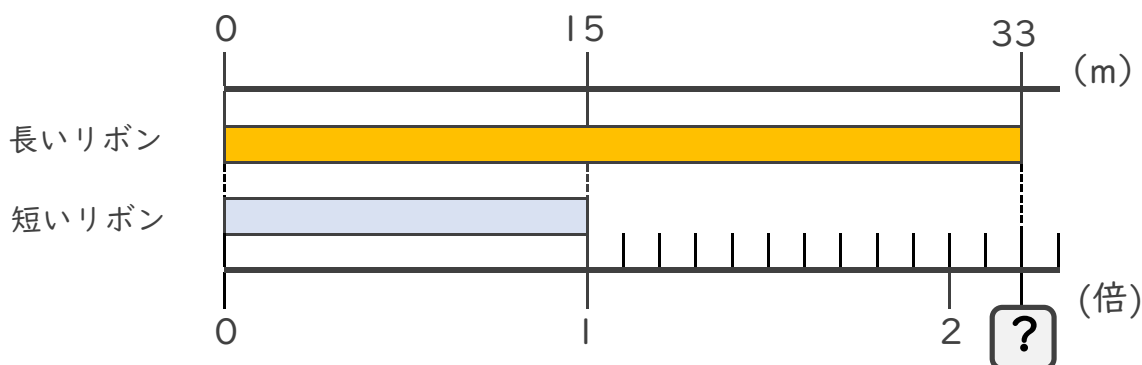


日にち： 月 日

名まえ _____

・ 次の問いに答えましょう。

① 長いリボンは短いリボンの何倍でしょうか?



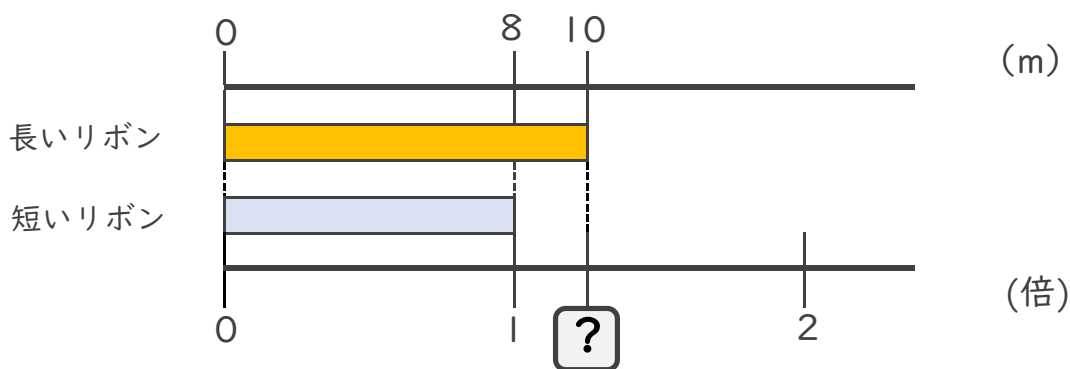
式： $15 \times \square = 33$

$\square = 33 \div 15$

$\square = 2.2$

答え： 2.2倍

② 長いリボンは短いリボンの何倍でしょうか?



式： $8 \times \square = 10$

$\square = 10 \div 8$

$\square = 1.25$

答え： 1.25倍

