



小数のかけ算 16

㊦ 長方形の面積

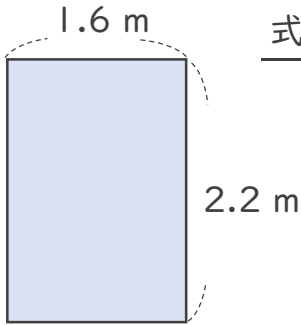


日にち： 月 日

名まえ _____

・ 次の長方形の面積は何㎡でしょうか。

①



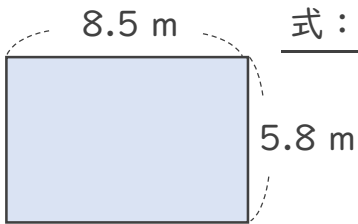
式：

答え：

<筆算>

	×		
<hr/>			

②



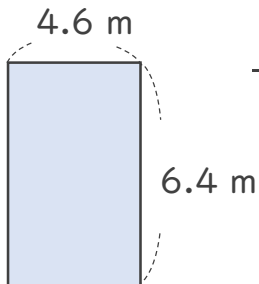
式：

答え：

<筆算>

	×		
<hr/>			

③



式：

答え：

<筆算>

	×		
<hr/>			





小数のかけ算 16

◎ 長方形の面積

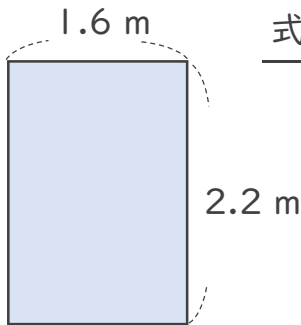


日にち： 月 日

名まえ _____

・ 次の長方形の面積は何㎡でしょうか。

①



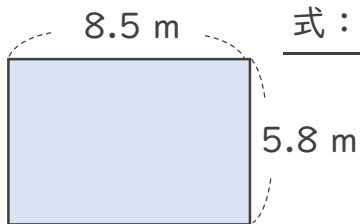
式： $2.2 \times 1.6 = 3.52$

答え： 3.52 m^2

<筆算>

		2.2
	×	1.6
		132
		22
		3.52

②



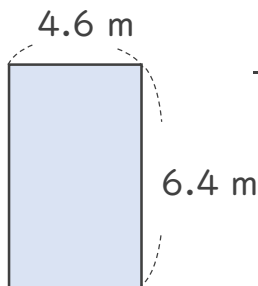
式： $5.8 \times 8.5 = 49.3$

答え： 49.3 m^2

<筆算>

		5.8
	×	8.5
		290
		464
		49.30

③



式： $6.4 \times 4.6 = 29.44$

答え： 29.44 m^2

<筆算>

		6.4
	×	4.6
		384
		256
		29.44

