



四角形と
三角形の面積 3

● 高さが外にある
平行四辺形の面積

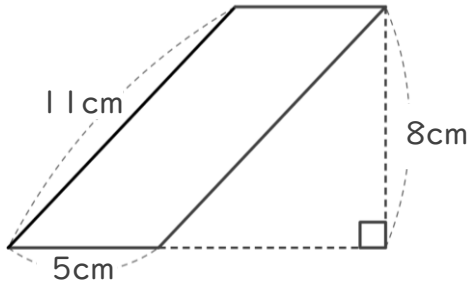


日にち： 月 日

名まえ _____

・ 次の平行四辺形の面積を計算でもとめましょう。

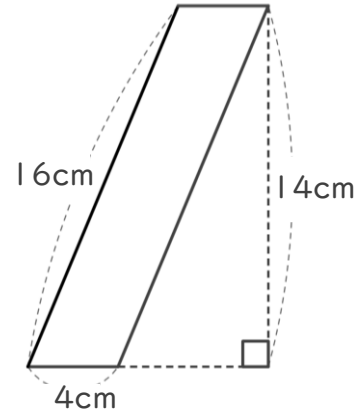
①



式：

答え： _____

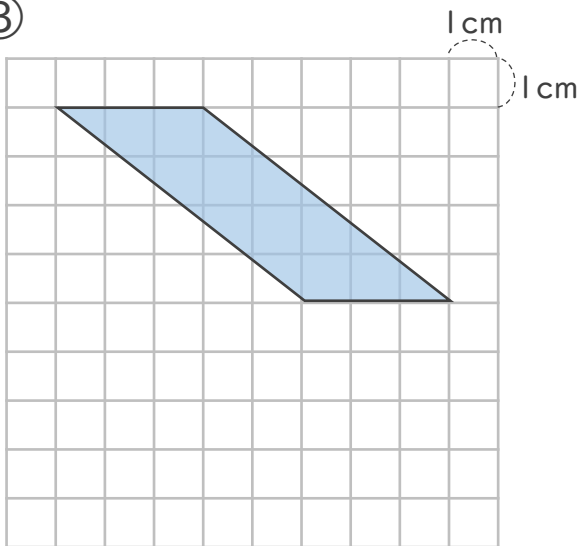
②



式：

答え： _____

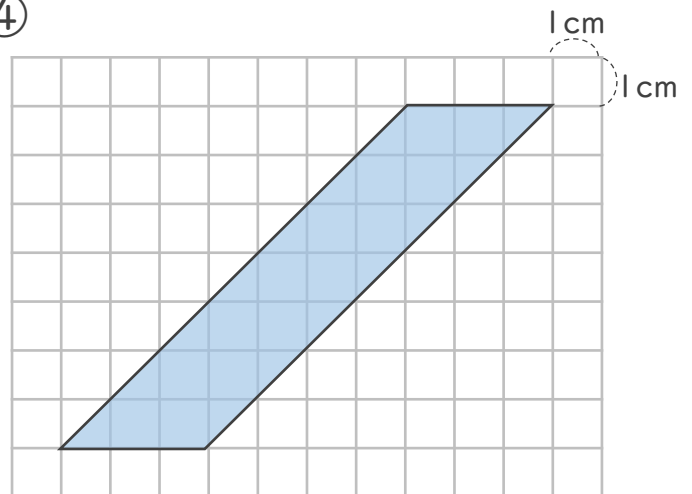
③



式：

答え： _____

④



式：

答え： _____



四角形と
三角形の面積 3

● 高さが外にある
平行四辺形の面積

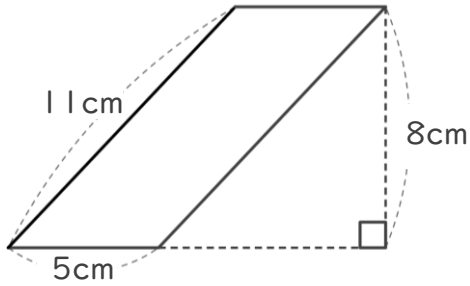


日にち： 月 日

名まえ _____

・ 次の平行四辺形の面積を計算でもとめましょう。

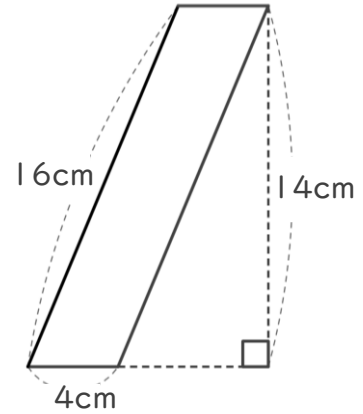
①



式： $5 \times 8 = 40$

答え： 40cm^2

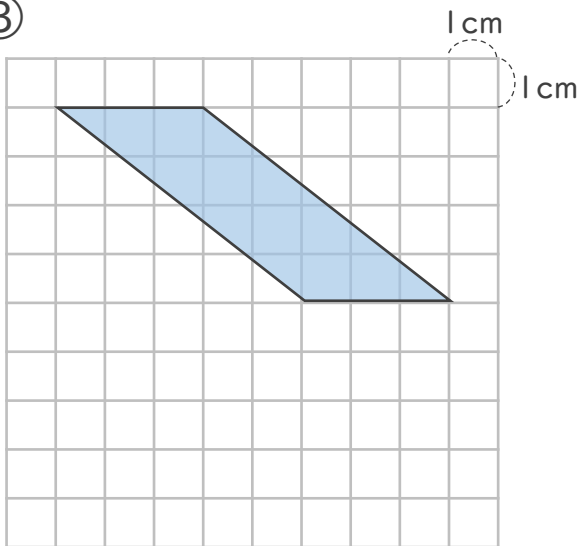
②



式： $4 \times 14 = 56$

答え： 56cm^2

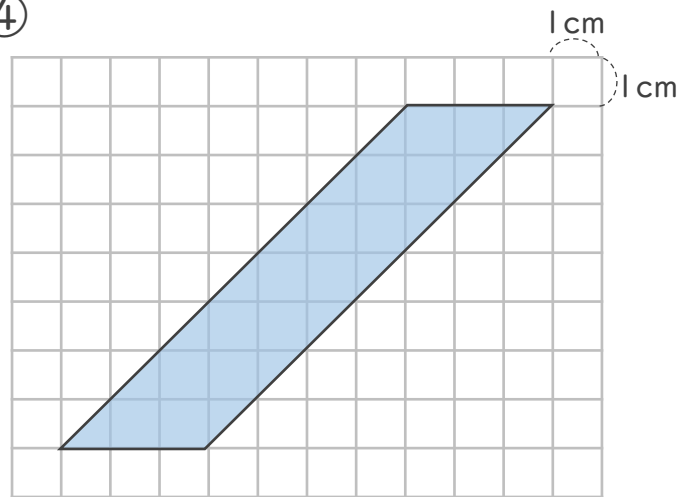
③



式： $3 \times 4 = 12$

答え： 12cm^2

④



式： $3 \times 7 = 21$

答え： 21cm^2