



小数のかけ算 17

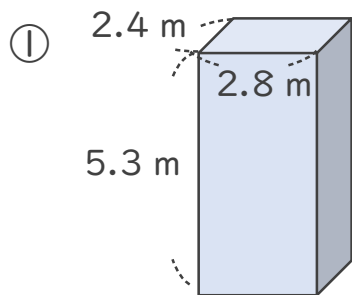


◎ 直方体の体積

日にち： 月 日

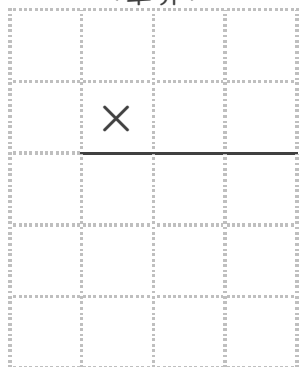
名まえ _____

・ 次の立体の体積は何 m^3 でしょうか。

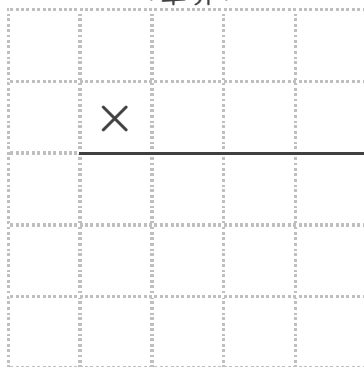


式： _____

<筆算>

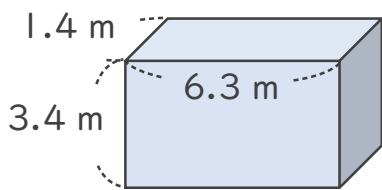


<筆算>



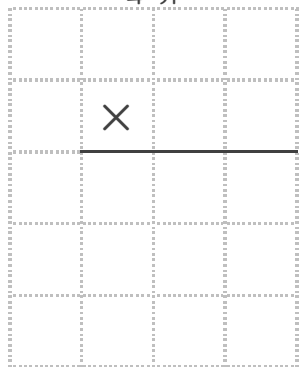
答え： _____

②

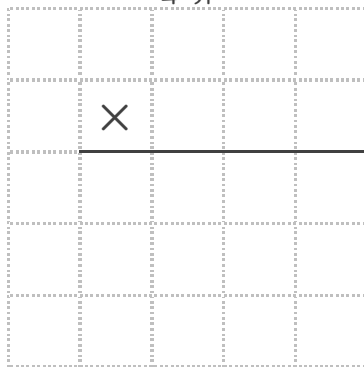


式： _____

<筆算>




<筆算>



答え： _____





小数のかけ算 17

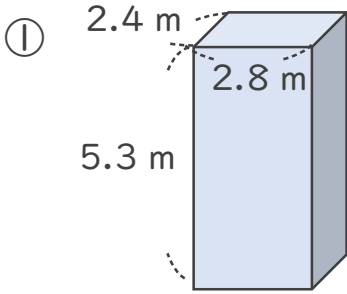


◎ 直方体の体積

日にち： 月 日

名まえ _____

・ 次の立体の体積は何 m^3 でしょうか。



式： $2.4 \times 2.8 \times 5.3 = 35.616$

<筆算>

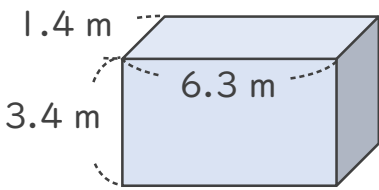
	2.4
×	2.8
<hr/>	
192	
48	
<hr/>	
6.72	

<筆算>

	6.72
×	5.3
<hr/>	
2016	
3360	
<hr/>	
35.616	

答え： $35.616 m^3$

②



式： $1.4 \times 6.3 \times 3.4 = 29.988$

<筆算>

	1.4
×	6.3
<hr/>	
42	
84	
<hr/>	
8.82	

<筆算>

	8.82
×	3.4
<hr/>	
3528	
2646	
<hr/>	
29.988	

答え： $29.988 m^3$

