

小数のかけ算 16

◎ 長方形の面積

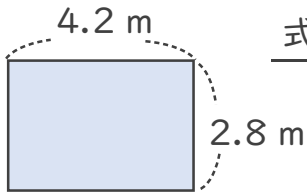


日にち： 月 日

名まえ _____

1. 次の長方形の面積は何㎡でしょうか。

①



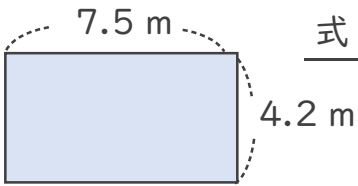
式： _____

答え： _____

<筆算>

	×		
<hr/>			

②



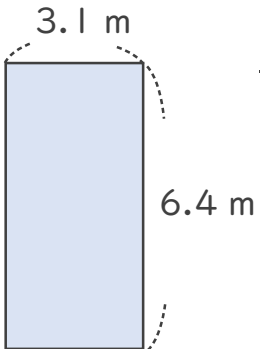
式： _____

答え： _____

<筆算>

	×		
<hr/>			

③



式： _____

答え： _____

<筆算>

	×		
<hr/>			





小数のかけ算 16

◎ 長方形の面積

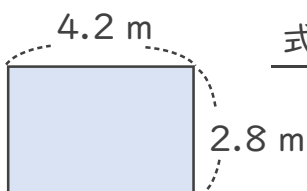


日にち： 月 日

名まえ _____

1. 次の長方形の面積は何㎡でしょうか。

①



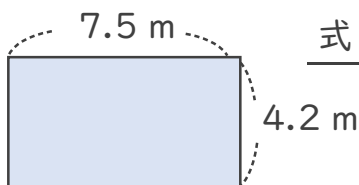
式： $2.8 \times 4.2 = 11.76$

<筆算>

		2.8
	×	4.2
		56
11		2
<hr/>		
11	.	76

答え： 11.76 m^2

②



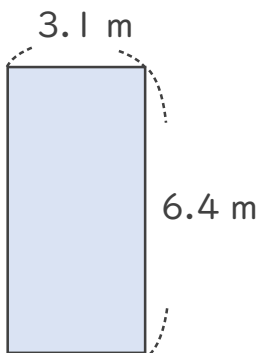
式： $4.2 \times 7.5 = 31.5$

<筆算>

		4.2
	×	7.5
		210
29		4
<hr/>		
31	.	50

答え： 31.5 m^2

③



式： $6.4 \times 3.1 = 19.84$

<筆算>

		6.4
	×	3.1
		64
19		2
<hr/>		
19	.	84

答え： 19.84 m^2

