



小数のわり算 18

◎ あまりのあるわり算
(商が整数)

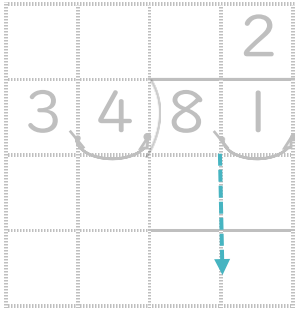


日にち： 月 日

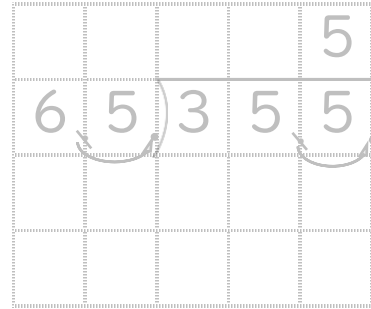
名まえ _____

- ・ 商は一の位まで求めて、あまりも出しましょう。
(うすい字は、なぞりましょう。)

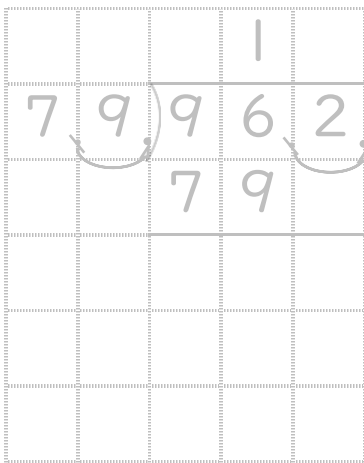
① $8.1 \div 3.4$




② $35.5 \div 6.5$



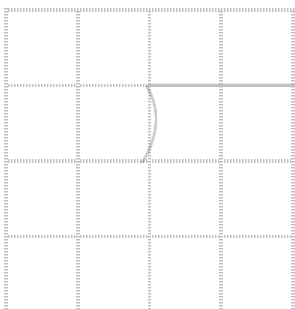
③ $96.2 \div 7.6$




④ $81.9 \div 2.2$



⑤ $8.5 \div 2.4$



⑥ $7.9 \div 1.8$





小数のわり算 18

◎ あまりのあるわり算
(商が整数)

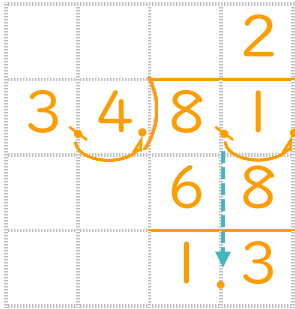


日にち： 月 日

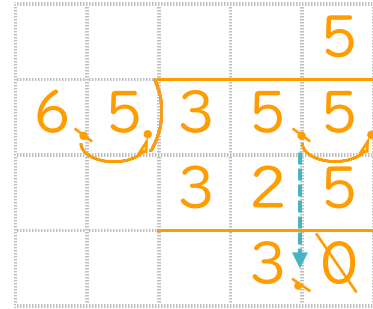
名まえ _____

- 商は一の位まで求めて、あまりも出しましょう。
(うすい字は、なぞりましょう。)

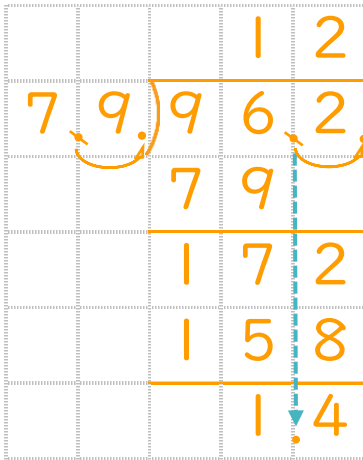
① $8.1 \div 3.4$



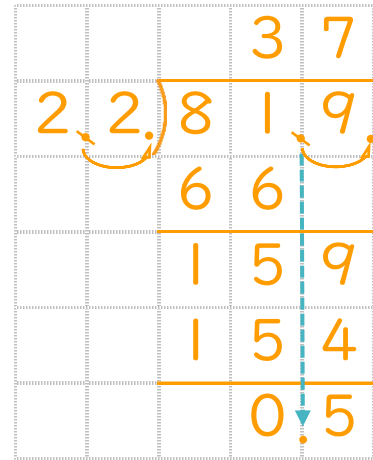
② $35.5 \div 6.5$



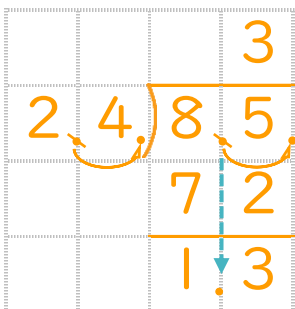
③ $96.2 \div 7.6$



④ $81.9 \div 2.2$



⑤ $8.5 \div 2.4$



⑥ $7.9 \div 1.8$

