



# 割合 8

● もとにする量・割合・  
比べられる量を見分ける



日にち：            月            日

名まえ \_\_\_\_\_

・ 次の文について、問題に答えましょう。

90人 の 60% は、 54人 です。

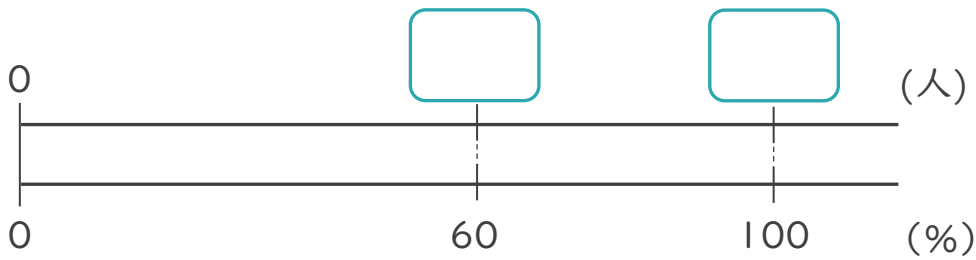
① 上の文で、もとにする量、比べられる量、割合は、それぞれ何ですか。

もとにする量・・・ (            )

比べられる量・・・ (            )

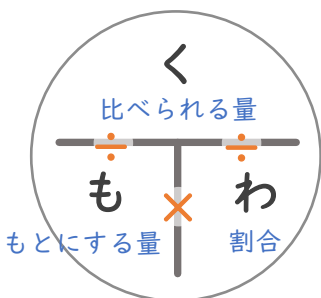
割合・・・ (            )

② 下の図で、 にあてはまる数を書きましょう。

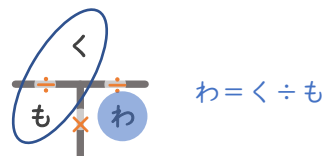


③ 次の  にあてはまる言葉を書きましょう。

割合 =  ÷



「く・も・わ」で覚えると便利！





# 割合 8

● もとにする量・割合・  
比べられる量を見分ける



日にち：            月            日

名まえ \_\_\_\_\_

・ 次の文について、問題に答えましょう。

90人 の 60% は、 54人 です。

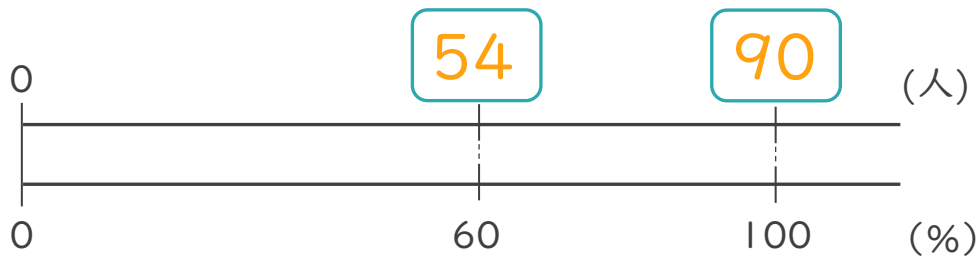
① 上の文で、もとにする量、比べられる量、割合は、それぞれ何ですか。

もとにする量・・・ ( **90人** )

比べられる量・・・ ( **54人** )

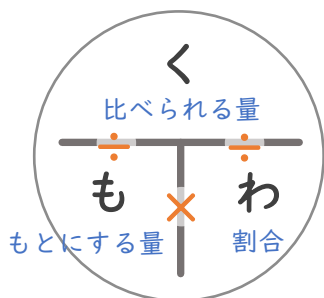
割合・・・ ( **60%** )

② 下の図で、 にあてはまる数を書きましょう。



③ 次の  にあてはまる言葉を書きましょう。

$$\text{割合} = \boxed{\text{比べられる量}} \div \boxed{\text{もとにする量}}$$



「く・も・わ」で覚えると便利！

