



# 小数の倍3

◎ リボンを小数倍した長さ

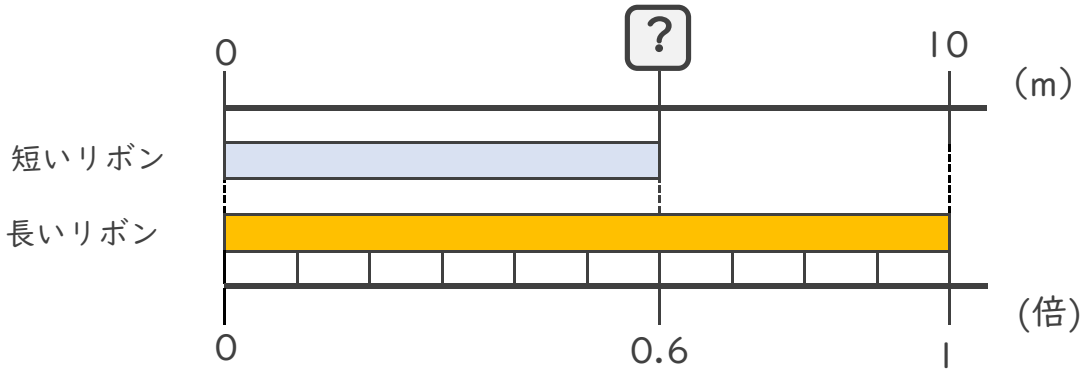


日にち： 月 日

名まえ \_\_\_\_\_

・ 次の問いに答えましょう。

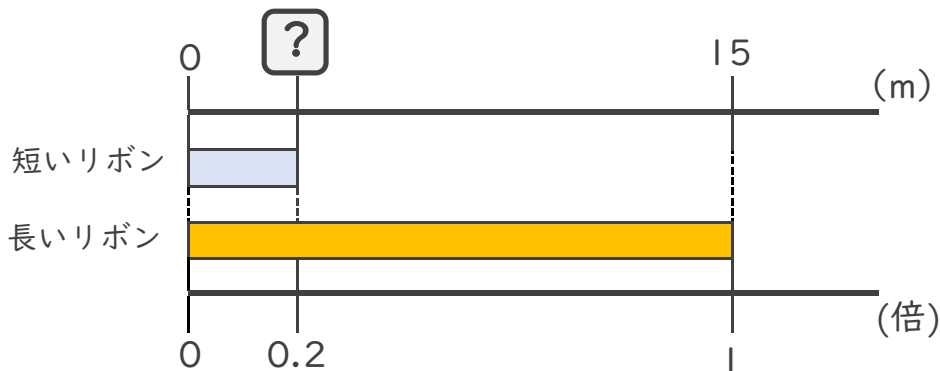
① 短いリボンは長いリボンの0.6倍の長さです。短いリボンの長さをもとめましょう。



式：

答え： \_\_\_\_\_

② 短いリボンは長いリボンの0.2倍の長さです。短いリボンの長さをもとめましょう。



式：

答え： \_\_\_\_\_

③ 16mの赤いリボンがあります。青いリボンは赤いリボンの0.25倍の長さです。青いリボンの長さをもとめましょう。

式：

答え： \_\_\_\_\_





# 小数の倍3

◎ リボンを小数倍した長さ

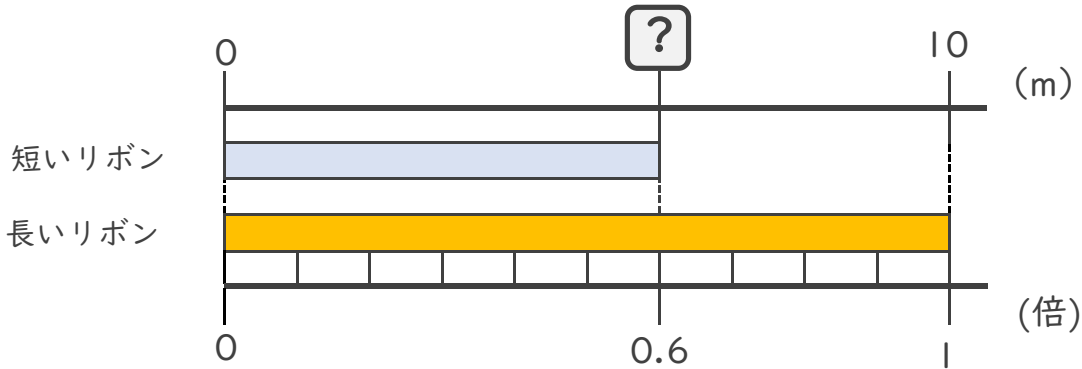


日にち： 月 日

名まえ

・ 次の問いに答えましょう。

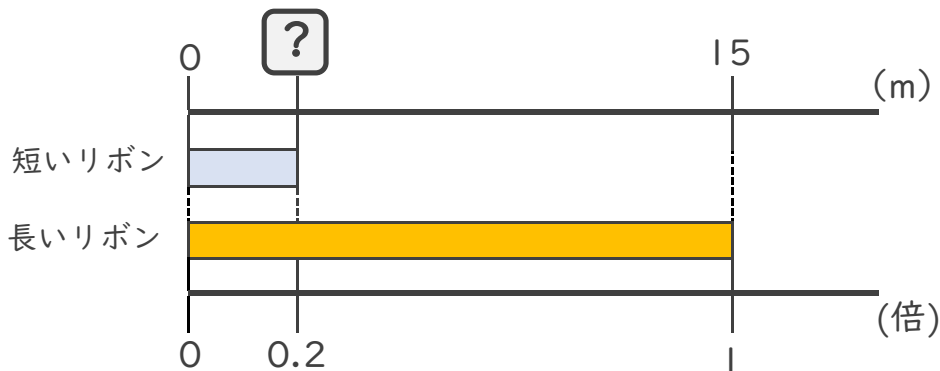
① 短いリボンは長いリボンの0.6倍の長さです。短いリボンの長さをもとめましょう。



式：  $10 \times 0.6 = 6$

答え： 6m

② 短いリボンは長いリボンの0.2倍の長さです。短いリボンの長さをもとめましょう。



式：  $15 \times 0.2 = 3$

答え： 3m

③ 16mの赤いリボンがあります。青いリボンは赤いリボンの0.25倍の長さです。青いリボンの長さをもとめましょう。

式：  $16 \times 0.25 = 4$

答え： 4m

