



小数の倍3

◎ リボンを小数倍した長さ

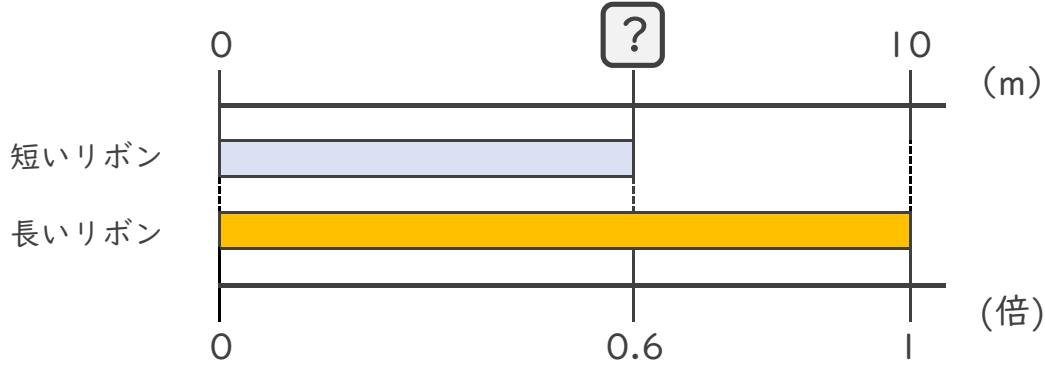


日にち： 月 日

名まえ _____

・ 次の問いに答えましょう。

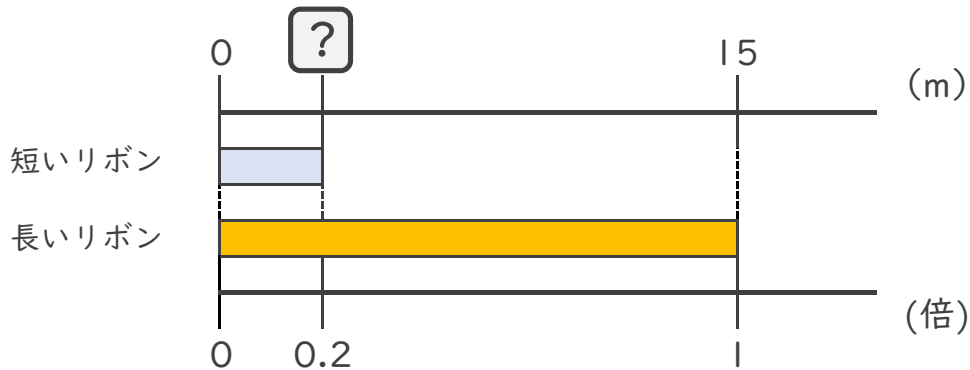
- ① 短いリボンは長いリボンの0.6倍の長さです。
 短いリボンの長さをもとめましょう。



式：

答え： _____

- ② 短いリボンは長いリボンの0.2倍の長さです。
 短いリボンの長さをもとめましょう。



式：

答え： _____

- ③ 16mの赤いリボンがあります。青いリボンは赤いリボンの0.25倍の長さです。青いリボンの長さをもとめましょう。

式：

答え： _____





小数の倍3

㊦ リボンを小数倍した長さ

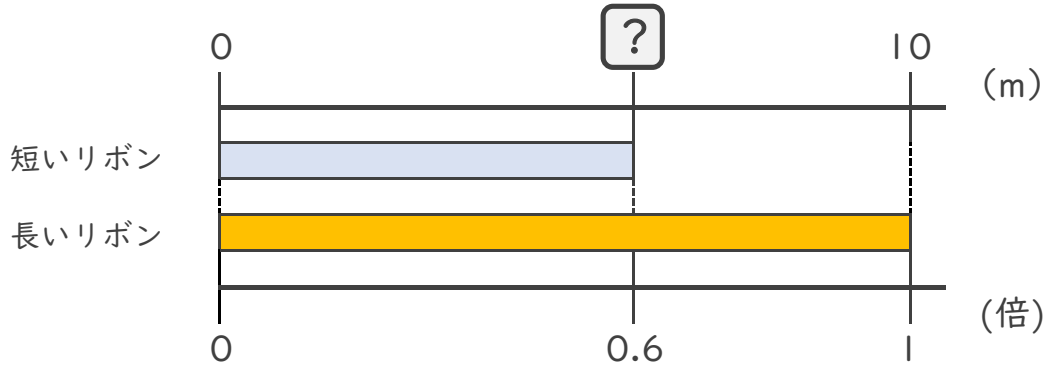


日にち： 月 日

名まえ _____

・ 次の問いに答えましょう。

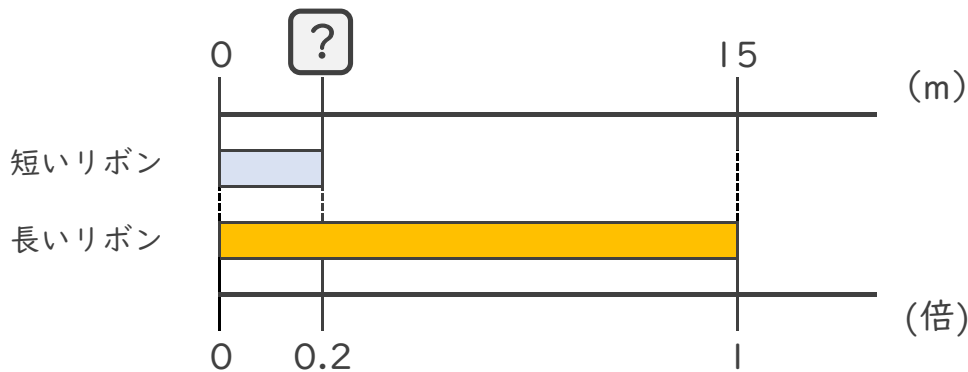
- ① 短いリボンは長いリボンの0.6倍の長さです。
 短いリボンの長さをもとめましょう。



式： $10 \times 0.6 = 6$

答え： 6m

- ② 短いリボンは長いリボンの0.2倍の長さです。
 短いリボンの長さをもとめましょう。



式： $15 \times 0.2 = 3$

答え： 3m

- ③ 16mの赤いリボンがあります。青いリボンは赤いリボンの0.25倍の長さです。青いリボンの長さをもとめましょう。

式： $16 \times 0.25 = 4$

答え： 4m

