



直方体や 立方体の体積 9

● m^3 で表す体積を求める

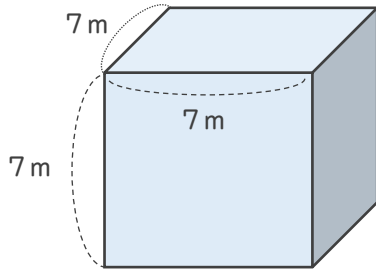


日にち： 月 日

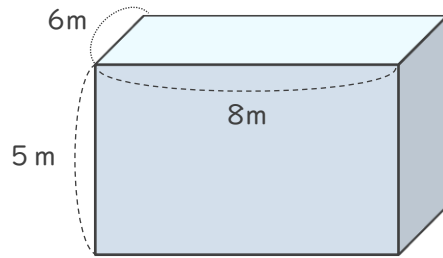
名まえ _____

・ 次の立方体や直方体の体積を求めましょう。

①



②



式：

式：

答え ()

答え ()

③ たて2 m、横7 m、高さ3 mの直方体

式：

答え ()

④ 1辺が3 mの立方体

式：

答え ()



直方体や 立方体の体積 9

● m^3 で表す体積を求める

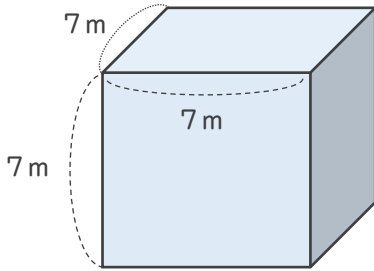


日にち： 月 日

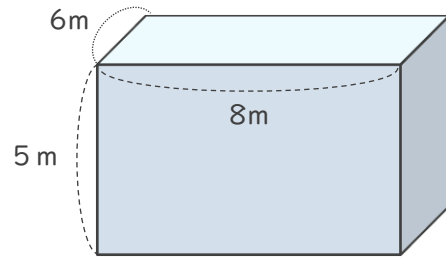
名まえ _____

・ 次の立方体や直方体の体積を求めましょう。

①



②



式： $7 \times 7 \times 7 = 343$

式： $6 \times 8 \times 5 = 240$

答え ($343 m^3$)

答え ($240 m^3$)

③ たて2 m、横7 m、高さ3 mの直方体

式： $2 \times 7 \times 3 = 42$

答え ($42 m^3$)

④ 1辺が3 mの立方体

式： $3 \times 3 \times 3 = 27$

答え ($27 m^3$)

