



分数と小数
整数の関係 3

● 分数の倍

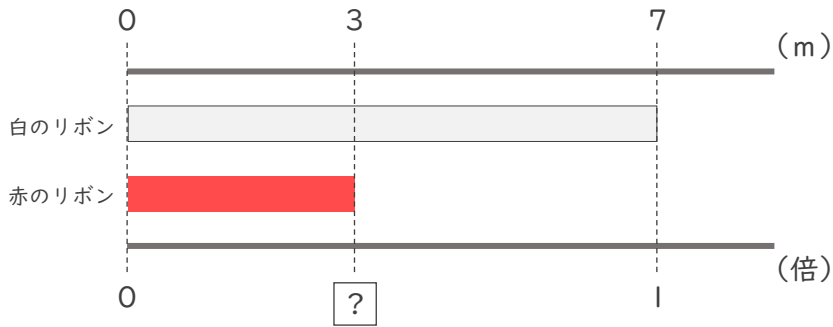


日にち： 月 日

名まえ _____

・次の問いに分数で答えましょう。

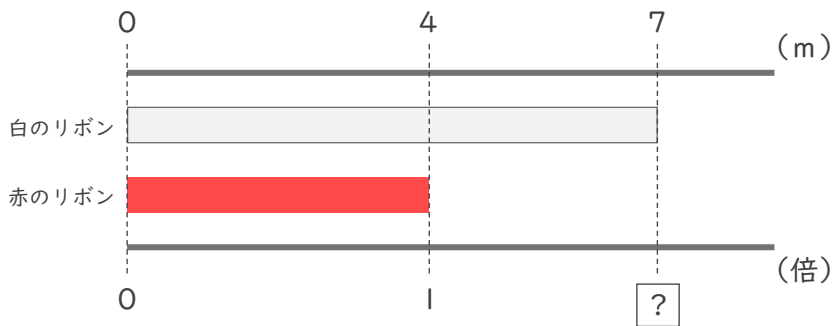
① 赤のリボンは白のリボンの何倍ですか。



式：

答え (倍)

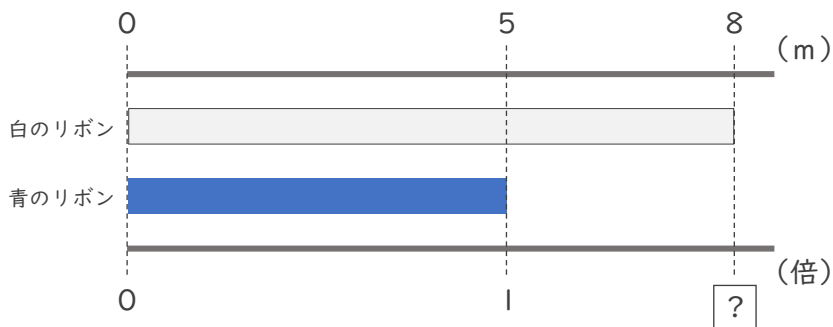
② 白のリボンは赤のリボンの何倍ですか。



式：

答え (倍)

③ 白のリボンは青のリボンの何倍ですか。



式：

答え (倍)



分数と小数、 整数の関係 3

● 分数の倍

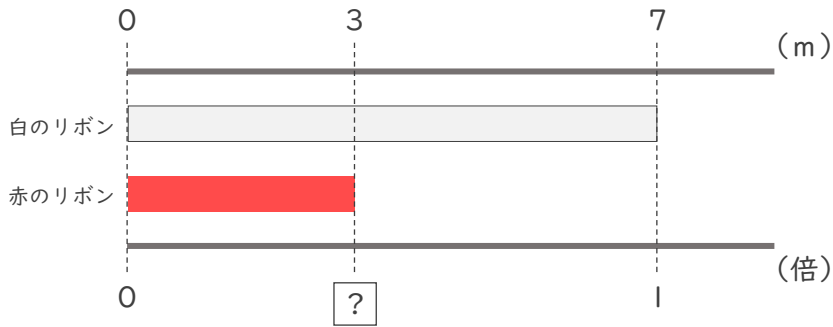


日にち： 月 日

名まえ _____

・ 次の問いに分数で答えましょう。

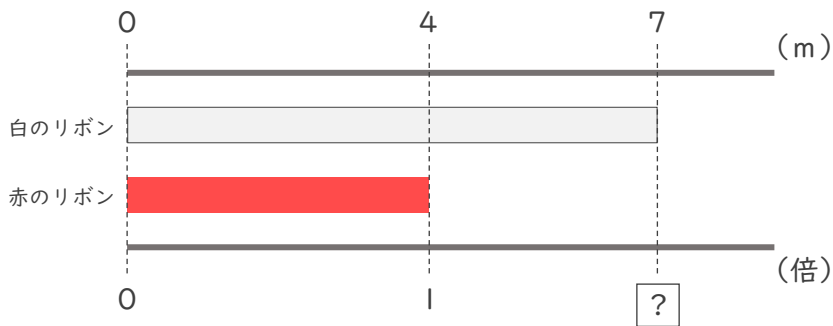
① 赤のリボンは白のリボンの何倍ですか。



$$\text{式： } 3 \div 7 = \frac{3}{7}$$

答え ($\frac{3}{7}$ 倍)

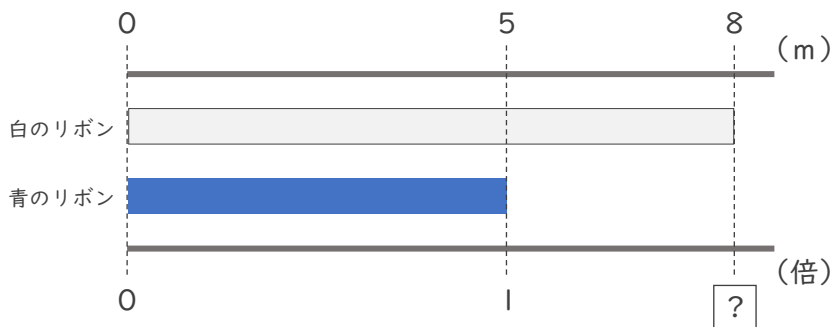
② 白のリボンは赤のリボンの何倍ですか。



$$\text{式： } 7 \div 4 = \frac{7}{4}$$

答え ($\frac{7}{4}$ 倍)

③ 白のリボンは青のリボンの何倍ですか。



$$\text{式： } 8 \div 5 = \frac{8}{5}$$

答え ($\frac{8}{5}$ 倍)