



単位数あたりの 大きさ 4

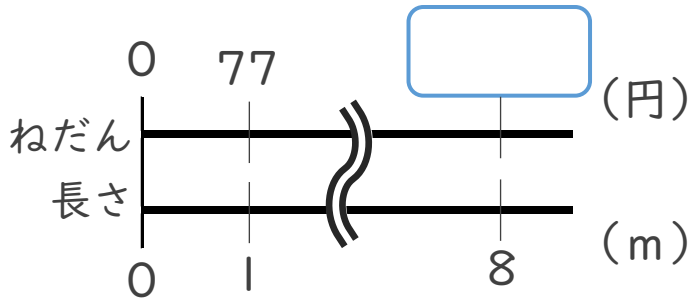
◎ 単位数から
比べられる量を求める



日にち： 月 日

名まえ _____

1 1 mあたりのねだんが77円のリボンの8 mのねだんはいくらでしょう。

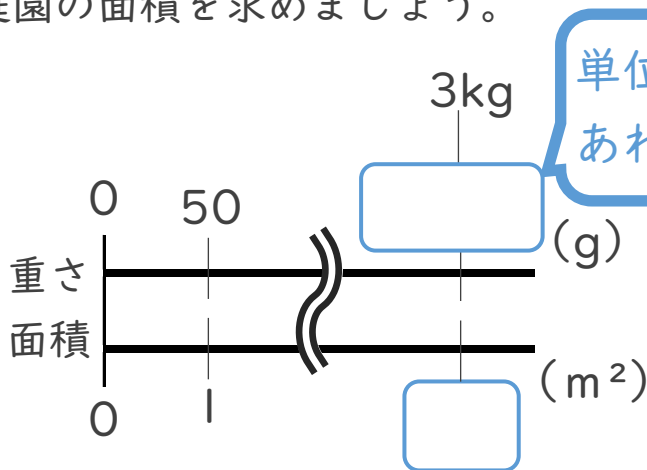


式：

筆算

答え： _____

2 庭園に、1 m²あたり50 gの肥料をまきます。肥料は3 kg必要です。
庭園の面積を求めましょう。



式：

筆算

答え： _____





単位数あたりの 大きさ 4

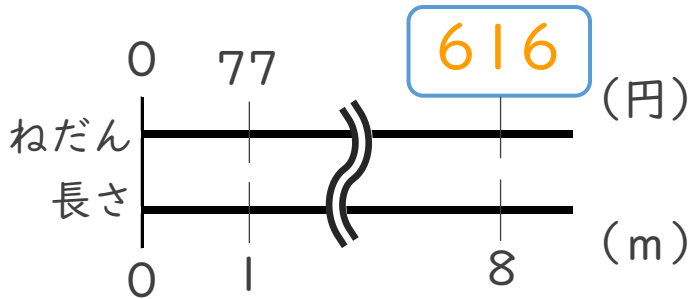
◎ 単位数から
比べられる量を求める



日にち： 月 日

名まえ _____

1 1 mあたりのねだんが77円のリボンの8 mのねだんはいくらでしょう。

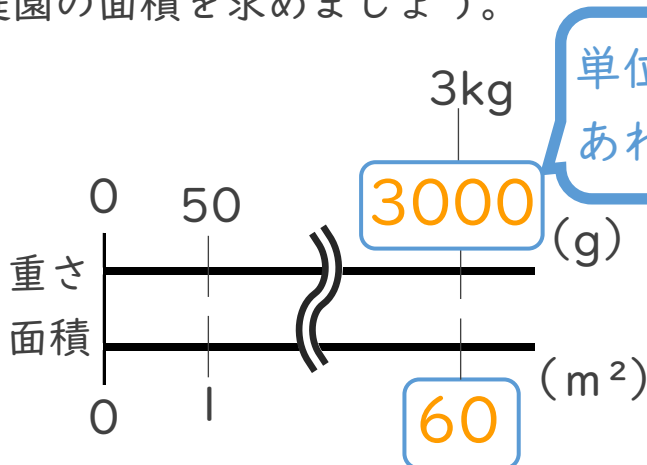


$$\text{式： } 77 \times 8 = 616$$

筆算

答え： 616 円

2 庭園に、1 m²あたり50 gの肥料をまきます。肥料は3 kg必要です。
庭園の面積を求めましょう。



$$\text{式： } 3000 \div 50 = 60$$

筆算

答え： 60 m²

