



## 合同な図形 6


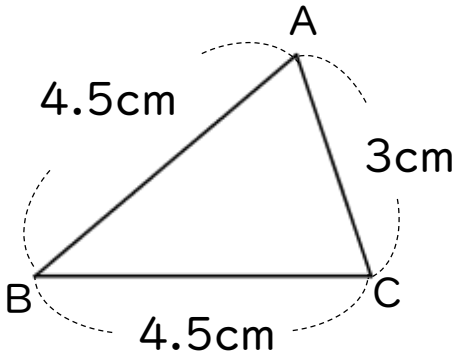
◎ 合同な三角形の作図  
(3組の辺)



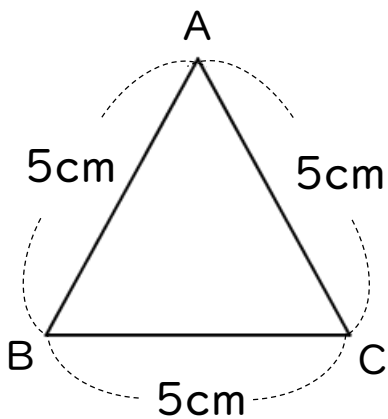
日にち：            月            日

名まえ \_\_\_\_\_

1 次の三角形ABCと合同な三角形をかきなさい。



2 下の図のような三角形を、図にかかれてある長さに直してかきましょう。





## 合同な図形 6

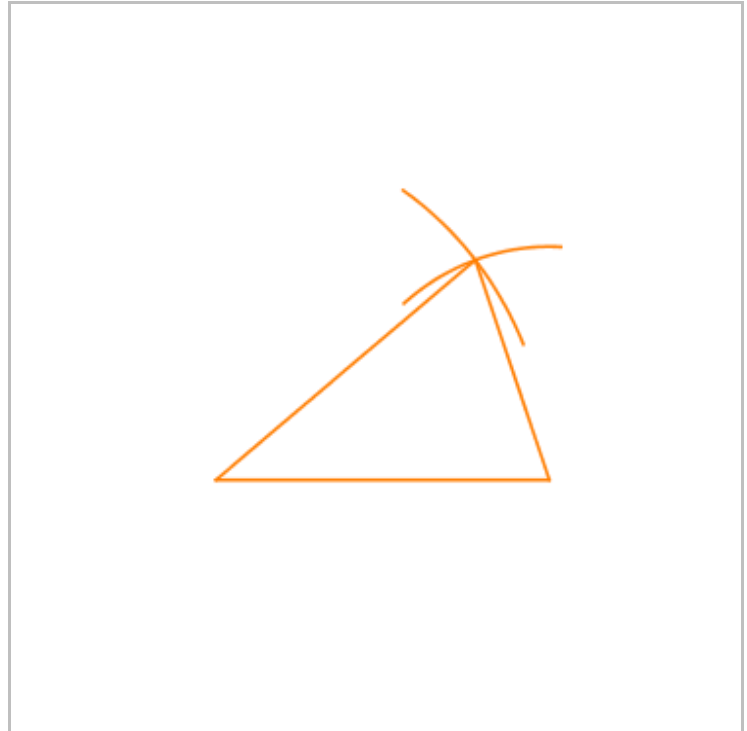
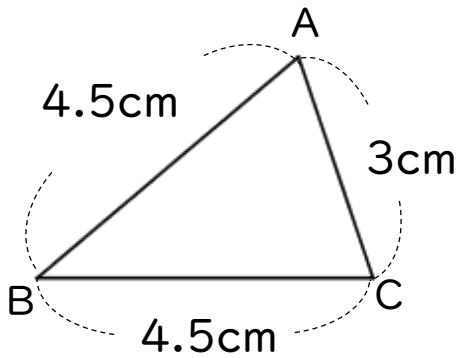
◎ 合同な三角形の作図  
(3組の辺)



日にち：            月            日

名まえ \_\_\_\_\_

1 次の三角形ABCと合同な三角形をかきなさい。



2 下の図のような三角形を、図にかかされている長さに直してかきましょう。

