



四角形と
三角形の面積 2

● 平行四辺形の
面積を求める公式

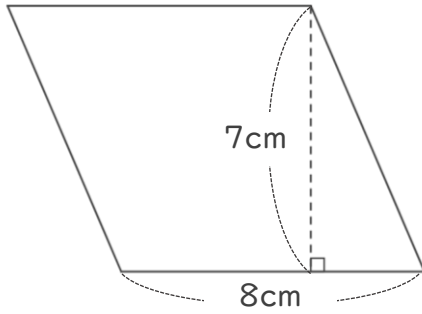


日にち： 月 日

名まえ _____

・ 次の平行四辺形の面積を計算で求めましょう。

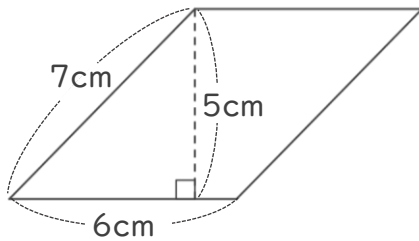
①



式：

答え： _____

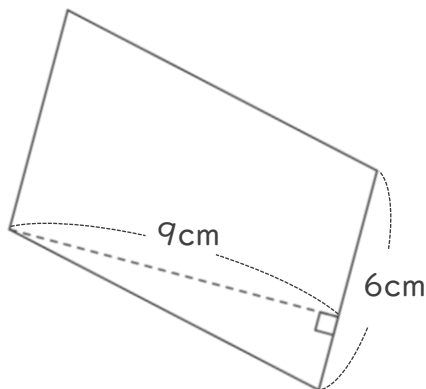
②



式：

答え： _____

③



式：

答え： _____



四角形と
三角形の面積 2

● 平行四辺形の
面積を求める公式

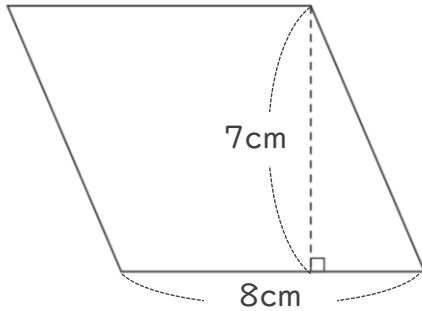


日にち： 月 日

名まえ _____

・ 次の平行四辺形の面積を計算で求めましょう。

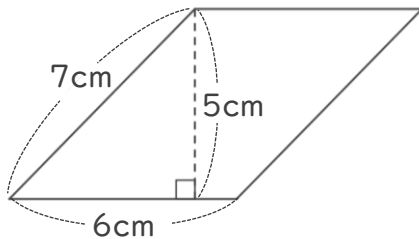
①



式： $8 \times 7 = 56$

答え： 56cm^2

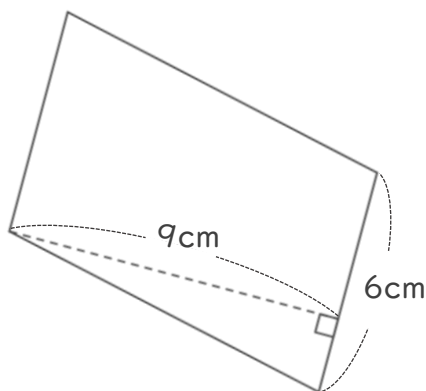
②



式： $6 \times 5 = 30$

答え： 30cm^2

③



式： $6 \times 9 = 54$

答え： 54cm^2