

分数のたし算とひき算 I

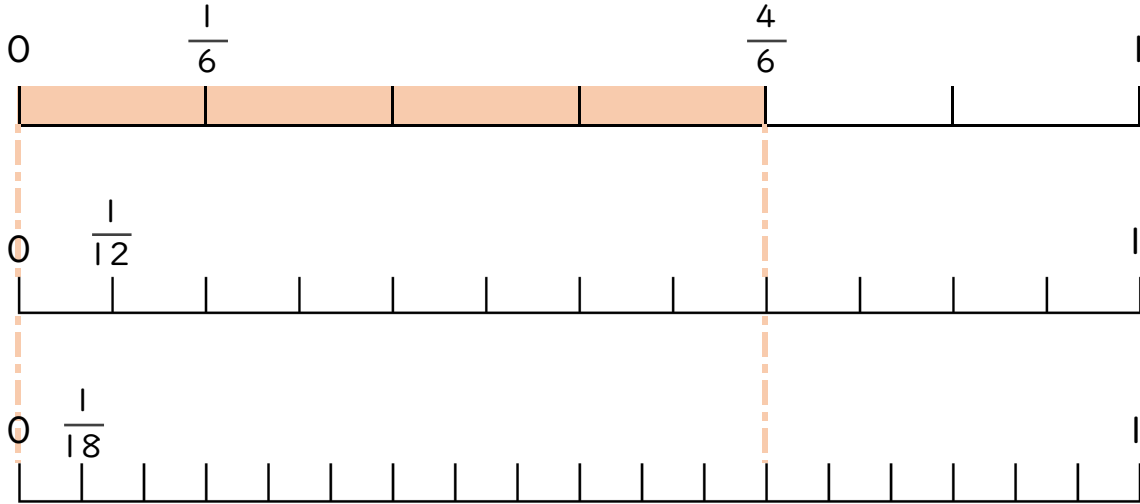
◎ 数直線と大きさの等しい分数



日にち： 月 日

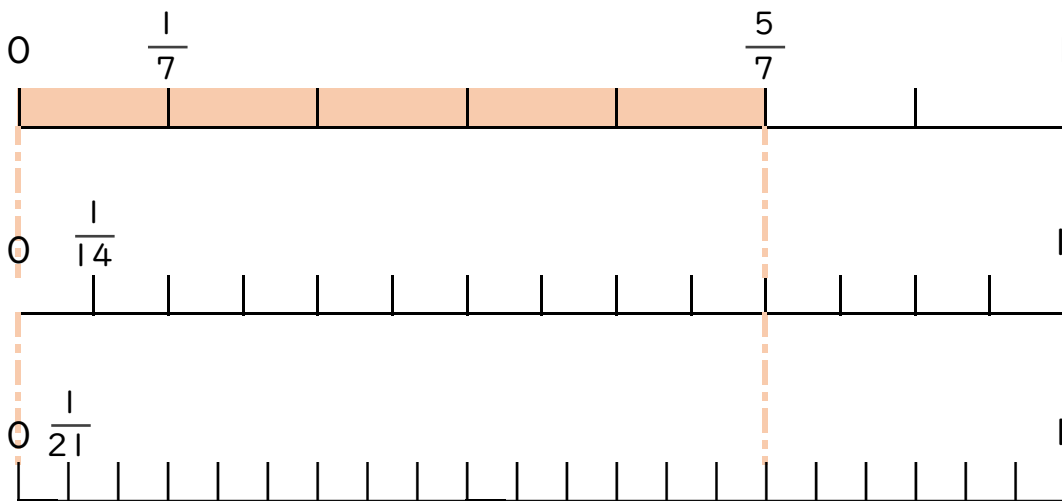
名まえ _____

1 $\frac{4}{6}$ と大きさの等しい分数を2つ見つけましょう。



答え _____

2 $\frac{5}{7}$ と大きさの等しい分数を2つ見つけましょう。



答え _____



分数のたし算とひき算 I

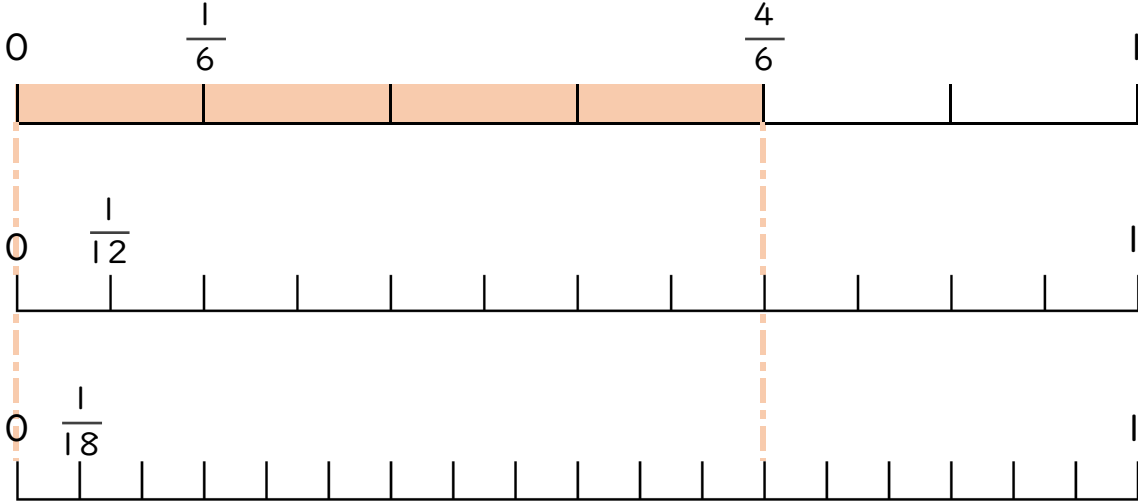
◎ 数直線と大きさの等しい分数



日にち： 月 日

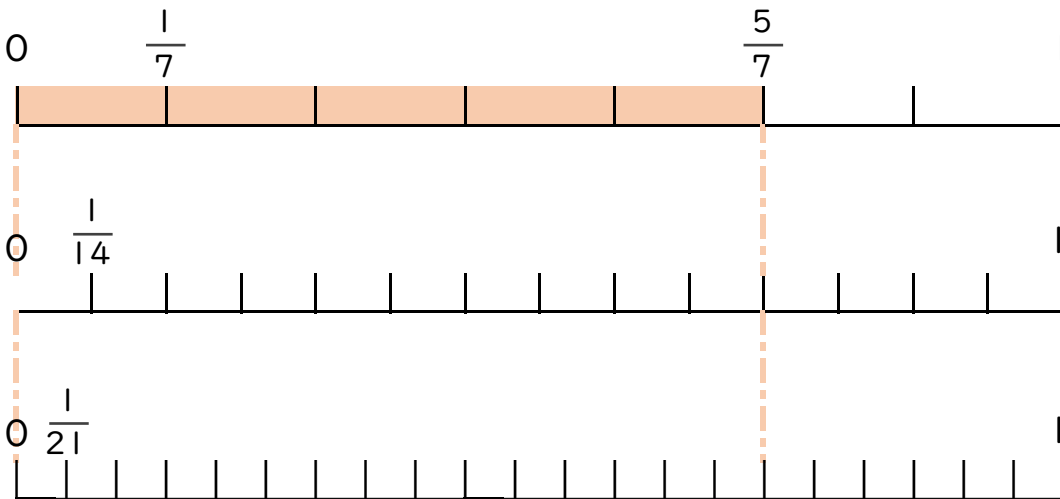
名まえ _____

1 $\frac{4}{6}$ と大きさの等しい分数を2つ見つけましょう。



答え $\frac{8}{12}$ と $\frac{12}{18}$

2 $\frac{5}{7}$ と大きさの等しい分数を2つ見つけましょう。



答え $\frac{10}{14}$ と $\frac{15}{21}$

