



小数の倍①

◎ 長いリボンは
短いリボンの何倍？

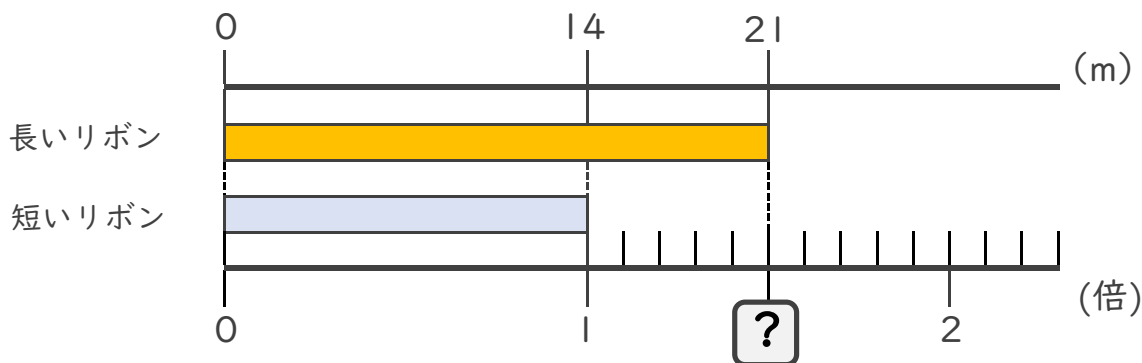


日にち： 月 日

名まえ _____

・ 次の問いに答えましょう。

① 長いリボンは短いリボンの何倍でしょうか？



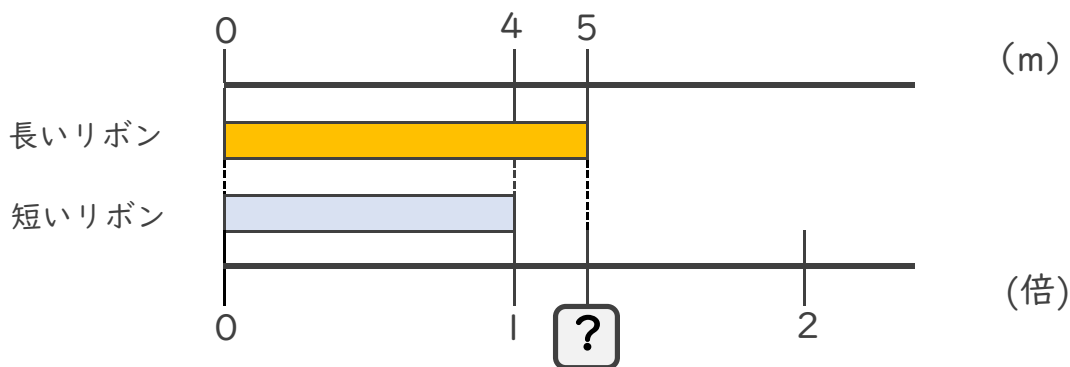
式： $14 \times \square =$

$\square = \div$

$\square =$

答え： _____


② 長いリボンは短いリボンの何倍でしょうか？



式：

答え： _____





小数の倍!

◎ 長いリボンは
短いリボンの何倍?

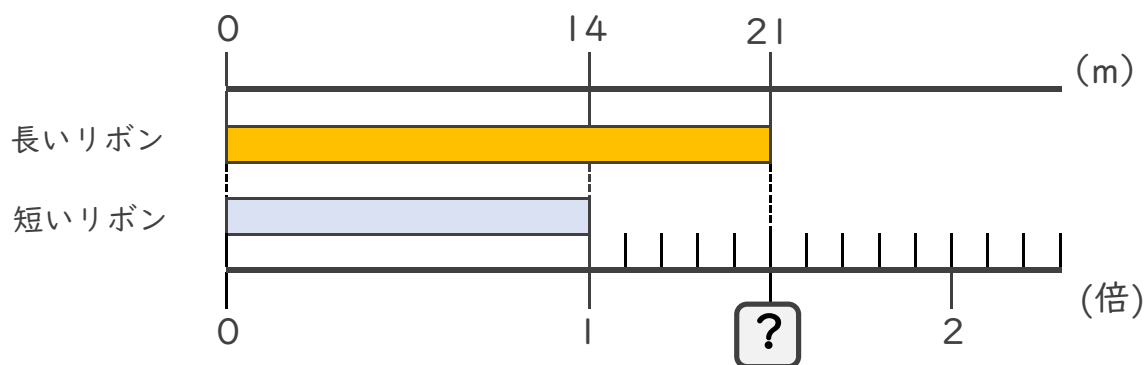


日にち： 月 日

名まえ _____

・ 次の問いに答えましょう。

① 長いリボンは短いリボンの何倍でしょうか?



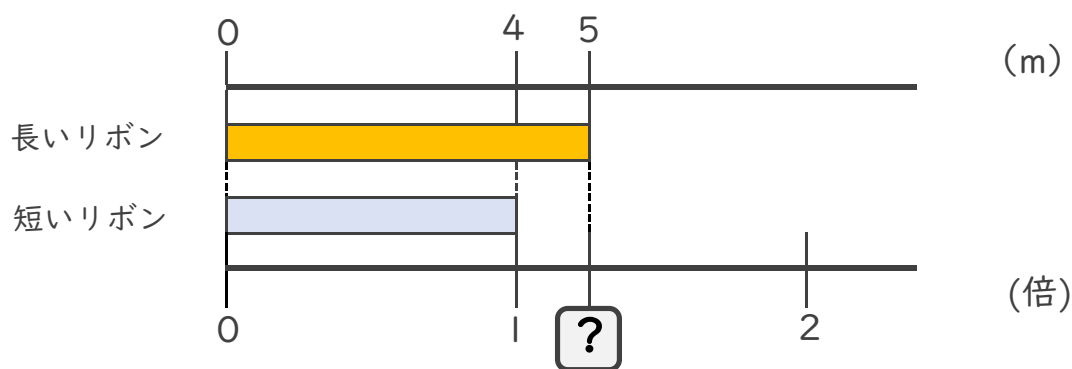
式： $14 \times \square = 21$

$\square = 21 \div 14$

$\square = 1.5$

答え： 1.5倍

② 長いリボンは短いリボンの何倍でしょうか?



式： $5 \times \square = 4$

$\square = 5 \div 4$

$\square = 1.25$

答え： 1.25倍

