



# 小数の倍①

◎ 長いリボンは  
短いリボンの何倍？

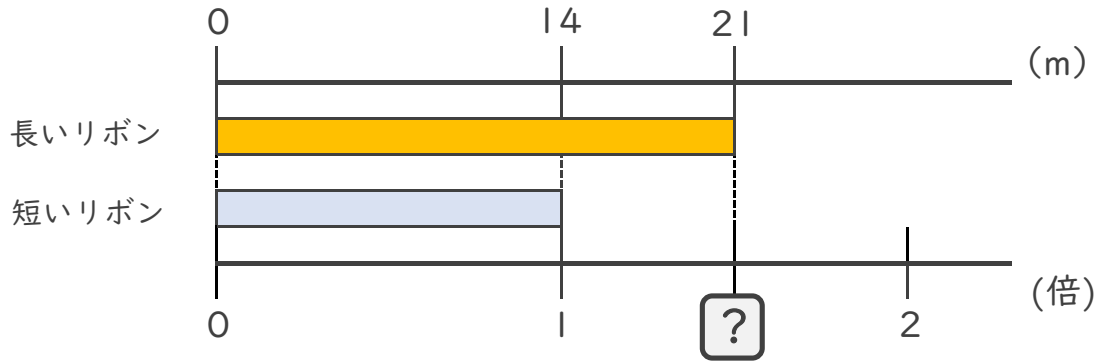


日にち：        月        日

名まえ \_\_\_\_\_

・ 次の問いに答えましょう。(うすい字は、なぞりましょう。)

① 長いリボンは短いリボンの何倍ですか。



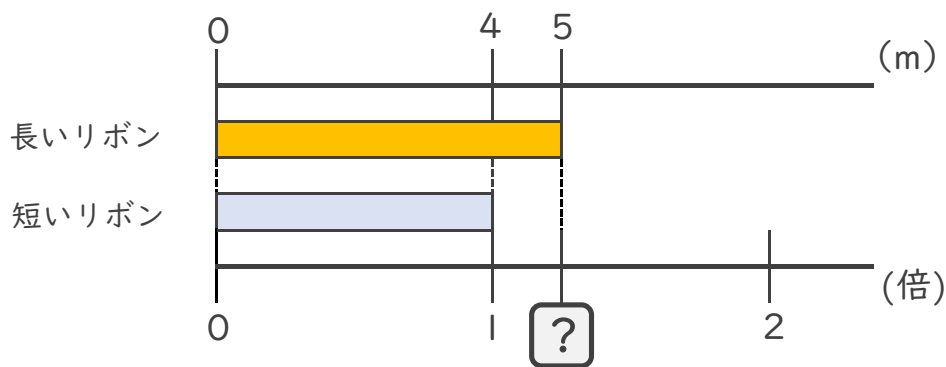
式：  $14 \times \square =$

$\square = \div$

$\square =$

答え： \_\_\_\_\_

② 長いリボンは短いリボンの何倍ですか。



式：

答え： \_\_\_\_\_





# 小数の倍①

◎ 長いリボンは  
短いリボンの何倍？

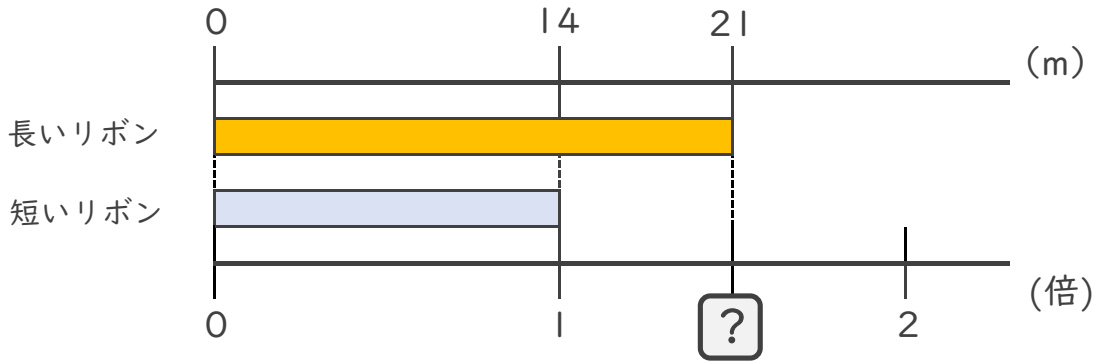


日にち：        月        日

名まえ \_\_\_\_\_

・ 次の問いに答えましょう。(うすい字は、なぞりましょう。)

① 長いリボンは短いリボンの何倍ですか。



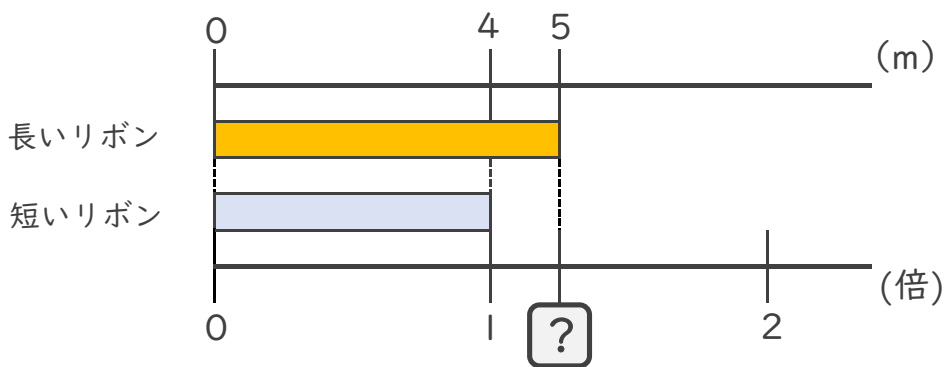
式：  $14 \times \square = 21$

$\square = 21 \div 14$

$\square = 1.5$

答え： 1.5倍

② 長いリボンは短いリボンの何倍ですか。



式：  $4 \times \square = 5$

$\square = 5 \div 4$

$\square = 1.25$

答え： 1.25倍

