



直方体や
立方体の体積 2

◎ 1 cm³の立方体の何こ分？

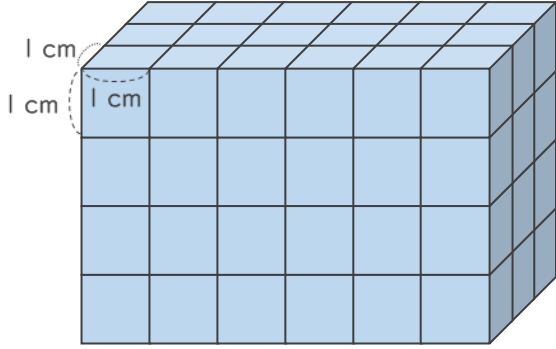
9

日にち： 月 日

名まえ _____

- ・ 1辺が1 cmの立方体を使って、直方体や立方体を作りました。
体積は何cm³ですか。

①

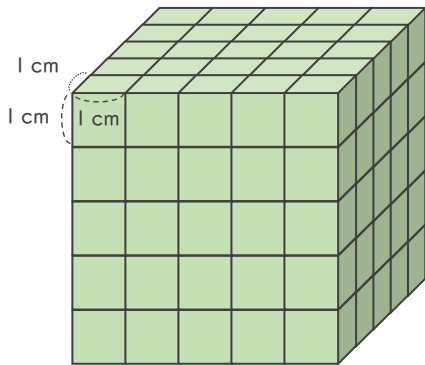


たての数 よこの数 だんの数

式： × × =

答え ()

②



式：

答え ()



直方体や 立方体の体積 2

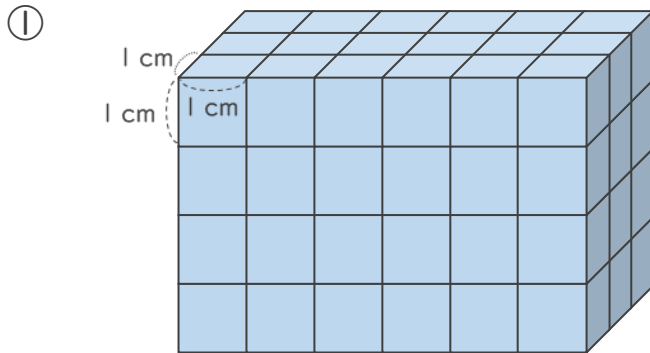
9

◎ 1 cm^3 の立方体の何こ分？

日にち： 月 日

名まえ _____

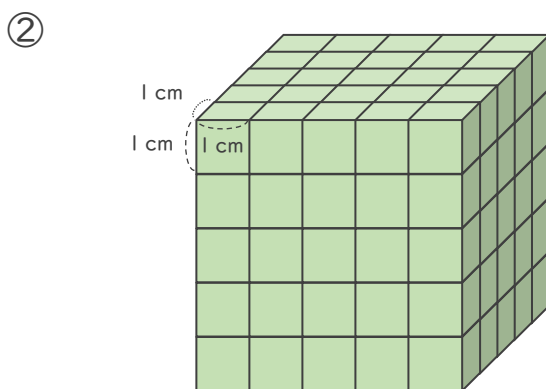
- ・ 1辺が 1 cm の立方体を使って、直方体や立方体を作りました。
体積は何 cm^3 ですか。



たての数 よこの数 だんの数

式： $3 \times 6 \times 4 = 72$

答え (72cm^3)



式： $5 \times 5 \times 5 = 125$

答え (125cm^3)