

# 割合

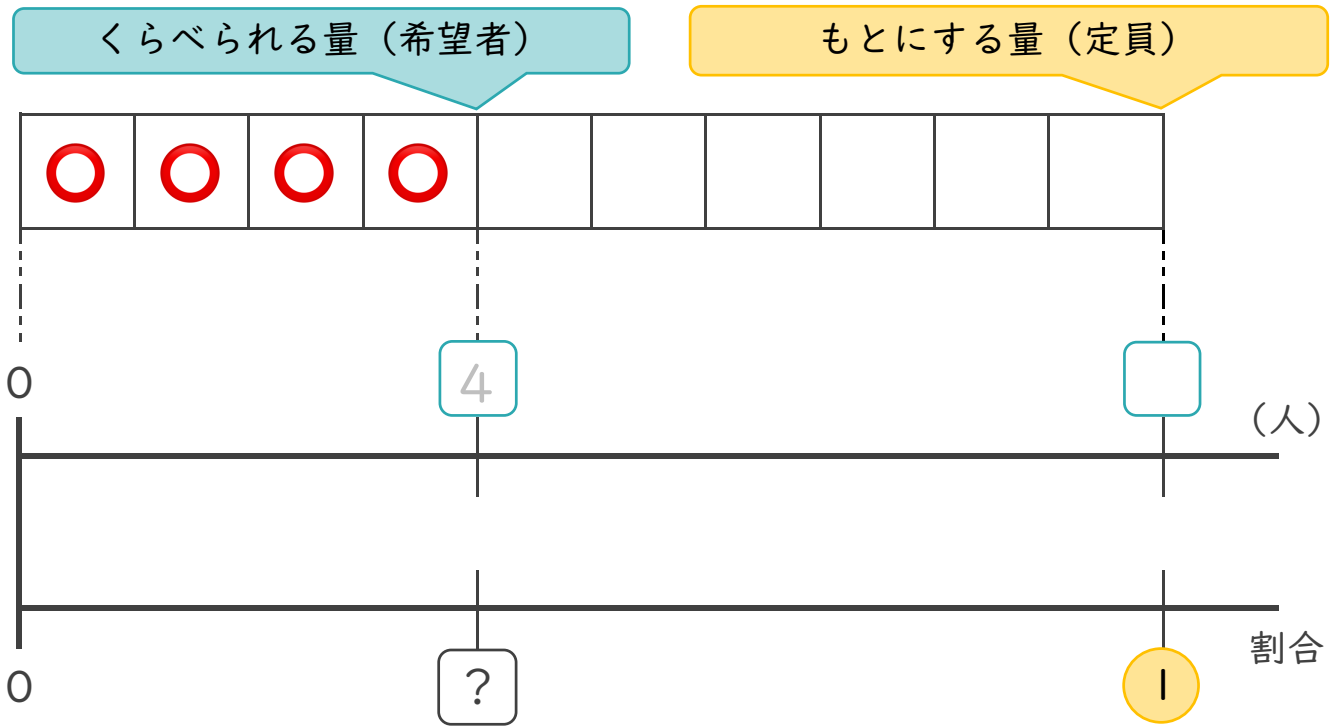
## ◎ 割合のもともめ方

日にち：      月      日

名まえ \_\_\_\_\_

- に当てはまる数を入れ、次の問題をときましょう。  
(うすい字はなぞりましょう。)


① バスケット部の定員は10人ですが、希望者は4人でした。  
バスケット部の定員の人数をもとにして、希望者の人数の割合を、  
もとめましょう。



割合を、わり算の式で求めましょう。

式：      4 ÷

答え \_\_\_\_\_



# 割合

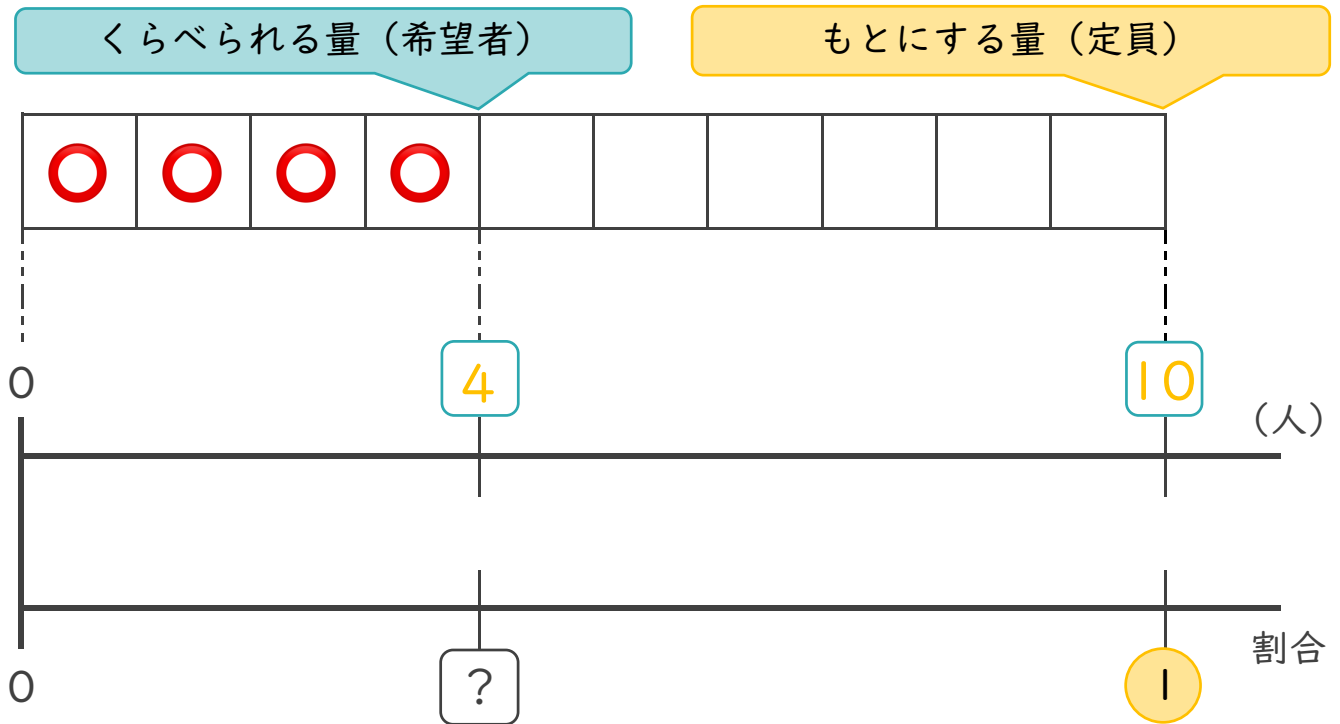
## ◎ 割合のもともめ方

日にち：            月            日

名まえ \_\_\_\_\_

- に当てはまる数を入れ、次の問題をときましょう。  
(うすい字はなぞりましょう。)

- ① バスケット部の定員は10人ですが、希望者は4人でした。  
バスケット部の定員の人数をもとにして、希望者の人数の割合を、  
もとめましょう。



割合を、わり算の式で求めましょう。

$$\text{式： } 4 \div 10 = 0.4$$

答え            0.4