



データの調べ方 2

●ドットプロットと散らばり



日にち： 月 日

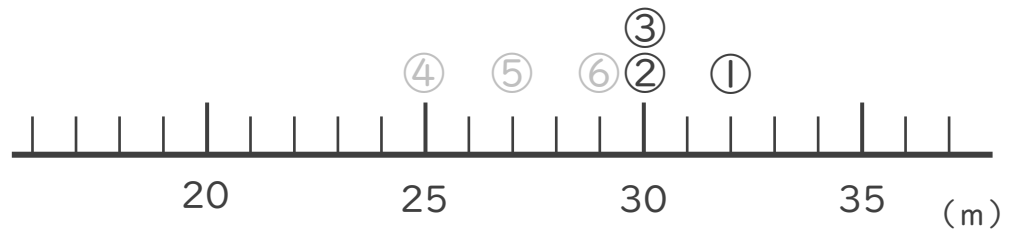
名まえ _____

下の表は2つの野球チームのソフトボール投げの記録です。それぞれをドットプロットに表してちらばりを調べましょう。（うすい字はなぞりましょう。）

ソフトボール投げ（m）

番号	Aチーム	Bチーム
1	32	31
2	30	18
3	30	20
4	25	26
5	27	25
6	29	28
7	21	26
8	23	19
9	27	18
10	25	25
11	26	24
12	19	25
13	19	28
14	17	25
15	28	23
16	27	27

① Aチーム



<書き方>

- ・目盛りの上に○を書く
(数字は書いても書かなくてもOK)
- ・同じ値が出てきたら上に積み上げていく

② Bチーム





データの調べ方 2

●ドットプロットと散らばり



日にち： 月 日

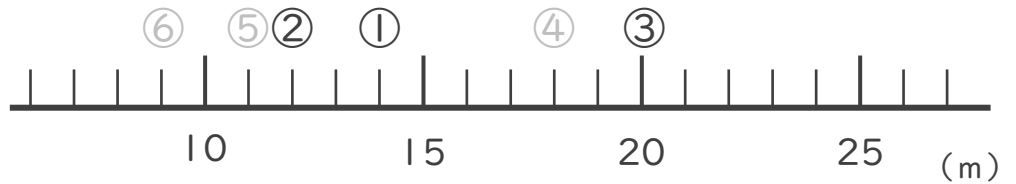
名まえ _____

下の表はあるクラスの女子と男子のソフトボール投げの記録です。それぞれをドットプロットに表してちらばりを調べましょう。（うすい字はなぞりましょう。）

ソフトボール投げ (m)

番号	女子	男子
1	14	22
2	12	23
3	20	19
4	18	29
5	11	25
6	9	22
7	22	21
8	17	26
9	16	24
10	14	18
11	13	23
12	11	20
13	14	19
14	10	22
15	15	25
16	13	

① 女子



<書き方>

- ・目盛りの上に○を書く
(数字は書いても書かなくてもOK)
- ・同じ値が出てきたら上に積み上げていく

② 男子





データの調べ方 2

●ドットプロットと散らばり



日にち： 月 日

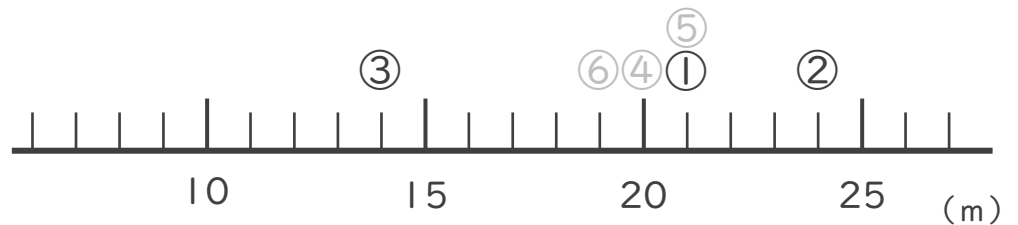
名まえ _____

下の表は男子と女子の上体起こしの記録です。それぞれをドットプロットに表してちらばりを調べましょう。（うすい字はなぞりましょう。）

上体起こし（回）

番号	男子	女子
1	21	20
2	24	13
3	14	15
4	20	25
5	21	20
6	19	14
7	18	15
8	13	16
9	24	21
10	20	18
11	22	20
12	15	18
13	20	24
14	21	19
15	20	
16	22	

① 男子



<書き方>

- ・目盛りの上に○を書く
(数字は書いても書かなくてもOK)
- ・同じ値が出てきたら上に積み上げていく

② 女子





データの調べ方 2

●ドットプロットと散らばり



日にち： 月 日

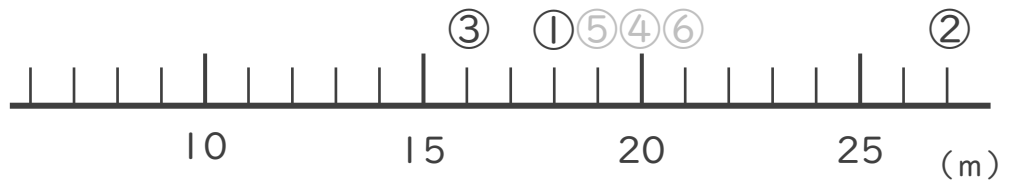
名まえ _____

下の表は2つのクラスの上体起こしの記録です。それぞれをドットプロットに表してちらばりを調べましょう。（うすい字はなぞりましょう。）

上体起こし（回）

番号	1組	2組
1	18	21
2	27	13
3	16	16
4	20	24
5	19	22
6	21	15
7	19	16
8	14	17
9	26	22
10	15	19
11	21	21
12	14	16
13	20	25
14	22	17
15	19	20
16	21	22

① 1組



<書き方>

- ・目盛りの上に○を書く
(数字は書いても書かなくてもOK)
- ・同じ値が出てきたら上に積み上げていく

② 2組





データの調べ方 2

●ドットプロットと散らばり



日にち： 月 日

名まえ _____

下の表はクラスの子と男子の上体起こしの記録です。それぞれをドットプロットに表してちらばりを調べましょう。

上体起こし (回)

番号	男子	女子
1	20	19
2	25	15
3	13	12
4	19	21
5	22	23
6	18	16
7	17	15
8	14	18
9	23	20
10	20	17
11	20	19
12	17	19
13	18	23
14	20	18
15	19	
16	21	

① 男子



② 女子





データの調べ方 2

●ドットプロットと散らばり



日にち： 月 日

名まえ _____

下の表は2つのサッカーチームのソフトボール投げの記録です。それぞれをドットプロットに表してちらばりを調べましょう。

ソフトボール投げ（回）

番号	Aチーム	Bチーム
1	25	24
2	19	16
3	23	18
4	21	28
5	17	25
6	28	16
7	15	26
8	27	21
9	19	16
10	24	19
11	24	20
12	22	21
13	19	25
14	20	24
15		21

① Aチーム



② Bチーム





データの調べ方 2

●ドットプロットと散らばり



日にち： 月 日

名まえ _____

下の表はクラスの女子と男子の上体起こしの記録です。それぞれをドットプロットに表してちらばりを調べましょう。

上体起こし（回）

番号	男子	女子
1	22	13
2	19	14
3	25	10
4	24	18
5	15	9
6	17	16
7	29	17
8	18	21
9	19	11
10	22	10
11	24	12
12	20	7
13	19	15
14	21	14
15	/	12
16	/	21

① 男子



② 女子





データの調べ方 2

●ドットプロットと散らばり



日にち： 月 日

名まえ _____

下の表は2つのサッカーチームのソフトボール投げの記録です。それぞれをドットプロットに表してちらばりを調べましょう。

ソフトボール投げ（回）

番号	Aチーム	Bチーム
1	30	26
2	25	19
3	24	25
4	20	21
5	24	24
6	22	18
7	25	26
8	20	27
9	19	21
10	23	24
11	25	20
12	22	21
13	20	26
14	24	24
15	21	
16	19	

① Aチーム



② Bチーム





データの調べ方 2

● ドットプロットと散らばり



日にち： 月 日

名まえ _____

下の表は2つの野球チームの上体起こしの記録です。それぞれをドットプロットに表してちらばりを調べましょう。

上体起こし (回)

番号	Aチーム	Bチーム
1	22	26
2	19	25
3	21	20
4	18	21
5	25	24
6	26	29
7	20	28
8	18	19
9	21	21
10	25	26
11	16	25
12	18	21
13	26	26
14	22	24
15	20	
16	24	

① Aチーム



② Bチーム





データの調べ方 2

●ドットプロットと散らばり



日にち： 月 日

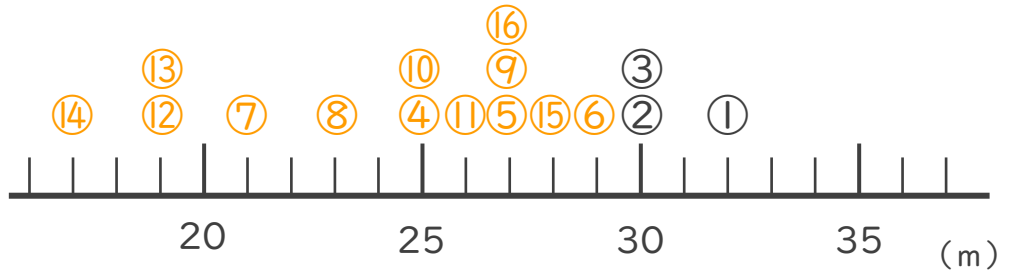
名まえ _____

下の表は2つの野球チームのソフトボール投げの記録です。それぞれをドットプロットに表してちらばりを調べましょう。（うすい字はなぞりましょう。）

ソフトボール投げ（m）

番号	Aチーム	Bチーム
1	32	31
2	30	18
3	30	20
4	25	26
5	27	25
6	29	28
7	21	26
8	23	19
9	27	18
10	25	25
11	26	24
12	19	25
13	19	28
14	17	25
15	28	23
16	27	27

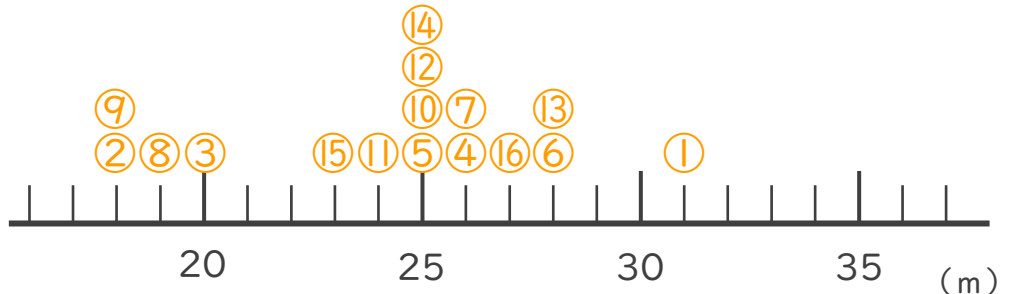
① Aチーム



<書き方>

- ・目盛りの上に○を書く
（数字は書いても書かなくてもOK）
- ・同じ値が出てきたら上に積み上げていく

② Bチーム





データの調べ方 2

●ドットプロットと散らばり



日にち： 月 日

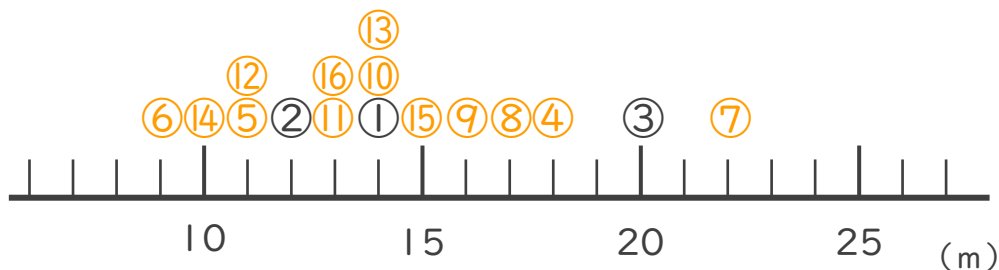
名まえ _____

下の表はあるクラスの女子と男子のソフトボール投げの記録です。それぞれをドットプロットに表してちらばりを調べましょう。（うすい字はなぞりましょう。）

ソフトボール投げ (m)

番号	女子	男子
1	14	22
2	12	23
3	20	19
4	18	29
5	11	25
6	9	22
7	22	21
8	17	26
9	16	24
10	14	18
11	13	23
12	11	20
13	14	19
14	10	22
15	15	25
16	13	

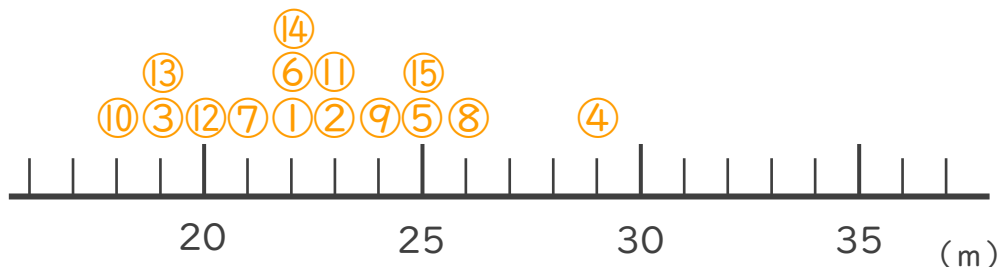
① 女子



<書き方>

- ・目盛りの上に○を書く
(数字は書いても書かなくてもOK)
- ・同じ値が出てきたら上に積み上げていく

② 男子





データの調べ方 2

●ドットプロットと散らばり

3

日にち： 月 日

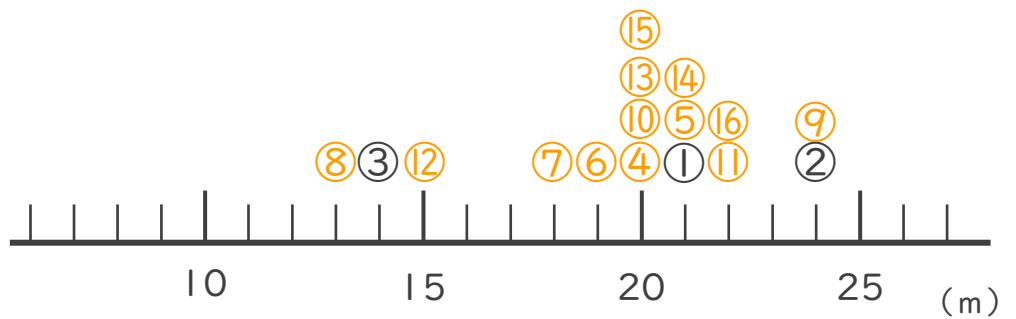
名まえ _____

下の表は男子と女子の上体起こしの記録です。それぞれをドットプロットに表してちらばりを調べましょう。（うすい字はなぞりましょう。）

上体起こし（回）

番号	男子	女子
1	21	20
2	24	13
3	14	15
4	20	25
5	21	20
6	19	14
7	18	15
8	13	16
9	24	21
10	20	18
11	22	20
12	15	18
13	20	24
14	21	19
15	20	
16	22	

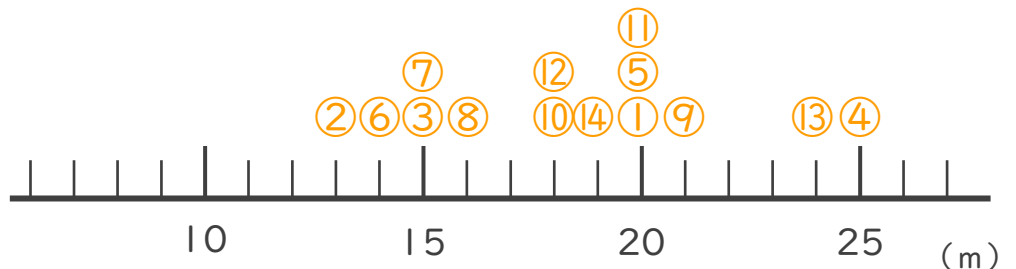
① 男子



<書き方>

- ・目盛りの上に○を書く
(数字は書いても書かなくてもOK)
- ・同じ値が出てきたら上に積み上げていく

② 女子





データの調べ方 2

●ドットプロットと散らばり

4

日にち： 月 日

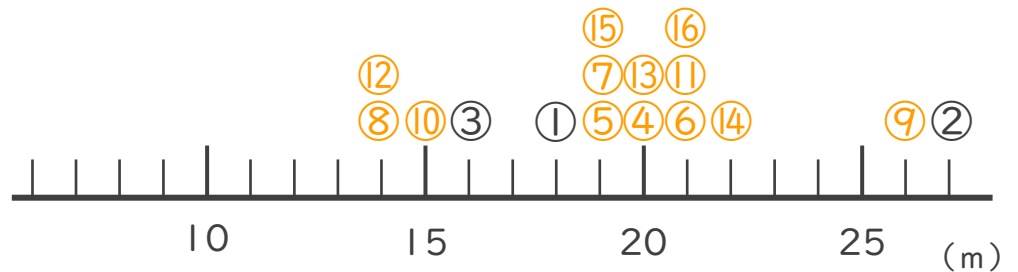
名まえ _____

下の表は2つのクラスの上体起こしの記録です。それぞれをドットプロットに表してちらばりを調べましょう。（うすい字はなぞりましょう。）

上体起こし（回）

番号	1組	2組
1	18	21
2	27	13
3	16	16
4	20	24
5	19	22
6	21	15
7	19	16
8	14	17
9	26	22
10	15	19
11	21	21
12	14	16
13	20	25
14	22	17
15	19	20
16	21	22

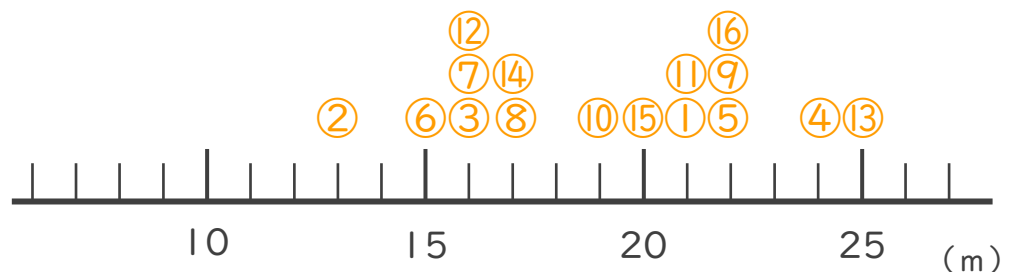
① 1組



<書き方>

- ・目盛りの上に○を書く
(数字は書いても書かなくてもOK)
- ・同じ値が出てきたら上に積み上げていく

② 2組





データの調べ方 2

●ドットプロットと散らばり



日にち： 月 日

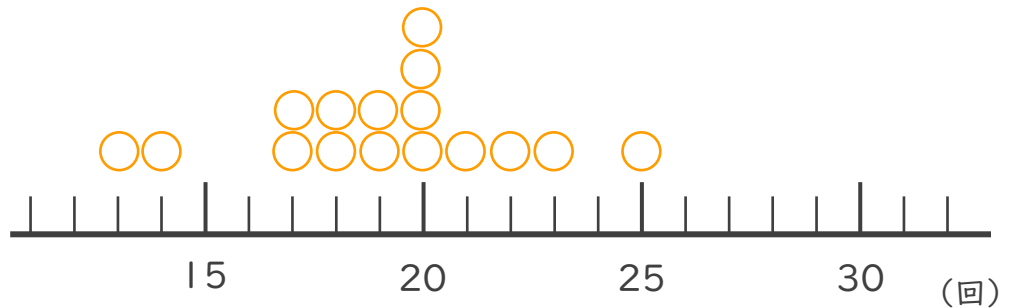
名まえ _____

下の表はクラスの女子と男子の上体起こしの記録です。それぞれをドットプロットに表してちらばりを調べましょう。

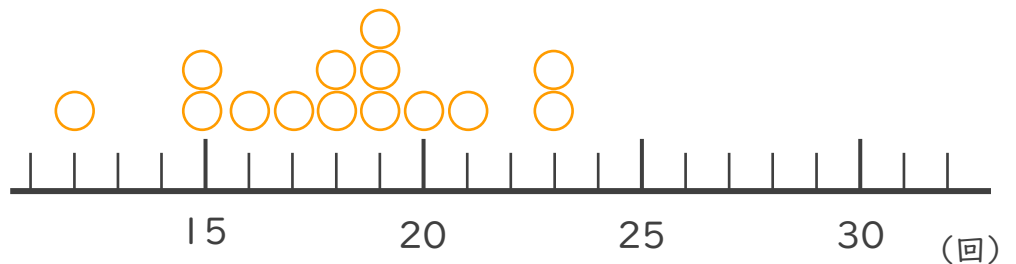
上体起こし（回）

番号	男子	女子
1	20	19
2	25	15
3	13	12
4	19	21
5	22	23
6	18	16
7	17	15
8	14	18
9	23	20
10	20	17
11	20	19
12	17	19
13	18	23
14	20	18
15	19	
16	21	

① 男子



② 女子





データの調べ方 2

●ドットプロットと散らばり



日にち： 月 日

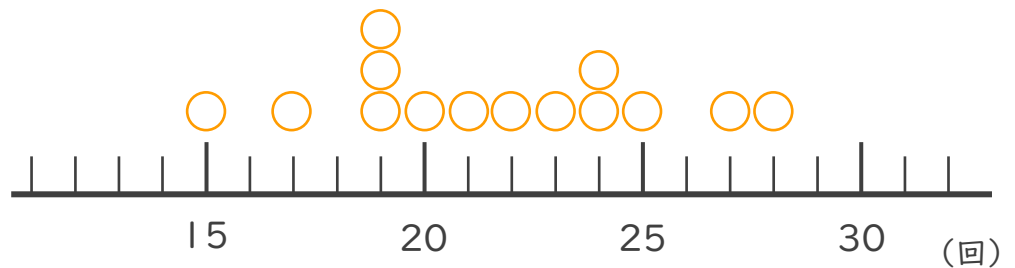
名まえ _____

下の表は2つのサッカーチームのソフトボール投げの記録です。それぞれをドットプロットに表してちらばりを調べましょう。

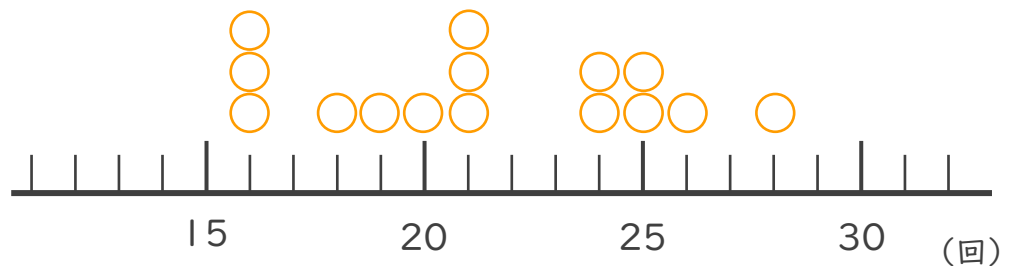
ソフトボール投げ（回）

番号	Aチーム	Bチーム
1	25	24
2	19	16
3	23	18
4	21	28
5	17	25
6	28	16
7	15	26
8	27	21
9	19	16
10	24	19
11	24	20
12	22	21
13	19	25
14	20	24
15		21

① Aチーム



② Bチーム





データの調べ方 2

● ドットプロットと散らばり



日にち： 月 日

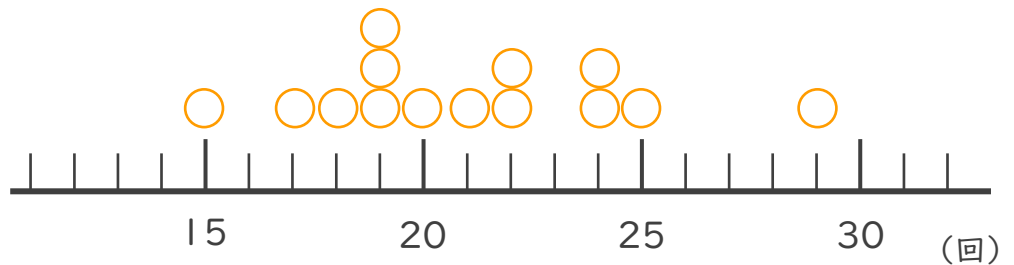
名まえ _____

下の表はクラスの女子と男子の上体起こしの記録です。それぞれをドットプロットに表してちらばりを調べましょう。

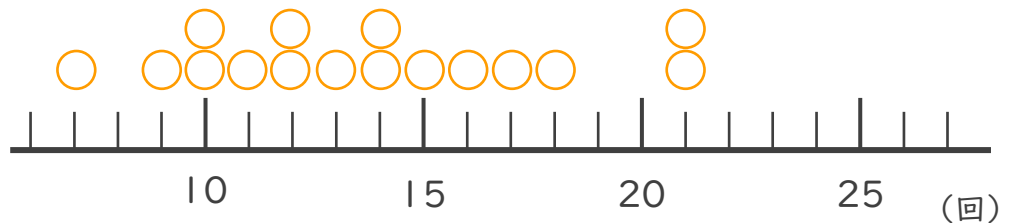
上体起こし（回）

番号	男子	女子
1	22	13
2	19	14
3	25	10
4	24	18
5	15	9
6	17	16
7	29	17
8	18	21
9	19	11
10	22	10
11	24	12
12	20	7
13	19	15
14	21	14
15		12
16		21

① 男子



② 女子





データの調べ方 2

● ドットプロットと散らばり



日にち： 月 日

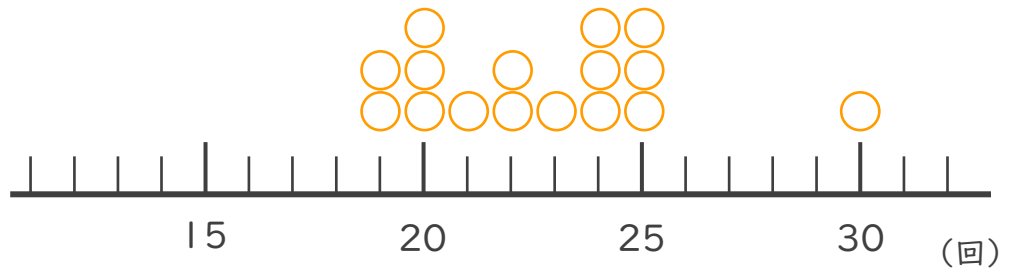
名まえ _____

下の表は2つのサッカーチームのソフトボール投げの記録です。それぞれをドットプロットに表してちらばりを調べましょう。

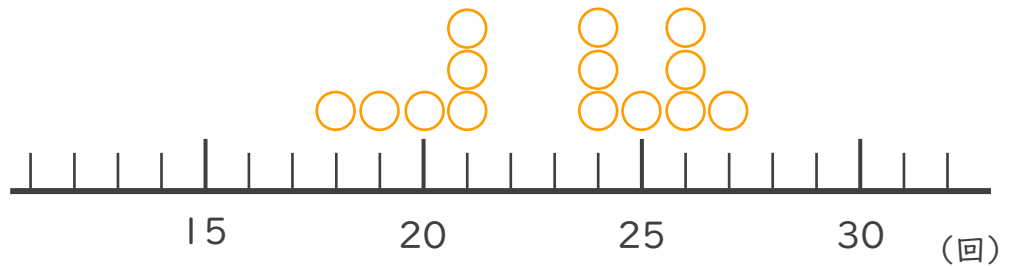
ソフトボール投げ（回）

番号	Aチーム	Bチーム
1	30	26
2	25	19
3	24	25
4	20	21
5	24	24
6	22	18
7	25	26
8	20	27
9	19	21
10	23	24
11	25	20
12	22	21
13	20	26
14	24	24
15	21	
16	19	

① Aチーム



② Bチーム





データの調べ方 2

● ドットプロットと散らばり



日にち： 月 日

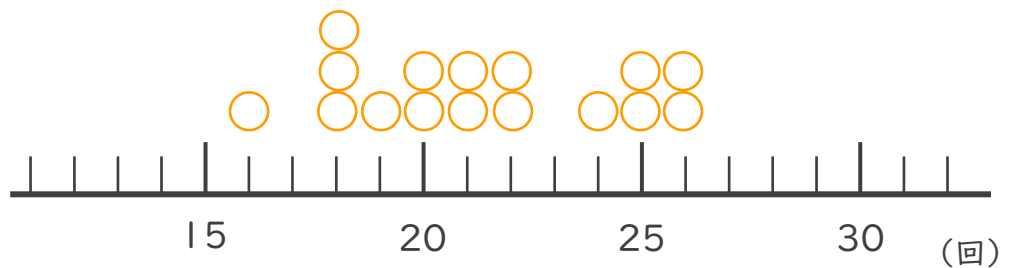
名まえ _____

下の表は2つの野球チームの上体起こしの記録です。それぞれをドットプロットに表してちらばりを調べましょう。

上体起こし (回)

番号	Aチーム	Bチーム
1	22	26
2	19	25
3	21	20
4	18	21
5	25	24
6	26	29
7	20	28
8	18	19
9	21	21
10	25	26
11	16	25
12	18	21
13	26	26
14	22	24
15	20	
16	24	

① Aチーム



② Bチーム

