



## 並べ方と 組み合わせ方 4

● 4つの数字から  
2けたの整数をつくる



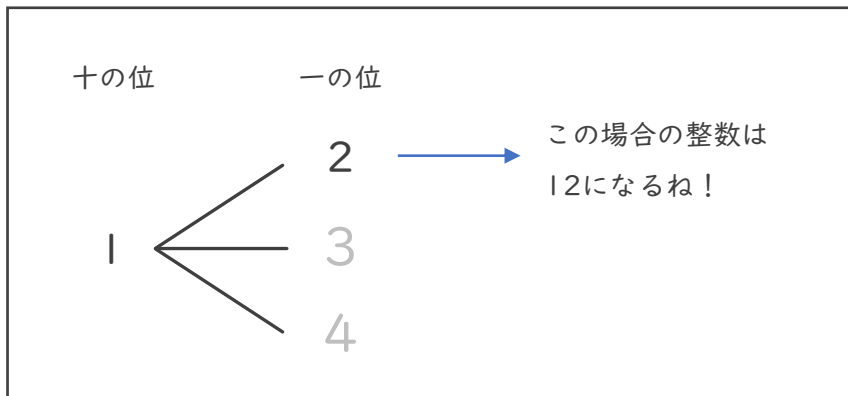
日にち：            月            日

名まえ \_\_\_\_\_

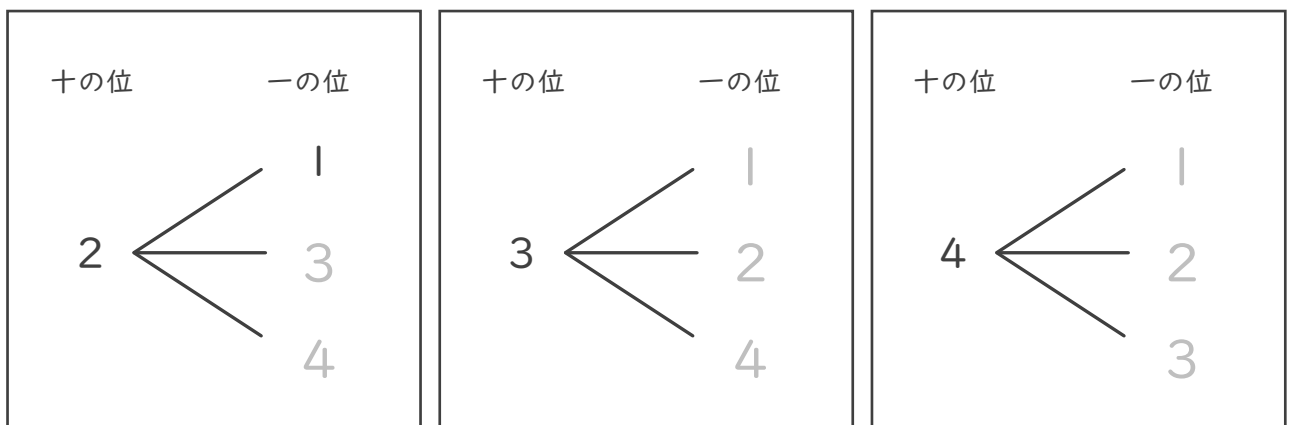
- ・下の4枚のカードのうちの2枚を選んで、2けたの整数をつくりま  
す。次の問いに答えましょう。（うすい字はなぞりましょう。）



- ① 十の位が1になる場合を図に表しましょう。



- ② 十の位が2, 3, 4になる場合を図に表しましょう。



- ③ 2けたの整数は全部で何通りできますか。

答え（            12通り            ）



## 並べ方と組み合わせ方 4

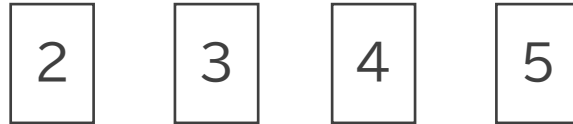
- 4つの数字から2けたの整数をつくる



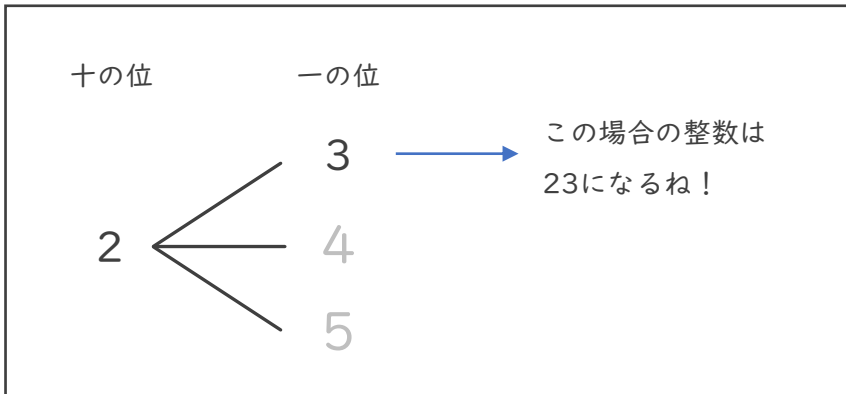
日にち：        月        日

名まえ \_\_\_\_\_

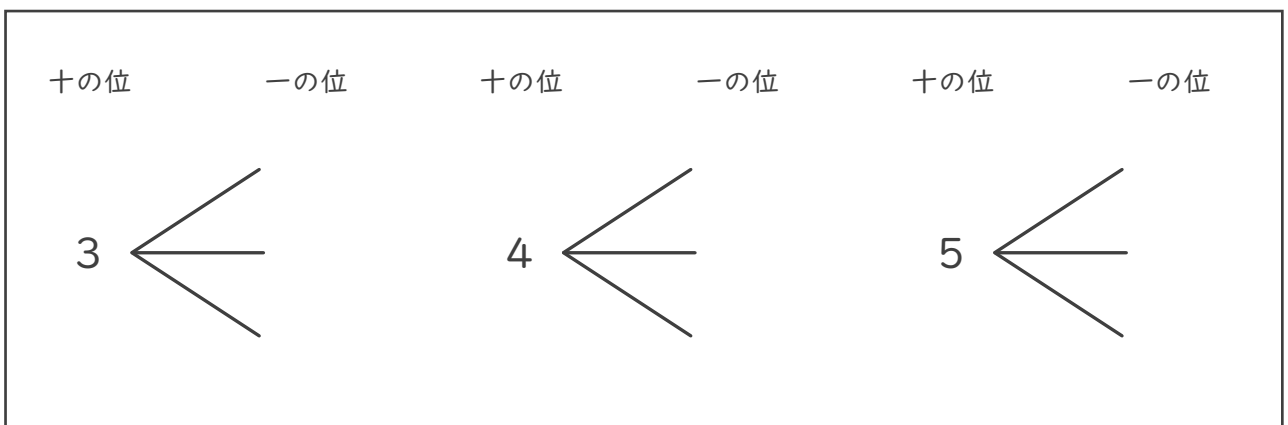
- ・下の4枚のカードのうちの2枚を選んで、2けたの整数をつくりましょう。次の問いに答えましょう。（うすい字はなぞりましょう。）



- ① 十の位が2になる場合を図に表しましょう。



- ② 十の位が3, 4, 5になる場合を図に表しましょう。



- ③ 2けたの整数は全部で何通りできますか。

答え（                                ）









## 並べ方と 組み合わせ方 4

● 4つの数字から  
2けたの整数をつくる



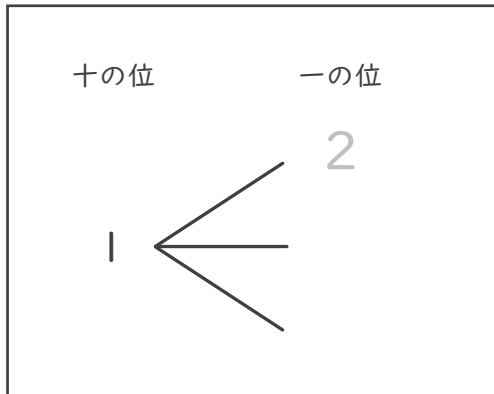
日にち：         月         日

名まえ \_\_\_\_\_

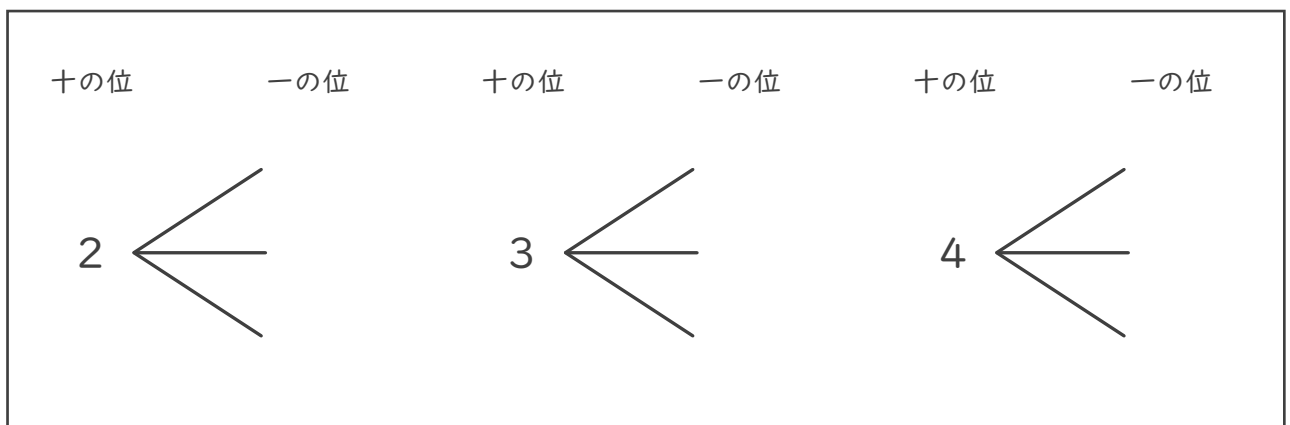
- 下の4枚のカードのうちの2枚を選んで、2けたの整数をつくりま  
す。次の問いに答えましょう。（うすい字はなぞりましょう。）



- ① 十の位が1になる場合を図に表しましょう。



- ② 十の位が2, 3, 4になる場合を図に表しましょう。



- ③ 2けたの整数は全部で何通りできますか。

答え (                      )



# 並べ方と 組み合わせ方 4

● 4つの数字から  
2けたの整数をつくる



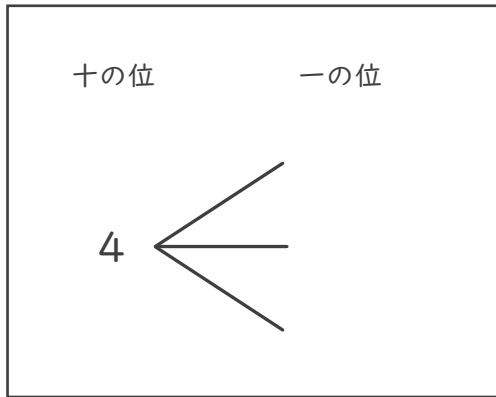
日にち：          月          日

名まえ \_\_\_\_\_

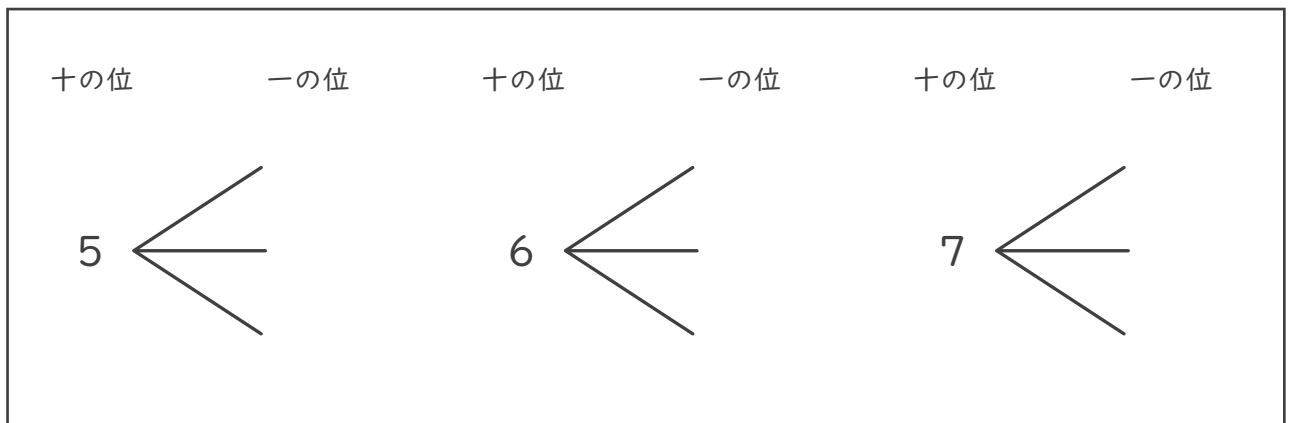
- ・下の4枚のカードのうちの2枚を選んで、2けたの整数をつくりま  
す。  
次の問いに答えましょう。



- ① 十の位が1になる場合を図に表しましょう。



- ② 十の位が5, 6, 7になる場合を図に表しましょう。



- ③ 2けたの整数は全部で何通りできますか。

答え (                      )





並べ方と  
組み合わせ方 4

4つの数字から  
2けたの整数をつくる



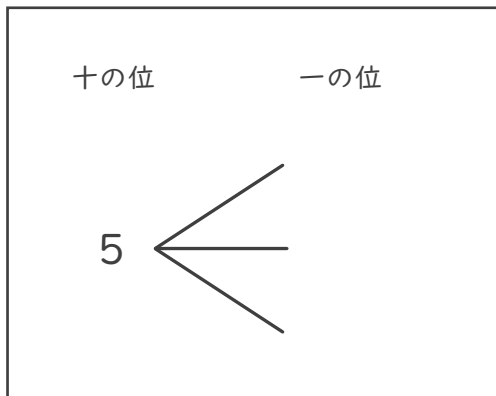
日にち： 月 日

名まえ \_\_\_\_\_

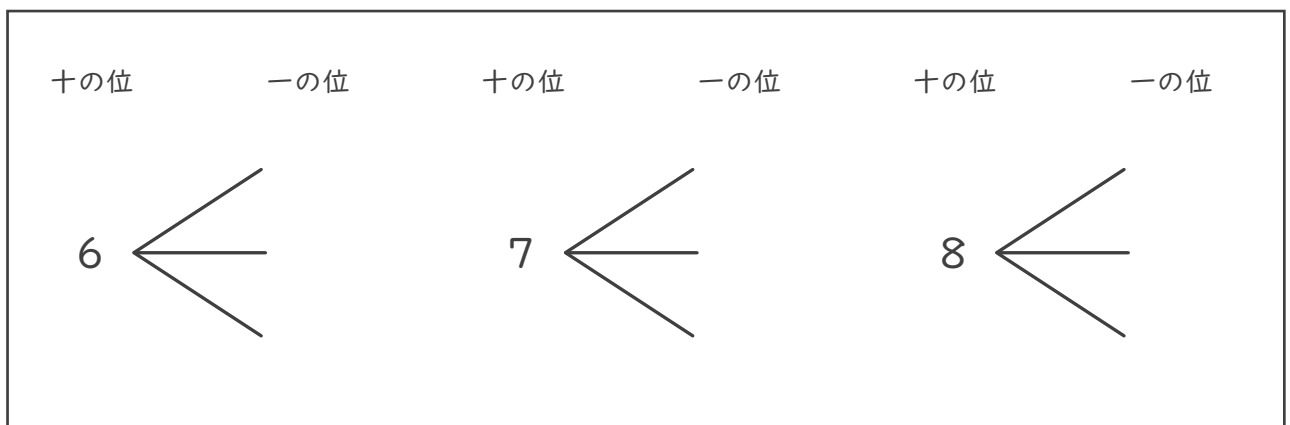
- 下の4枚のカードのうちの2枚を選んで、2けたの整数をつくりま  
す。次の問いに答えましょう。



- ① 十の位が1になる場合を図に表しましょう。



- ② 十の位が2, 3, 4になる場合を図に表しましょう。



- ③ 2けたの整数は全部で何通りできますか。

答え (    )



並べ方と  
組み合わせ方 4

● 4つの数字から  
2けたの整数をつくる



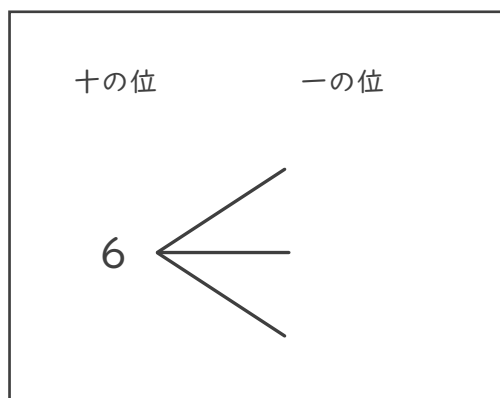
日にち： 月 日

名まえ \_\_\_\_\_

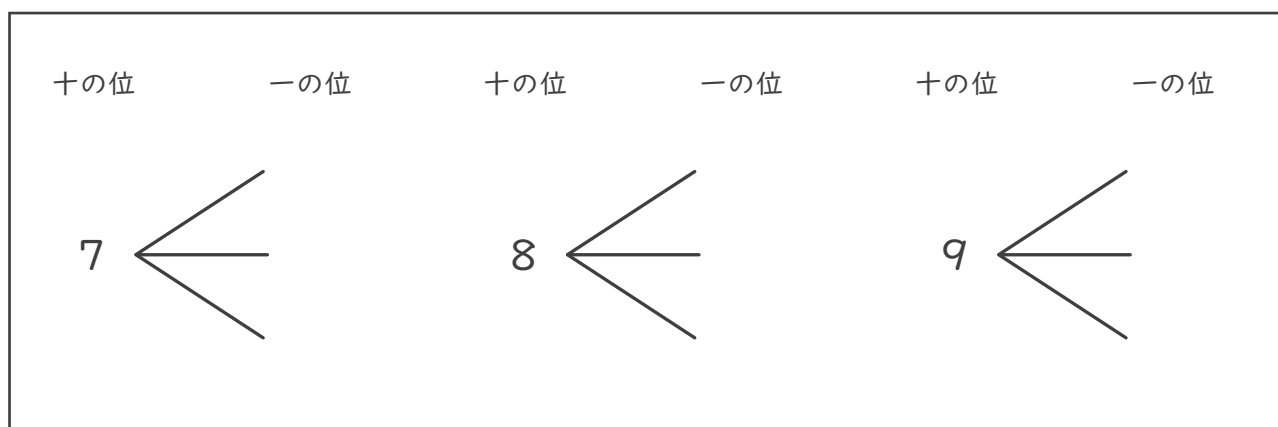
- ・下の4枚のカードのうち2枚を選んで、2けたの整数をつくりま。
- 次の問いに答えましょう。



- ① 十の位が1になる場合を図に表しましょう。



- ② 十の位が2, 3, 4になる場合を図に表しましょう。



- ③ 2けたの整数は全部で何通りできますか。

答え ( )







並べ方と  
組み合わせ方 4

● 4つの数字から  
2けたの整数をつくる



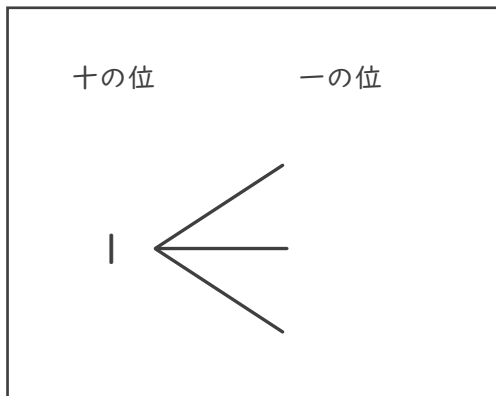
日にち：       月       日

名まえ \_\_\_\_\_

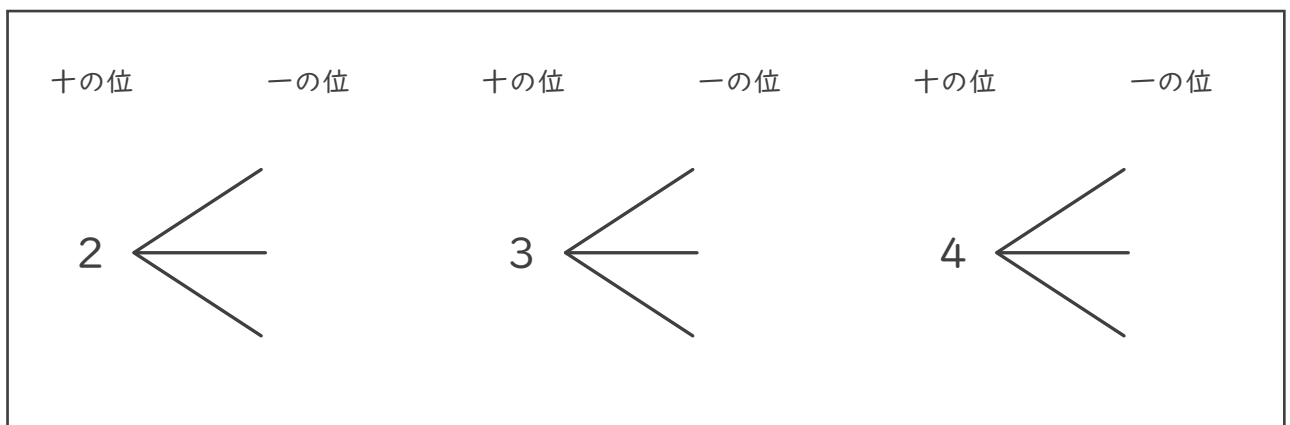
- ・下の4枚のカードのうちの2枚を選んで、2けたの整数をつくりましょう。
- 次の問いに答えましょう。



- ① 十の位が1になる場合を図に表しましょう。



- ② 十の位が2, 3, 4になる場合を図に表しましょう。



- ③ 2けたの整数は全部で何通りできますか。

答え (                    )



並べ方と  
組み合わせ方 4

● 4つの数字から  
2けたの整数をつくる



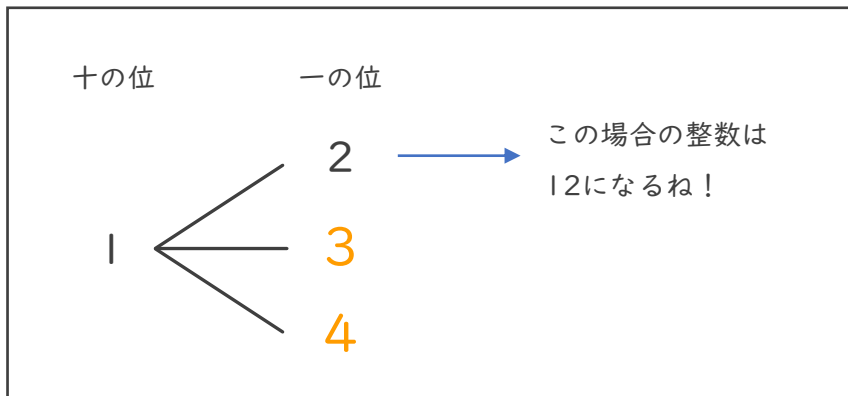
日にち：            月            日

名まえ \_\_\_\_\_

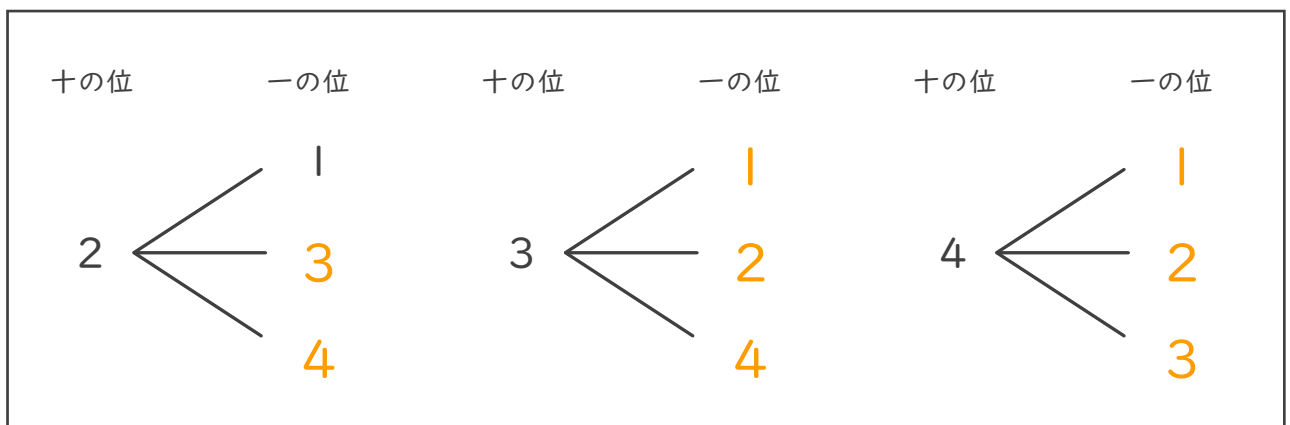
- ・下の4枚のカードのうちの2枚を選んで、2けたの整数をつくりまます。次の問いに答えましょう。（うすい字はなぞりましょう。）



- ① 十の位が1になる場合を図に表しましょう。



- ② 十の位が2, 3, 4になる場合を図に表しましょう。



- ③ 2けたの整数は全部で何通りできますか。

答え (            12通り            )



並べ方と  
組み合わせ方 4

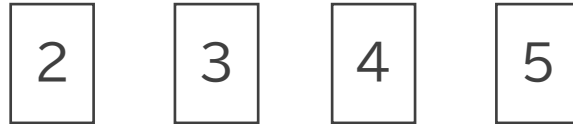
● 4つの数字から  
2けたの整数をつくる



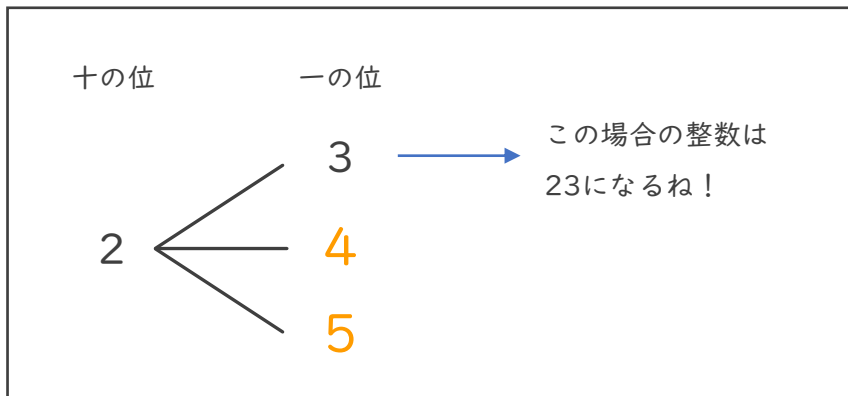
日にち：            月            日

名まえ \_\_\_\_\_

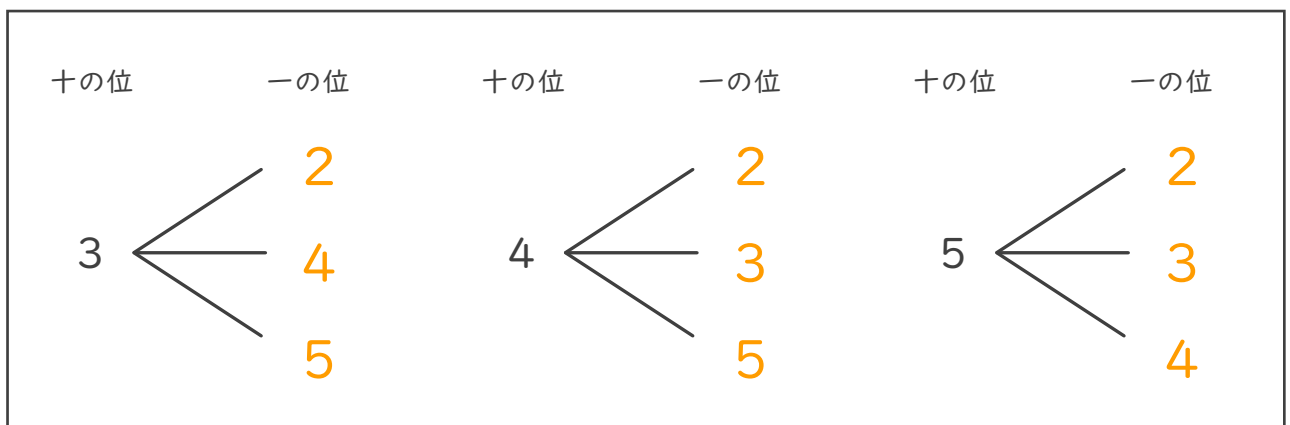
- ・下の4枚のカードのうちの2枚を選んで、2けたの整数をつくりまます。次の問いに答えましょう。（うすい字はなぞりましょう。）



- ① 十の位が2になる場合を図に表しましょう。



- ② 十の位が3, 4, 5になる場合を図に表しましょう。



- ③ 2けたの整数は全部で何通りできますか。

答え (            12通り            )



並べ方と  
組み合わせ方 4

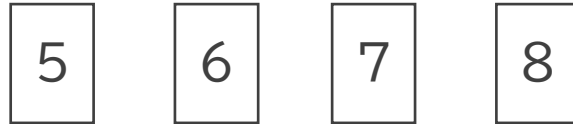
● 4つの数字から  
2けたの整数をつくる



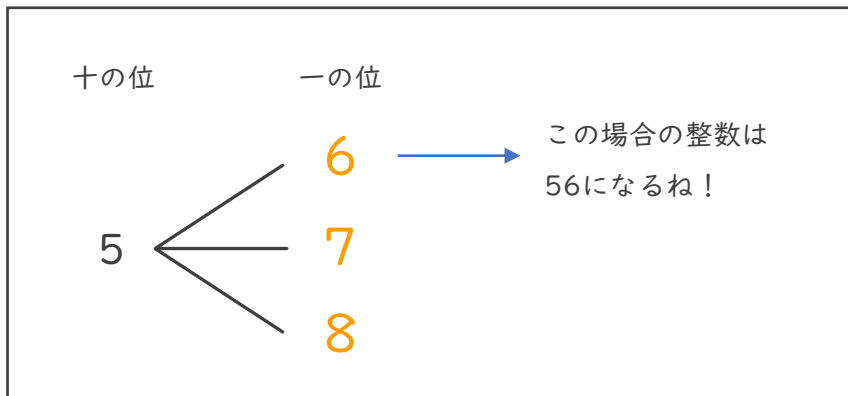
日にち：            月            日

名まえ \_\_\_\_\_

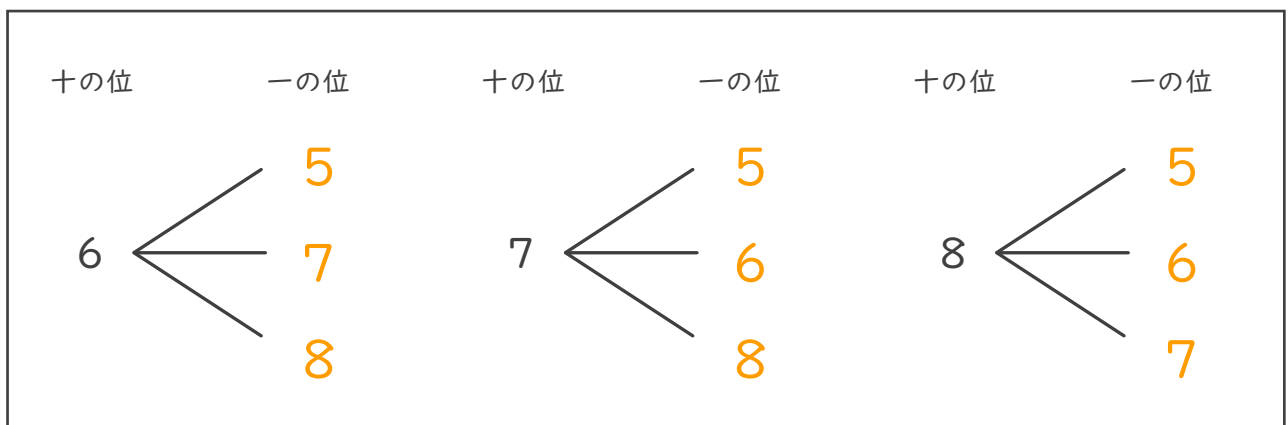
- ・下の4枚のカードのうちの2枚を選んで、2けたの整数をつくりまます。次の問いに答えましょう。（うすい字はなぞりましょう。）



- ① 十の位が5になる場合を図に表しましょう。



- ② 十の位が6, 7, 8になる場合を図に表しましょう。



- ③ 2けたの整数は全部で何通りできますか。

答え (            12通り            )



並べ方と  
組み合わせ方 4

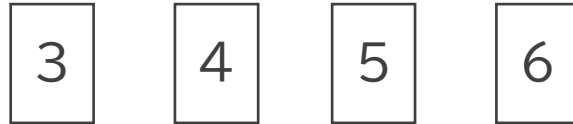
● 4つの数字から  
2けたの整数をつくる



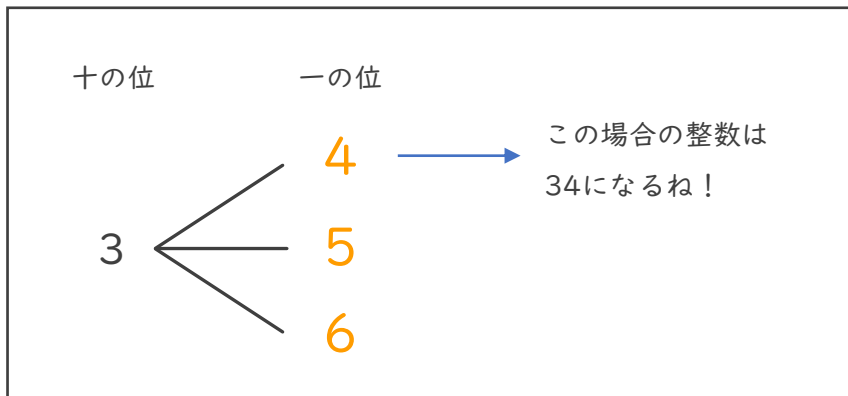
日にち：            月            日

名まえ \_\_\_\_\_

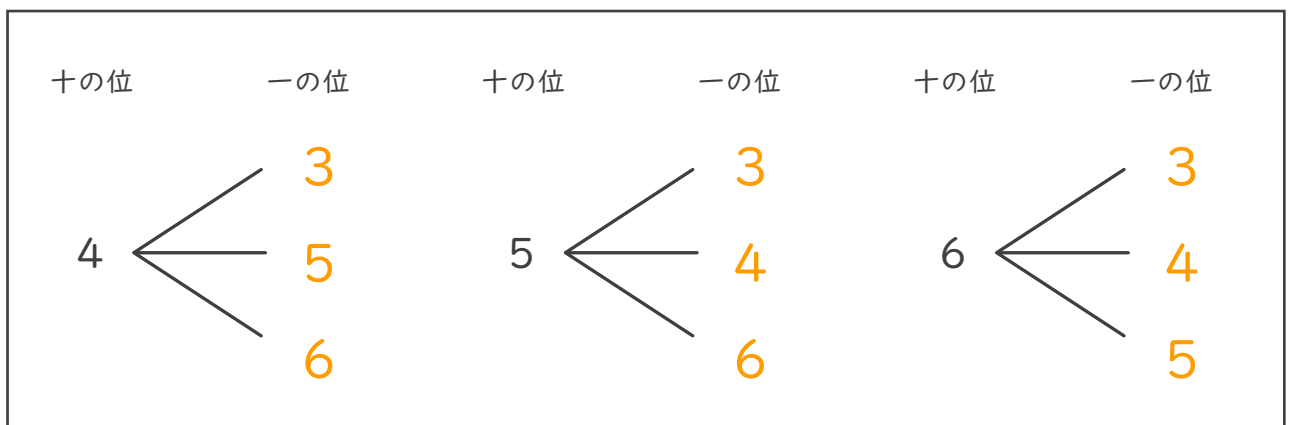
- ・下の4枚のカードのうちの2枚を選んで、2けたの整数をつくりまます。次の問いに答えましょう。（うすい字はなぞりましょう。）



- ① 十の位が5になる場合を図に表しましょう。



- ② 十の位が4, 5, 6になる場合を図に表しましょう。



- ③ 2けたの整数は全部で何通りできますか。

答え（            12通り            ）





並べ方と  
組み合わせ方 4

● 4つの数字から  
2けたの整数をつくる



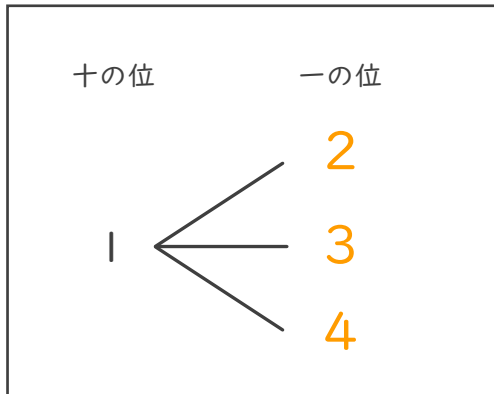
日にち：            月            日

名まえ \_\_\_\_\_

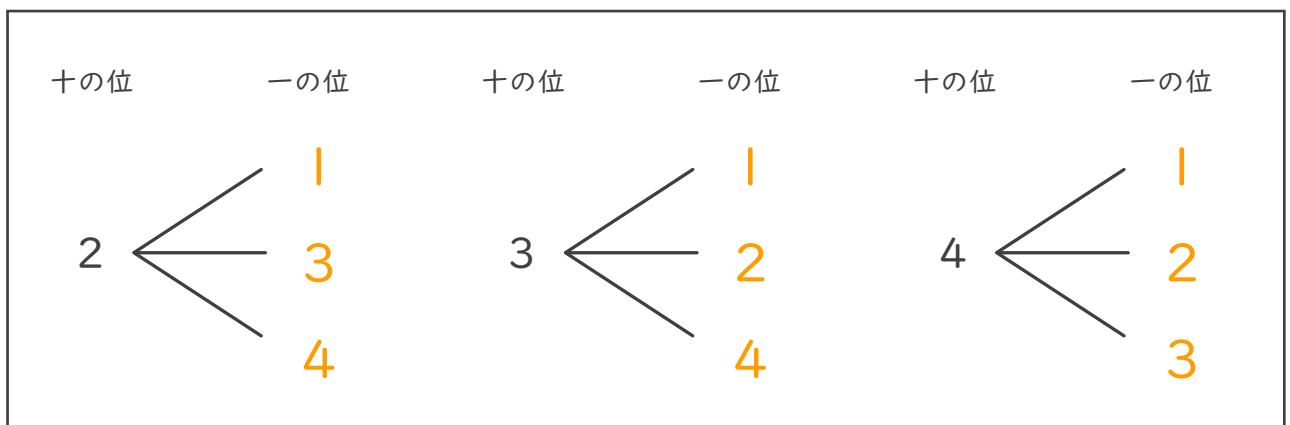
- ・下の4枚のカードのうちの2枚を選んで、2けたの整数をつくりま  
す。次の問いに答えましょう。（うすい字はなぞりましょう。）



- ① 十の位が1になる場合を図に表しましょう。



- ② 十の位が2, 3, 4になる場合を図に表しましょう。



- ③ 2けたの整数は全部で何通りできますか。

答え (            12通り            )



並べ方と  
組み合わせ方 4

● 4つの数字から  
2けたの整数をつくる



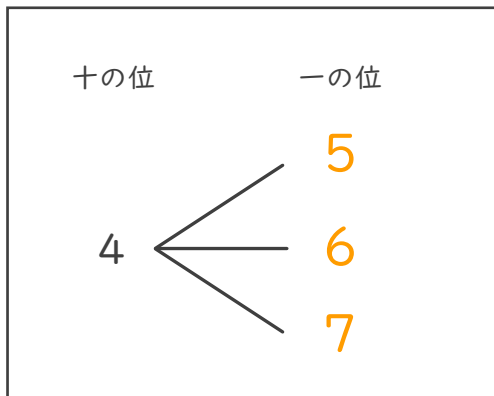
日にち：            月            日

名まえ \_\_\_\_\_

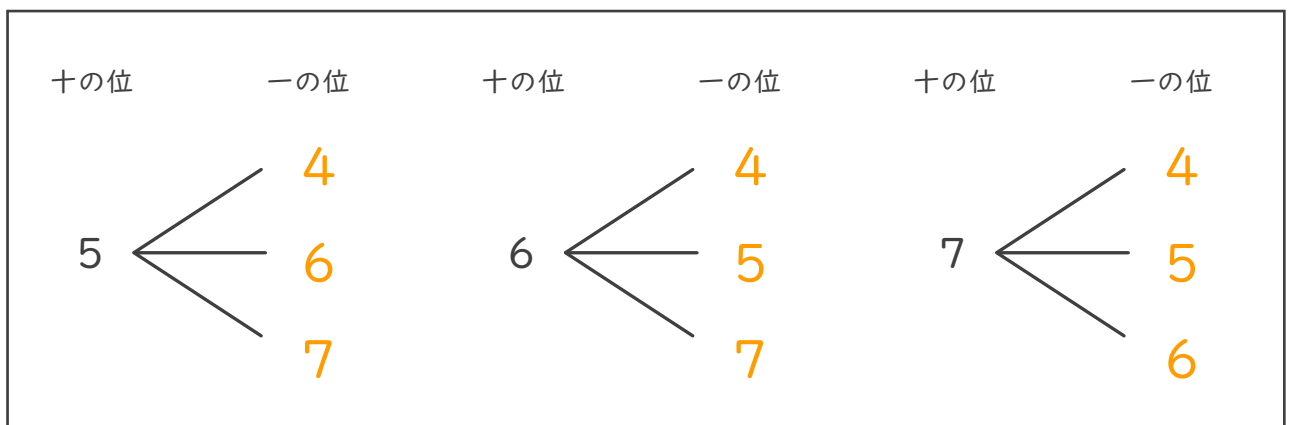
- ・下の4枚のカードのうちの2枚を選んで、2けたの整数をつくります。  
次の問いに答えましょう。



- ① 十の位が1になる場合を図に表しましょう。



- ② 十の位が5, 6, 7になる場合を図に表しましょう。



- ③ 2けたの整数は全部で何通りできますか。

答え (            12通り            )



並べ方と  
組み合わせ方 4

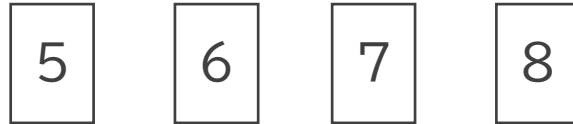
● 4つの数字から  
2けたの整数をつくる



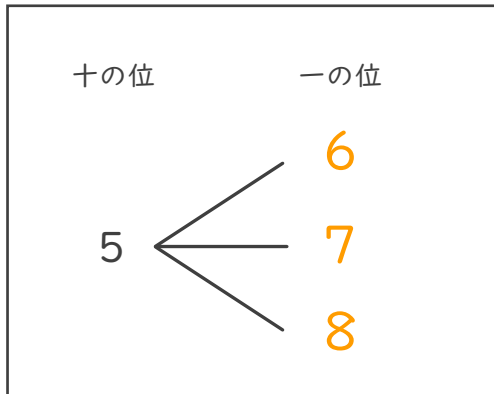
日にち：            月            日

名まえ \_\_\_\_\_

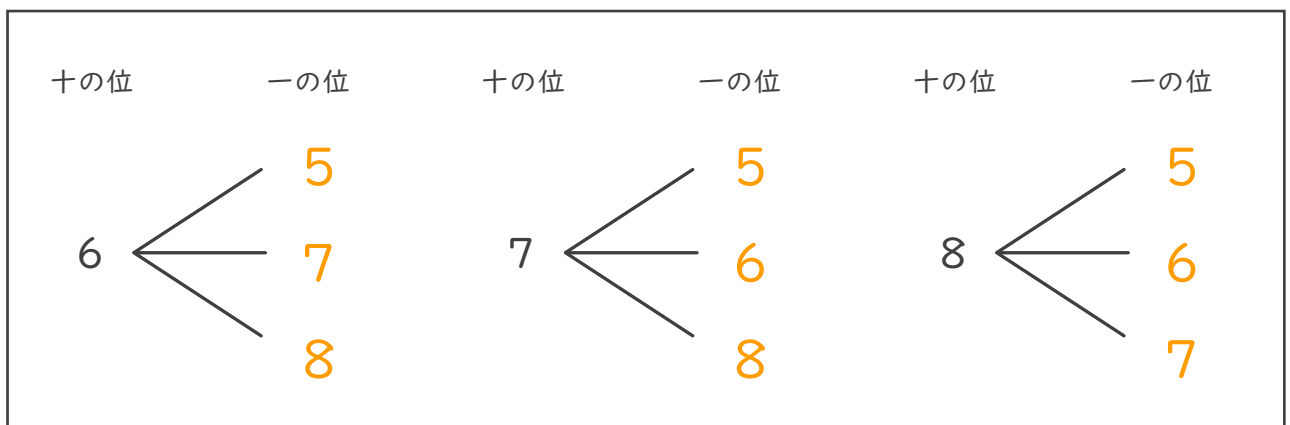
- ・下の4枚のカードのうちの2枚を選んで、2けたの整数をつくります。  
次の問いに答えましょう。



- ① 十の位が1になる場合を図に表しましょう。



- ② 十の位が2, 3, 4になる場合を図に表しましょう。



- ③ 2けたの整数は全部で何通りできますか。

答え (            12通り            )





並べ方と  
組み合わせ方 4

● 4つの数字から  
2けたの整数をつくる



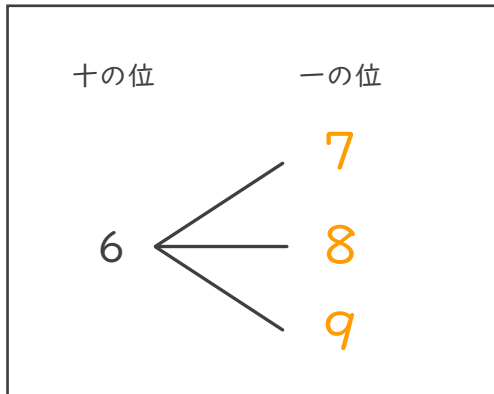
日にち：            月            日

名まえ \_\_\_\_\_

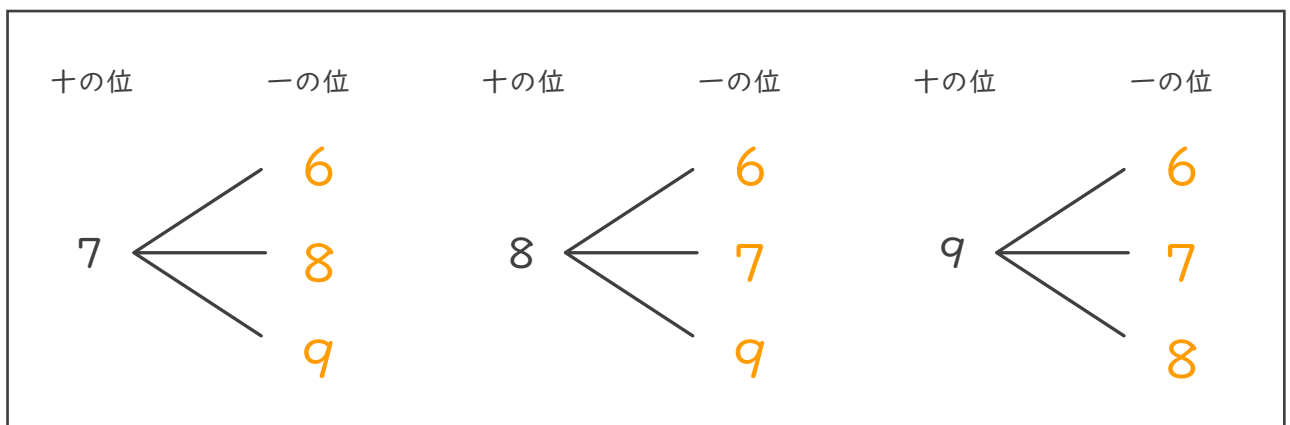
- ・下の4枚のカードのうちの2枚を選んで、2けたの整数をつくりま  
す。次の問いに答えましょう。



- ① 十の位が1になる場合を図に表しましょう。



- ② 十の位が2, 3, 4になる場合を図に表しましょう。



- ③ 2けたの整数は全部で何通りできますか。

答え (            12通り            )



並べ方と  
組み合わせ方 4

● 4つの数字から  
2けたの整数をつくる



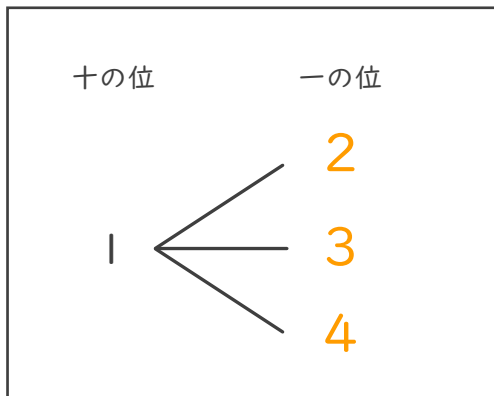
日にち：            月            日

名まえ \_\_\_\_\_

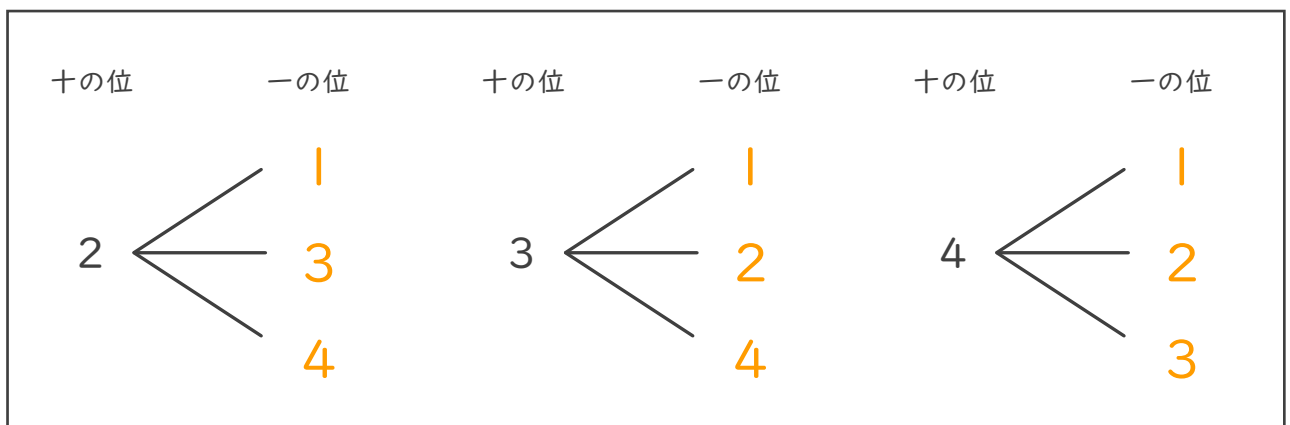
- ・下の4枚のカードのうちの2枚を選んで、2けたの整数をつくりまます。  
次の問いに答えましょう。



- ① 十の位が1になる場合を図に表しましょう。



- ② 十の位が2, 3, 4になる場合を図に表しましょう。



- ③ 2けたの整数は全部で何通りできますか。

答え (            12通り            )