



並べ方と 組み合わせ方 5

◎ 試合の対戦表をつくらう



日にち： 月 日


名まえ _____

- ・ A, B, C, Dの4チームで、サッカーの試合をします。どのチームも、ちがったチームと1回ずつ試合をします。次の問いに答えましょう。（うすい字はなぞりましょう。）

- ① 4つのチームの対戦の組み合わせは何通りありますか。表に○を書いて調べましょう。

	A	B	C	D
A		○	○	○
B			○	○
C				○
D				

同じ組み合わせの
ところは書かないよ



	A	B	C	D
A		A:B	A:C	A:D
B	B:A		B:C	B:D
C	C:A	C:B		C:D
D	D:A	D:B	D:C	

答え（ 6通り ）

- ② ①の表で、A対Bの試合を表す○をぬりましょう。



並べ方と
組み合わせ方 5



◎ 試合の対戦表をつくらう

日にち： 月 日

名まえ _____

- ・ A, B, C, Dの4チームで、サッカーの試合をします。どのチームも、ちがったチームと1回ずつ試合をします。次の問いに答えましょう。(うすい字はなぞりましょう。)

- ① 4つのチームの対戦の組み合わせは何通りありますか。表に○を書いて調べましょう。

	A	B	C	D
A		○		
B				
C				
D				

同じ組み合わせの
ところは書かないよ



	A	B	C	D
A		A:B	A:C	A:D
B	B:A		B:C	B:D
C	C:A	C:B		C:D
D	D:A	D:B	D:C	

答え ()

- ② ①の表で、A対Cの試合を表す○をぬりましょう。





並べ方と
組み合わせ方 5

◎ 試合の対戦表をつくらう



日にち： 月 日


名まえ _____

・ A, B, C, Dの4チームで、サッカーの試合をします。どのチームも、ちがったチームと1回ずつ試合をします。次の問いに答えましょう。(うすい字はなぞりましょう。)

- ① 4つのチームの対戦の組み合わせは何通りありますか。表に○を書いて調べましょう。

	A	B	C	D
A		○		
B				
C				
D				

同じ組み合わせの
ところは書かないよ



	A	B	C	D
A		A:B	A:C	A:D
B	B:A		B:C	B:D
C	C:A	C:B		C:D
D	D:A	D:B	D:C	

答え ()

- ② ①の表で、B対Cの試合を表す○をぬりましょう。



並べ方と 組み合わせ方 5

◎ 試合の対戦表をつくらう

4

日にち： 月 日

名まえ _____

- ・ A, B, C, Dの4チームで、サッカーの試合をします。どのチームも、ちがったチームと1回ずつ試合をします。次の問いに答えましょう。(うすい字はなぞりましょう。)

- ① 4つのチームの対戦の組み合わせは何通りありますか。表に○を書いて調べましょう。

	A	B	C	D
A		○		
B				
C				
D				

同じ組み合わせの
ところは書かないよ



	A	B	C	D
A		A:B	A:C	A:D
B	B:A		B:C	B:D
C	C:A	C:B		C:D
D	D:A	D:B	D:C	

答え ()

- ② ①の表で、B対Dの試合を表す○をぬりましょう。





並べ方と 組み合わせ方 5

◎ 試合の対戦表をつくらう



日にち： 月 日

名まえ _____

・ A, B, C, Dの4チームで、サッカーの試合をします。どのチームも、ちがったチームと1回ずつ試合をします。次の問いに答えましょう。

① 4つのチームの対戦の組み合わせは何通りありますか。表に○を書いて調べましょう。

	A	B	C	D
A				
B				
C				
D				

答え ()

② ①の表で、C対Dの試合を表す○をぬりましょう。



並べ方と 組み合わせ方 5

◎ 試合の対戦表をつくろう



日にち： 月 日

名まえ _____

- ・ A, B, C, Dの4チームで、サッカーの試合をします。どのチームも、ちがったチームと1回ずつ試合をします。次の問いに答えましょう。

- ① 4つのチームの対戦の組み合わせは何通りありますか。表に○を書いて調べましょう。

A	B	C	D
A			
B			
C			
D			

答え ()

- ② ①の表で、A対Dの試合を表す○をぬりましょう。





並べ方と 組み合わせ方 5

◎ 試合の対戦表をつくろう



日にち： 月 日

名まえ _____

- ・ A, B, C, D の4チームで、サッカーの試合をします。どのチームも、ちがったチームと1回ずつ試合をします。次の問いに答えましょう。

- ① 4つのチームの対戦の組み合わせは何通りありますか。表に○を書いて調べましょう。

	A	B	C	D
A				
B				
C				
D				

答え ()

- ② ①の表で、A対Cの試合を表す○をぬりましょう。





並べ方と 組み合わせ方 5

◎ 試合の対戦表をつくろう



日にち： 月 日

名まえ _____

- ・ A, B, C, Dの4チームで、サッカーの試合をします。どのチームも、ちがったチームと1回ずつ試合をします。次の問いに答えましょう。

- ① 4つのチームの対戦の組み合わせは何通りありますか。表に○を書いて調べましょう。

	A	B	C	D
A				
B				
C				
D				

答え ()

- ② ①の表で、B対Cの試合を表す○をぬりましょう。



並べ方と
組み合わせ方 5

◎ 試合の対戦表をつくろう



日にち： 月 日

名まえ _____

- ・ A, B, C, Dの4チームで、サッカーの試合をします。どのチームも、ちがったチームと1回ずつ試合をします。次の問いに答えましょう。

- ① 4つのチームの対戦の組み合わせは何通りありますか。表に○を書いて調べましょう。

	A	B	C	D
A				
B				
C				
D				

答え ()

- ② ①の表で、A対Bの試合を表す○をぬりましょう。



並べ方と 組み合わせ方 5

◎ 試合の対戦表をつくらう



日にち： 月 日


名まえ _____

- ・ A, B, C, Dの4チームで、サッカーの試合をします。どのチームも、ちがったチームと1回ずつ試合をします。次の問いに答えましょう。（うすい字はなぞりましょう。）

- ① 4つのチームの対戦の組み合わせは何通りありますか。表に○を書いて調べましょう。

	A	B	C	D
A		●	○	○
B			○	○
C				○
D				

同じ組み合わせの
ところは書かないよ



	A	B	C	D
A		A:B	A:C	A:D
B	B:A		B:C	B:D
C	C:A	C:B		C:D
D	D:A	D:B	D:C	

答え（ 6通り ）

- ② ①の表で、A対Bの試合を表す○をぬりましょう。





並べ方と 組み合わせ方 5

◎ 試合の対戦表をつくらう



日にち： 月 日

名まえ _____

- ・ A, B, C, Dの4チームで、サッカーの試合をします。どのチームも、ちがったチームと1回ずつ試合をします。次の問いに答えましょう。（うすい字はなぞりましょう。）

- ① 4つのチームの対戦の組み合わせは何通りありますか。表に○を書いて調べましょう。

	A	B	C	D
A		○	●	○
B			○	○
C				○
D				

同じ組み合わせの
ところは書かないよ



	A	B	C	D
A		A:B	A:C	A:D
B	B:A		B:C	B:D
C	C:A	C:B		C:D
D	D:A	D:B	D:C	

答え（ 6通り ）

- ② ①の表で、A対Cの試合を表す○をぬりましょう。





並べ方と 組み合わせ方 5

◎ 試合の対戦表をつくらう



日にち： 月 日


名まえ _____

- ・ A, B, C, Dの4チームで、サッカーの試合をします。どのチームも、ちがったチームと1回ずつ試合をします。次の問いに答えましょう。（うすい字はなぞりましょう。）

- ① 4つのチームの対戦の組み合わせは何通りありますか。表に○を書いて調べましょう。

	A	B	C	D
A		○	○	○
B			●	○
C				○
D				

同じ組み合わせの
ところは書かないよ



	A	B	C	D
A		A:B	A:C	A:D
B	B:A		B:C	B:D
C	C:A	C:B		C:D
D	D:A	D:B	D:C	

答え（ 6通り ）

- ② ①の表で、B対Cの試合を表す○をぬりましょう。





並べ方と 組み合わせ方 5

◎ 試合の対戦表をつくらう



日にち： 月 日


名まえ _____

- ・ A, B, C, Dの4チームで、サッカーの試合をします。どのチームも、ちがったチームと1回ずつ試合をします。次の問いに答えましょう。（うすい字はなぞりましょう。）

- ① 4つのチームの対戦の組み合わせは何通りありますか。表に○を書いて調べましょう。

	A	B	C	D
A		○	○	○
B			○	●
C				○
D				

同じ組み合わせの
ところは書かないよ



	A	B	C	D
A		A:B	A:C	A:D
B	B:A		B:C	B:D
C	C:A	C:B		C:D
D	D:A	D:B	D:C	

答え（ 6通り ）

- ② ①の表で、B対Dの試合を表す○をぬりましょう。





並べ方と 組み合わせ方 5

◎ 試合の対戦表をつくろう



日にち： 月 日

名まえ _____

- ・ A, B, C, Dの4チームで、サッカーの試合をします。どのチームも、ちがったチームと1回ずつ試合をします。次の問いに答えましょう。

- ① 4つのチームの対戦の組み合わせは何通りありますか。表に○を書いて調べましょう。

	A	B	C	D
A		○	○	○
B			○	○
C				●
D				

答え (6通り)

- ② ①の表で、C対Dの試合を表す○をぬりましょう。



並べ方と 組み合わせ方 5

◎ 試合の対戦表をつくらう



日にち： 月 日

名まえ _____

- ・ A, B, C, Dの4チームで、サッカーの試合をします。どのチームも、ちがったチームと1回ずつ試合をします。次の問いに答えましょう。

- ① 4つのチームの対戦の組み合わせは何通りありますか。表に○を書いて調べましょう。

	A	B	C	D
A		○	○	●
B			○	○
C				○
D				

答え (6通り)

- ② ①の表で、A対Dの試合を表す○をぬりましょう。



並べ方と 組み合わせ方 5

◎ 試合の対戦表をつくろう



日にち： 月 日

名まえ _____

- ・ A, B, C, Dの4チームで、サッカーの試合をします。どのチームも、ちがったチームと1回ずつ試合をします。次の問いに答えましょう。

- ① 4つのチームの対戦の組み合わせは何通りありますか。表に○を書いて調べましょう。

	A	B	C	D
A		○	●	○
B			○	○
C				○
D				

答え (6通り)

- ② ①の表で、A対Cの試合を表す○をぬりましょう。



並べ方と 組み合わせ方 5

◎ 試合の対戦表をつくろう



日にち： 月 日

名まえ _____

- ・ A, B, C, Dの4チームで、サッカーの試合をします。どのチームも、ちがったチームと1回ずつ試合をします。次の問いに答えましょう。

- ① 4つのチームの対戦の組み合わせは何通りありますか。表に○を書いて調べましょう。

	A	B	C	D
A		○	○	○
B			●	○
C				○
D				

答え (6通り)

- ② ①の表で、B対Cの試合を表す○をぬりましょう。



並べ方と 組み合わせ方 5

◎ 試合の対戦表をつくろう



日にち： 月 日

名まえ _____

- ・ A, B, C, Dの4チームで、サッカーの試合をします。どのチームも、ちがったチームと1回ずつ試合をします。次の問いに答えましょう。

- ① 4つのチームの対戦の組み合わせは何通りありますか。表に○を書いて調べましょう。

	A	B	C	D
A		●	○	○
B			○	○
C				○
D				

答え (6通り)

- ② ①の表で、A対Bの試合を表す○をぬりましょう。