



# 並べ方と 組み合わせ方 6


● 2つ選ぶ組み合わせ  
(樹形図)



日にち：            月            日

名まえ \_\_\_\_\_


・イチゴ、チョコ、バニラ、メロンの4つのアイスクリームから、2つ選びます。次の問いに答えましょう。(うすい字はなぞりましょう。)



イチゴ



チョコ



バニラ

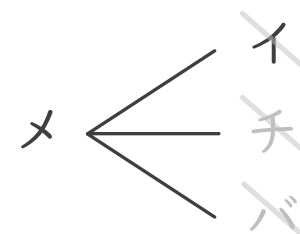
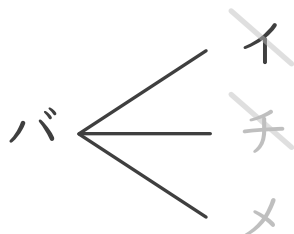
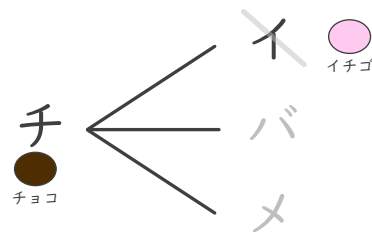
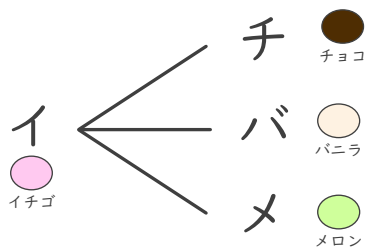


メロン

① どんな組み合わせがありますか。図にまとめましょう。

イチゴ ⇒ イ      バニラ ⇒ バ  
チョコ ⇒ チ      メロン ⇒ メ

1文字で表して  
かいてみよう!



② アイスクリームの組み合わせは全部で何通りありますか。

答え (                            )



並べ方と  
組み合わせ方 6

● 2つ選ぶ組み合わせ  
(樹形図)



日にち： 月 日

名まえ \_\_\_\_\_

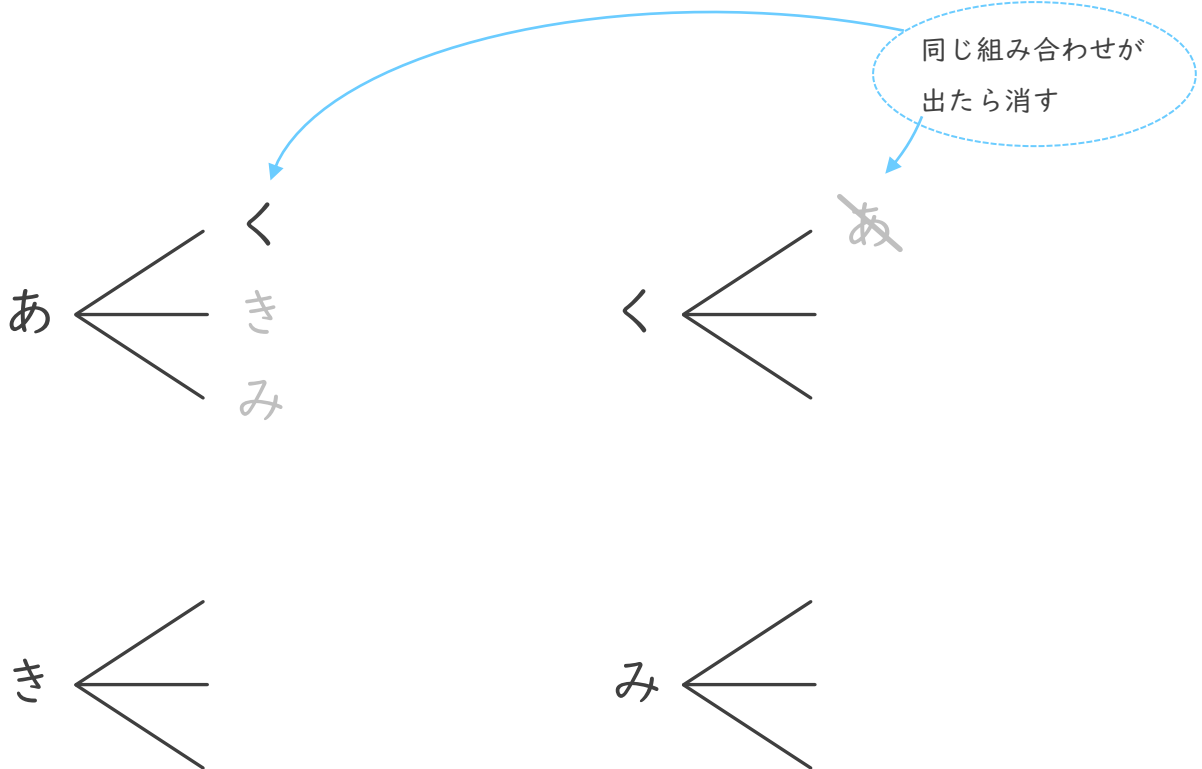
- ・ 赤、黒、黄色、みどりの4つのクレヨンから、2つ選びます。

次の問いに答えましょう。(うすい字はなぞりましょう。)

- ① どんな組み合わせがありますか。図にまとめましょう。

赤 ⇒ あ	黒 ⇒ く
黄色 ⇒ き	みどり ⇒ み

！文字で表して  
かいてみよう！



- ② クレヨンの組み合わせは全部で何通りありますか。

答え ( )



並べ方と  
組み合わせ方 6

● 2つ選ぶ組み合わせ  
(樹形図)

3

日にち：      月      日

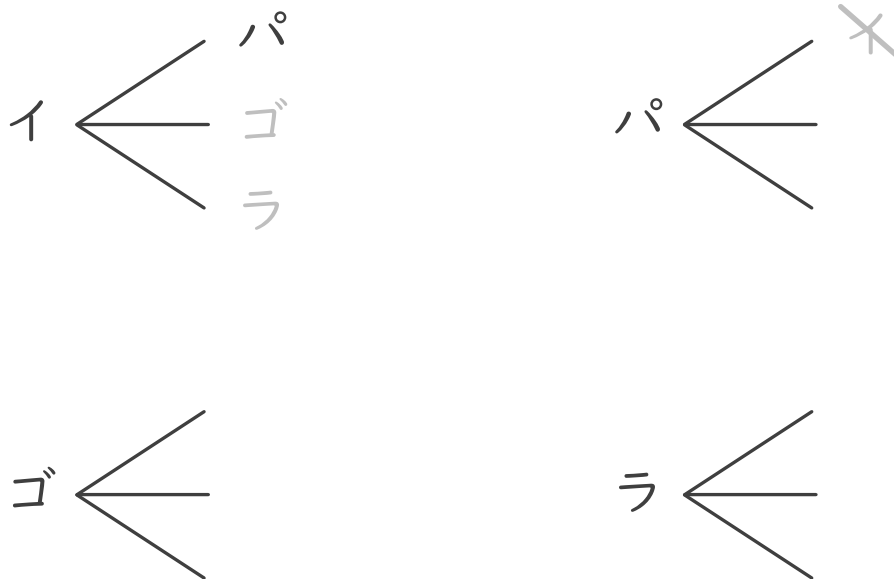
名まえ \_\_\_\_\_

- ・イルカ、パンダ、ゴリラ、ライオンの4つの動物から、2つ選びます。  
次の問いに答えましょう。(うすい字はなぞりましょう。)

① どんな組み合わせがありますか。図にまとめましょう。

イルカ ⇒ イ	パンダ ⇒ パ
ゴリラ ⇒ ゴ	ライオン ⇒ ラ

1文字で表して  
かいてみよう!



同じ組み合わせが  
出たら消す

② 動物の組み合わせは全部で何通りありますか。

答え (                      )



並べ方と  
組み合わせ方 6

● 2つ選ぶ組み合わせ  
(樹形図)

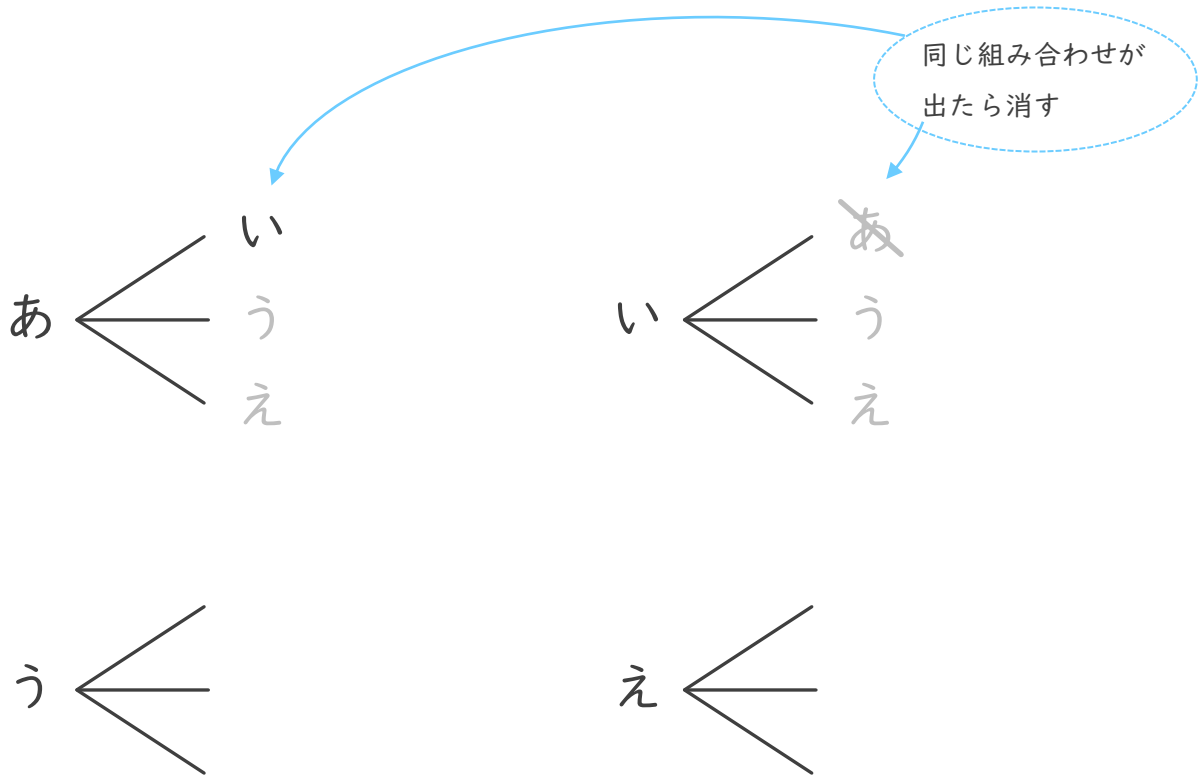
4

日にち： 月 日

名まえ \_\_\_\_\_

- ・ あ、い、う、え の4つのひらがなから、2つ選びます。  
次の問いに答えましょう。(うすい字はなぞりましょう。)

① どんな組み合わせがありますか。図にまとめましょう。



② ひらがなの組み合わせは全部で何通りありますか。

答え ( )



並べ方と  
組み合わせ方 6

● 2つ選ぶ組み合わせ  
(樹形図)




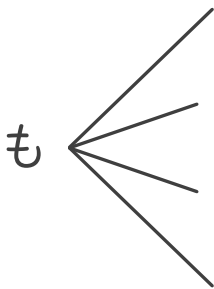
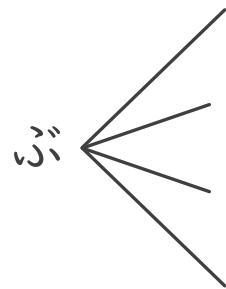
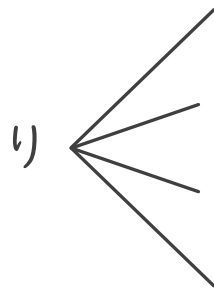
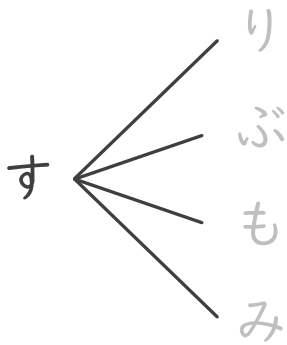
日にち： 月 日

名まえ \_\_\_\_\_

・ すいか、りんご、ぶどう、もも、みかんの5つのジュースから、2つ  
選びます。次の問いに答えましょう。(うすい字はなぞりましょう。)

① どんな組み合わせがありますか。図にまとめましょう。

すいか ⇒ す	りんご ⇒ り	ぶどう ⇒ ぶ
もも ⇒ も	みかん ⇒ み	



↑線もなぞりましょう

② ジュースの組み合わせは全部で何通りありますか。

答え ( )







並べ方と  
組み合わせ方 6

● 2つ選ぶ組み合わせ  
(樹形図)



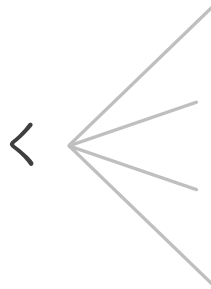
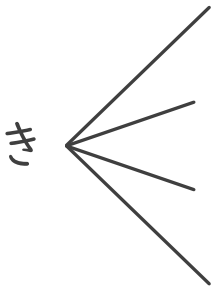
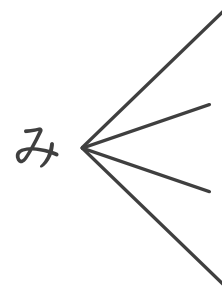
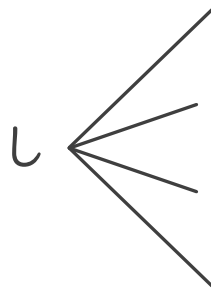
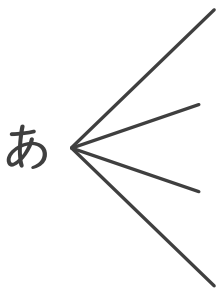
日にち：            月            日

名まえ \_\_\_\_\_

- ・赤、白、緑、黄色、黒の5つの色から、2つ選びます。  
次の問いに答えましょう。

① どんな組み合わせがありますか。図にまとめましょう。

赤 ⇒ あ          白 ⇒ し          緑 ⇒ み  
黄色 ⇒ き      黒 ⇒ く



↑線もなぞりましょう

② 色の組み合わせは全部で何通りありますか。

答え (                                  )







# 並べ方と 組み合わせ方 6

● 2つ選ぶ組み合わせ  
(樹形図)



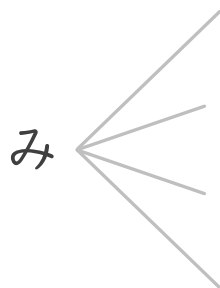
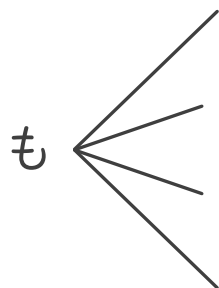
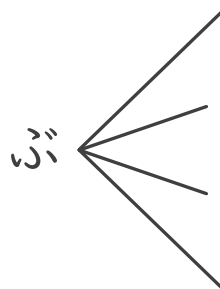
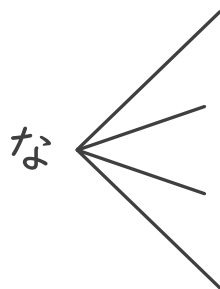
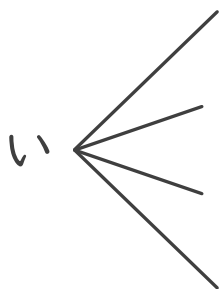
日にち：           月           日

名まえ \_\_\_\_\_

・いちご、なし、ぶどう、もも、みかんの5つのゼリーから、  
2つ選びます。次の問いに答えましょう。

① どんな組み合わせがありますか。図にまとめましょう。

いちご ⇒ い	なし ⇒ な	ぶどう ⇒ ぶ
もも ⇒ も	みかん ⇒ み	



↑線もなぞりましょう

② ゼリーの組み合わせは全部で何通りありますか。

答え (                                 )



並べ方と  
組み合わせ方 6

● 2つ選ぶ組み合わせ  
(樹形図)



日にち： 月 日

名まえ \_\_\_\_\_

・か、き、く、け、この5つのひらがなから、2つ選びます。

次の問いに答えましょう。

① どんな組み合わせがありますか。図にまとめましょう。

② ひらがなの組み合わせは全部で何通りありますか。

答え ( )





並べ方と  
組み合わせ方 6

● 2つ選ぶ組み合わせ  
(樹形図)



日にち： 月 日

名まえ \_\_\_\_\_

・イチゴ、チョコ、バナナ、メロン、ブドウの5つの味から、  
2つ選びます。次の問いに答えましょう。

① どんな組み合わせがありますか。図にまとめましょう。

② 味の組み合わせは全部で何通りありますか。

答え ( )





## 並べ方と 組み合わせ方 6

● 2つ選ぶ組み合わせ  
(樹形図)

12

日にち：            月            日

名まえ \_\_\_\_\_

・しお、のり、はちみつ、カレー、キャラメル の 5 つの味から、  
2 つ選びます。次の問いに答えましょう。

① どんな組み合わせがありますか。図にまとめましょう。

② 味の組み合わせは全部で何通りありますか。

答え (                                  )







並べ方と  
組み合わせ方 6

● 2つ選ぶ組み合わせ  
(樹形図)

14

日にち： 月 日

名まえ \_\_\_\_\_

・ さ, し, す, せ, その5つのひらがなから、2つ選びます。

次の問いに答えましょう。

① どんな組み合わせがありますか。図にまとめましょう。

② ひらがなの組み合わせは全部で何通りありますか。

答え ( )



並べ方と  
組み合わせ方 6

- 2つ選ぶ組み合わせ  
(樹形図)

15

めざせ100点!



名まえ

---

・オレンジ、りんご、なし、もも、みかんの5つのフルーツから、  
2つ選びます。次の問いに答えましょう。

① どんな組み合わせがありますか。図にまとめましょう。(70点)

② フルーツの組み合わせは全部で何通りありますか。(30点)

答え ( )



並べ方と  
組み合わせ方 6

- 2つ選ぶ組み合わせ  
(樹形図)

16

めざせ100点!



名まえ

---

・ さ, し, す, せ, その5つのひらがなから、2つ選びます。  
次の問いに答えましょう。

① どんな組み合わせがありますか。図にまとめましょう。(70点)

② ひらがなの組み合わせは全部で何通りありますか。(30点)

答え ( )





# 並べ方と 組み合わせ方 6


● 2つ選ぶ組み合わせ  
(樹形図)



日にち：            月            日

名まえ \_\_\_\_\_


・イチゴ、チョコ、バニラ、メロンの4つのアイスクリームから、2つ  
選びます。次の問いに答えましょう。(うすい字はなぞりましょう。)



イチゴ



チョコ



バニラ

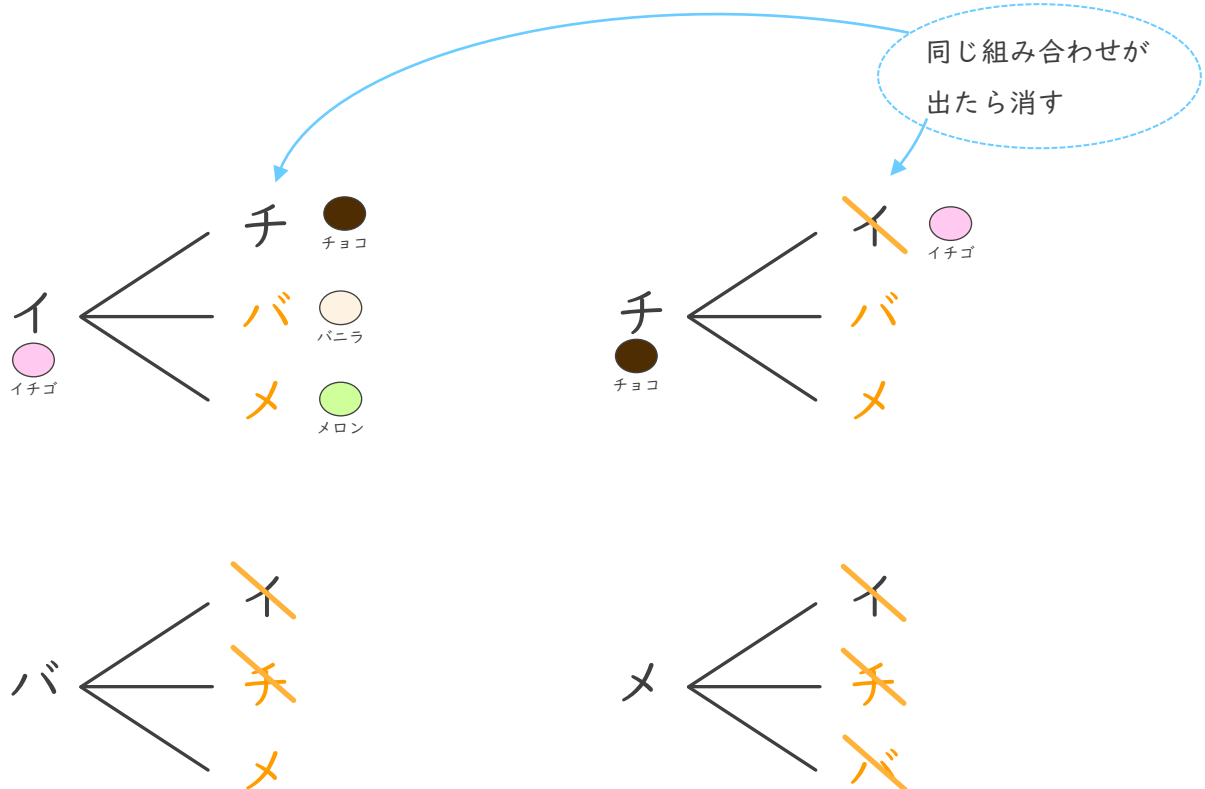


メロン

① どんな組み合わせがありますか。図にまとめましょう。

イチゴ ⇒ <u>イ</u>	バニラ ⇒ <u>バ</u>
チョコ ⇒ <u>チ</u>	メロン ⇒ <u>メ</u>

1文字で表して  
かいてみよう!



② アイスクリームの組み合わせは全部で何通りありますか。

答え (            6通り            )





# 並べ方と 組み合わせ方 6

● 2つ選ぶ組み合わせ  
(樹形図)



日にち：            月            日

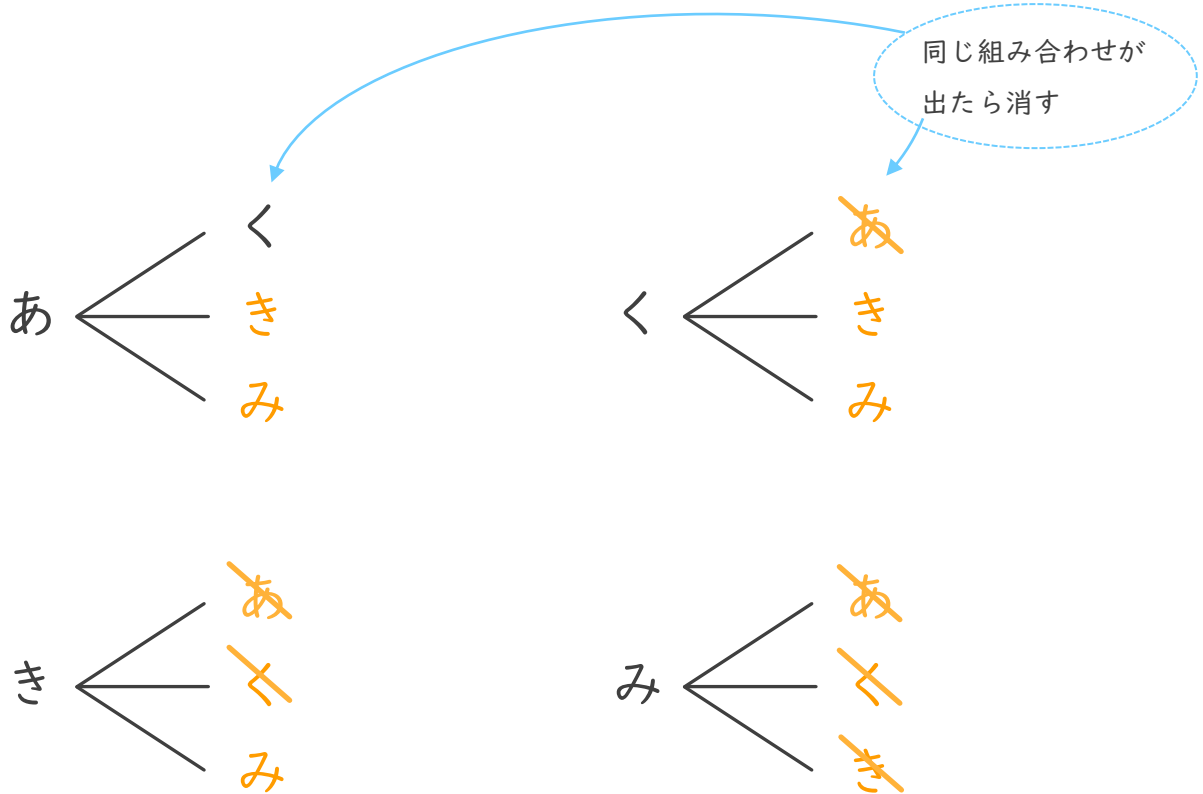
名まえ \_\_\_\_\_

・ 赤、黒、黄色、みどりの4つのクレヨンから、2つ選びます。  
次の問いに答えましょう。(うすい字はなぞりましょう。)

① どんな組み合わせがありますか。図にまとめましょう。

赤 ⇒ あ	黒 ⇒ く
黄色 ⇒ き	みどり ⇒ み

！文字で表して  
かいてみよう！



② クレヨンの組み合わせは全部で何通りありますか。

答え (            6通り            )



# 並べ方と 組み合わせ方 6

● 2つ選ぶ組み合わせ  
(樹形図)



日にち：            月            日

名まえ \_\_\_\_\_

・イルカ、パンダ、ゴリラ、ライオンの4つの動物から、2つ選びます。  
次の問いに答えましょう。(うすい字はなぞりましょう。)

① どんな組み合わせがありますか。図にまとめましょう。

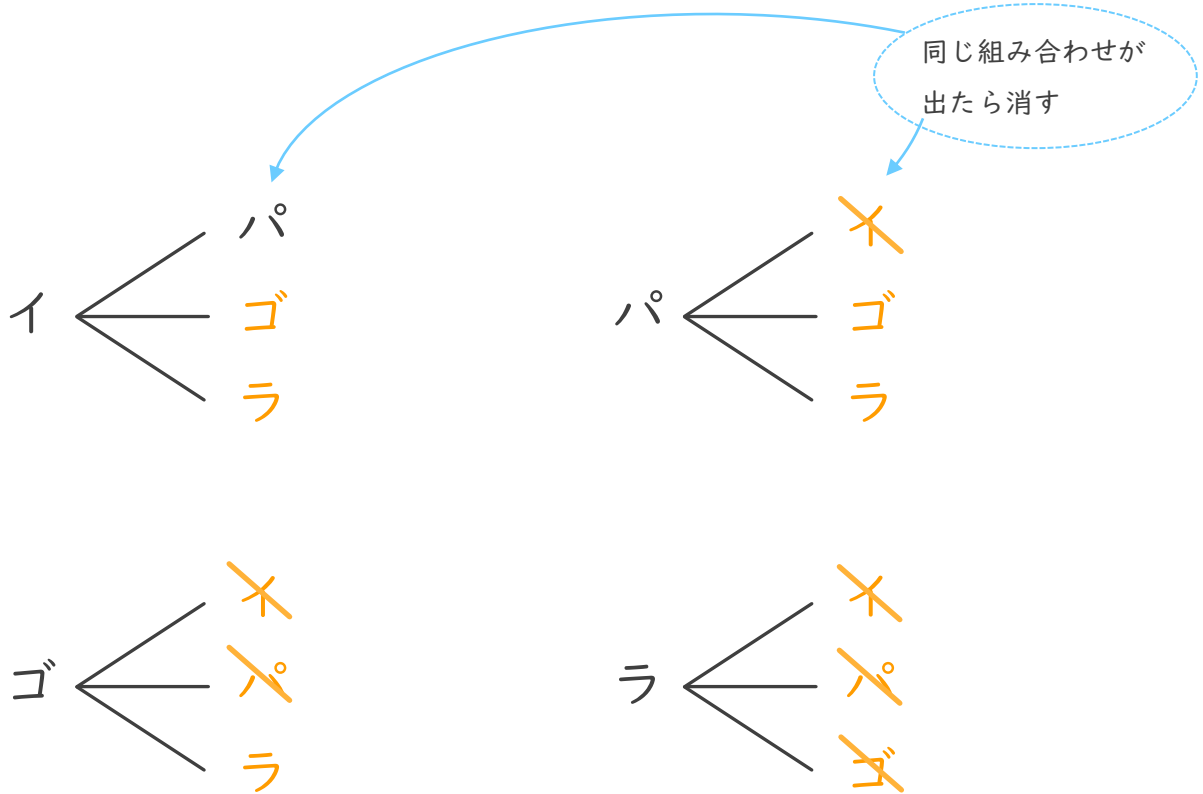
イルカ ⇒ **イ**

パンダ ⇒ **パ**

！文字で表して  
かいてみよう！

ゴリラ ⇒ **ゴ**

ライオン ⇒ **ラ**



② 動物の組み合わせは全部で何通りありますか。

答え (        **6通り**        )





並べ方と  
組み合わせ方 6

● 2つ選ぶ組み合わせ  
(樹形図)

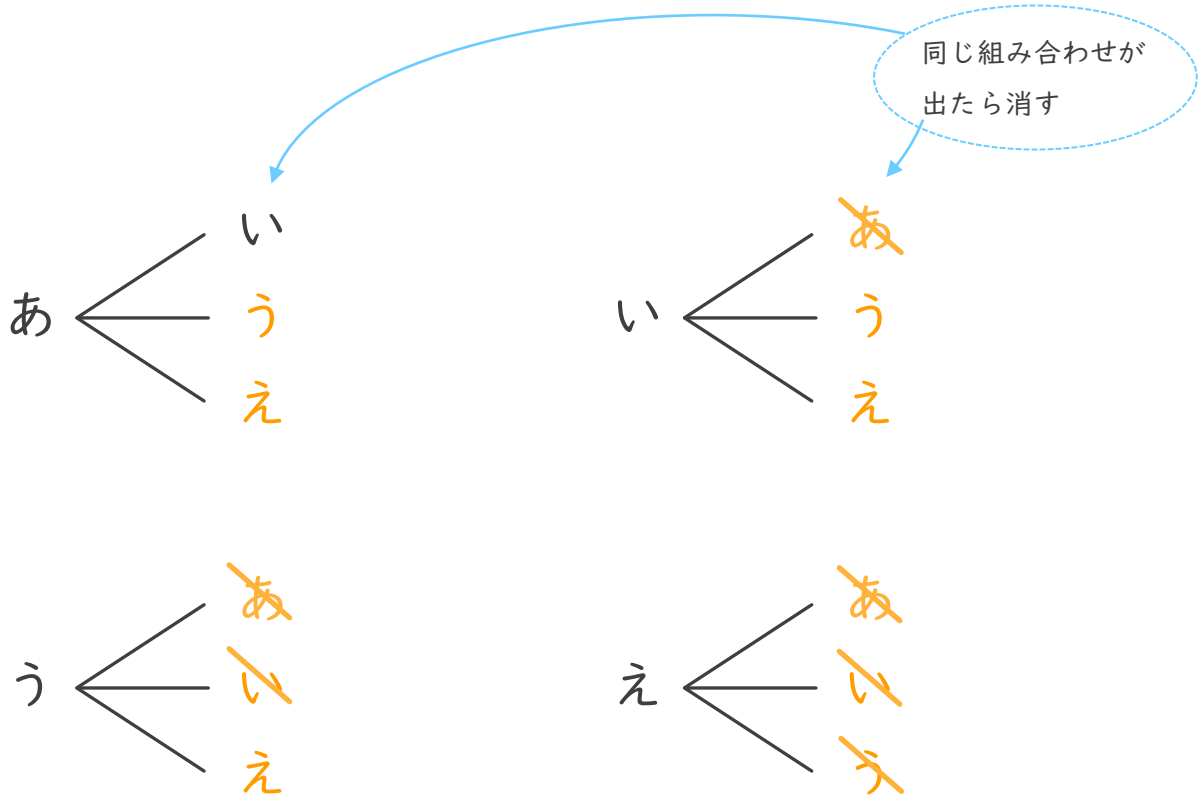
4

日にち：            月            日

名まえ \_\_\_\_\_

- ・ あ、い、う、え の4つのひらがなから、2つ選びます。  
次の問いに答えましょう。(うすい字はなぞりましょう。)

① どんな組み合わせがありますか。図にまとめましょう。



② ひらがなの組み合わせは全部で何通りありますか。

答え (            6 通り            )



並べ方と  
組み合わせ方 6

② 2つ選ぶ組み合わせ  
(樹形図)



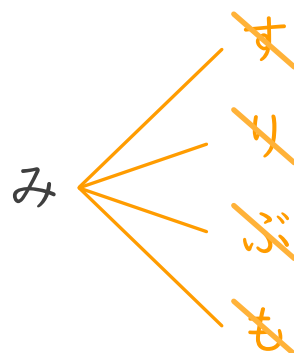
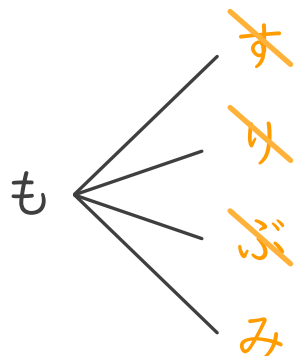
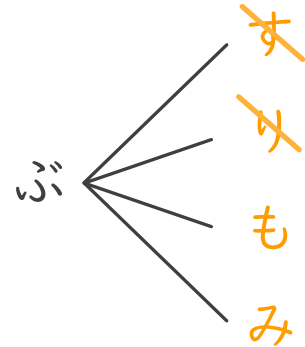
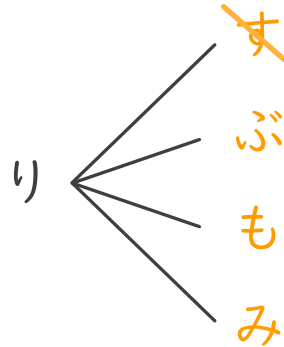
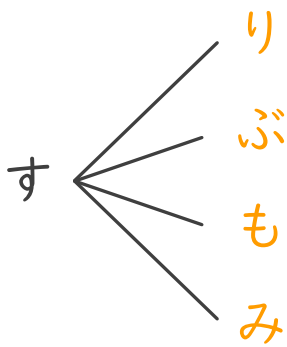
日にち：            月            日

名まえ \_\_\_\_\_

・ すいか、りんご、ぶどう、もも、みかんの5つのジュースから、2つ  
選びます。次の問いに答えましょう。(うすい字はなぞりましょう。)

① どんな組み合わせがありますか。図にまとめましょう。

すいか ⇒ す      りんご ⇒ り      ぶどう ⇒ ぶ  
もも ⇒ も      みかん ⇒ み



↑線もなぞりましょう

② ジュースの組み合わせは全部で何通りありますか。

答え (      10通り      )





並べ方と  
組み合わせ方 6

● 2つ選ぶ組み合わせ  
(樹形図)



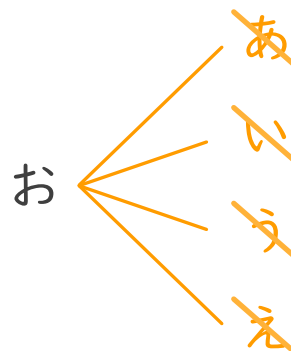
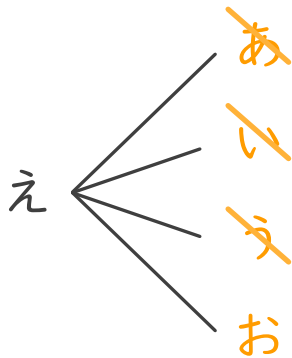
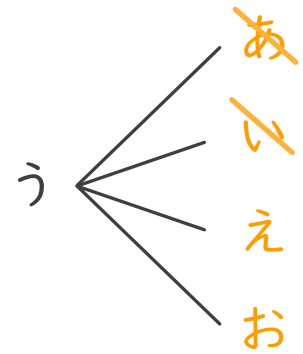
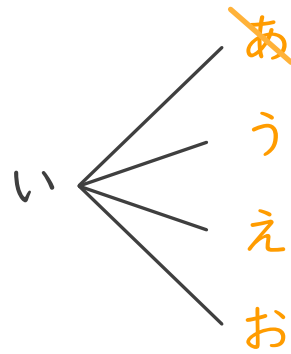
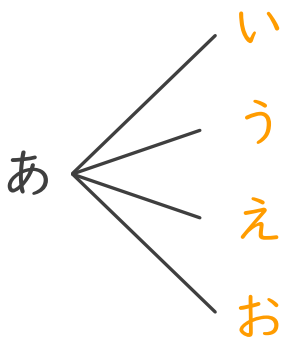
日にち： 月 日

名まえ \_\_\_\_\_

・あ、い、う、え、おの5つのひらがなから、2つ選びます。

次の問いに答えましょう。(うすい字はなぞりましょう。)

① どんな組み合わせがありますか。図にまとめましょう。



↑線もなぞりましょう

② ひらがなの組み合わせは全部で何通りありますか。

答え ( 10通り )



# 並べ方と 組み合わせ方 6

● 2つ選ぶ組み合わせ  
(樹形図)



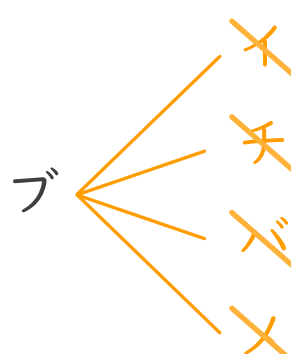
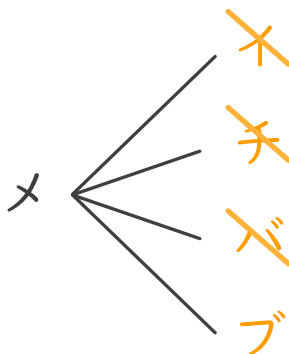
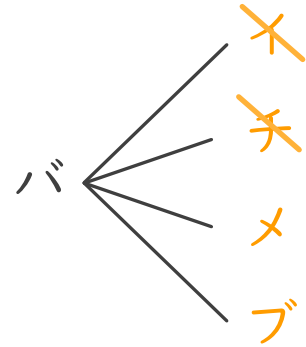
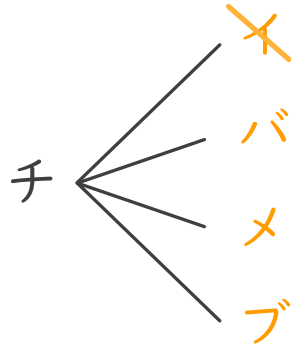
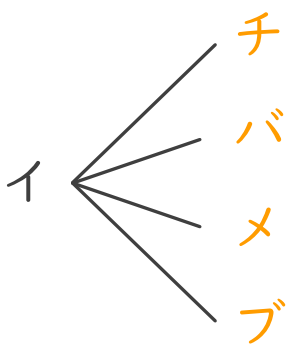
日にち：            月            日

名まえ \_\_\_\_\_

・イチゴ、チョコ、バニラ、メロン、ブドウの5つの味から、  
2つ選びます。次の問いに答えましょう。

① どんな組み合わせがありますか。図にまとめましょう。

<u>イ</u> チゴ ⇒ イ	<u>チ</u> ョコ ⇒ チ	<u>バ</u> ニラ ⇒ バ
<u>メ</u> ロン ⇒ メ	<u>ブ</u> ドウ ⇒ ブ	



↑線もなぞりましょう

② 味の組み合わせは全部で何通りありますか。

答え (    10通り    )





# 並べ方と 組み合わせ方 6

● 2つ選ぶ組み合わせ  
(樹形図)



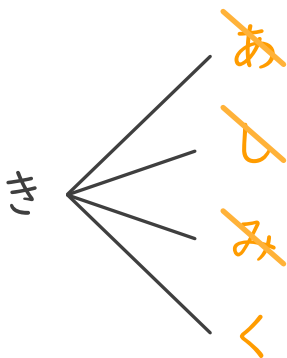
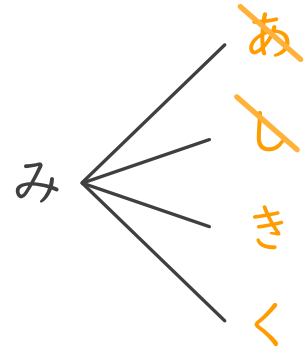
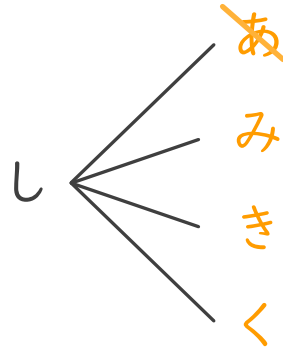
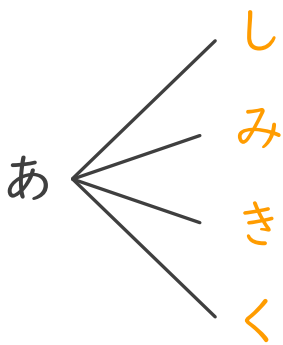
日にち：            月            日

名まえ \_\_\_\_\_

・赤、白、緑、黄色、黒の5つの色から、2つ選びます。  
次の問いに答えましょう。

① どんな組み合わせがありますか。図にまとめましょう。

<u>赤</u> ⇒ あ	<u>白</u> ⇒ し	<u>緑</u> ⇒ み
<u>黄色</u> ⇒ き	<u>黒</u> ⇒ く	



↑線もなぞりましょう

② 色の組み合わせは全部で何通りありますか。

答え (    10通り    )







並べ方と  
組み合わせ方 6

● 2つ選ぶ組み合わせ  
(樹形図)



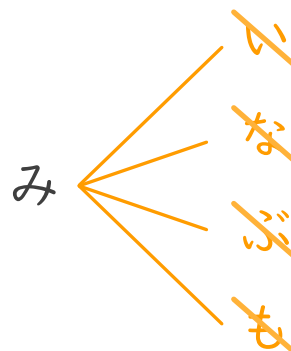
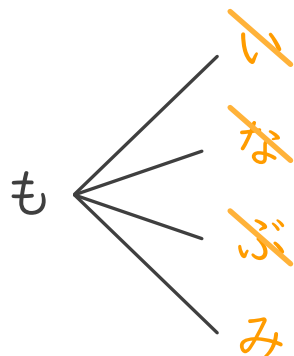
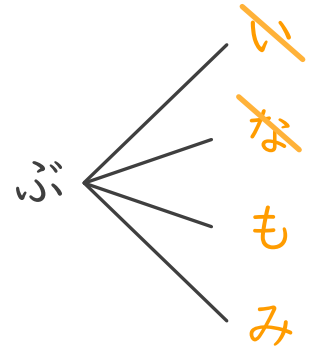
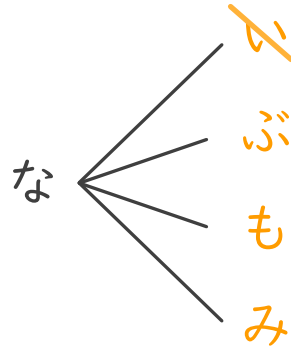
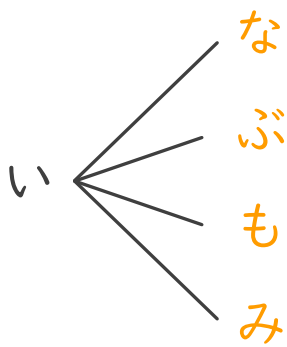
日にち：            月            日

名まえ \_\_\_\_\_

・いちご、なし、ぶどう、もも、みかんの5つのゼリーから、  
2つ選びます。次の問いに答えましょう。

① どんな組み合わせがありますか。図にまとめましょう。

いちご ⇒ い      なし ⇒ な      ぶどう ⇒ ぶ  
もも ⇒ も      みかん ⇒ み



↑線もなぞりましょう

② ゼリーの組み合わせは全部で何通りありますか。

答え (      10通り      )





並べ方と  
組み合わせ方 6

● 2つ選ぶ組み合わせ  
(樹形図)

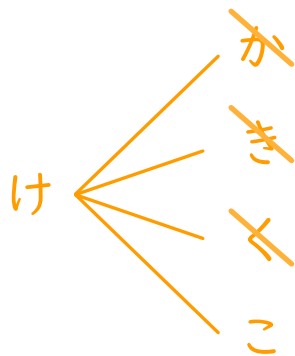

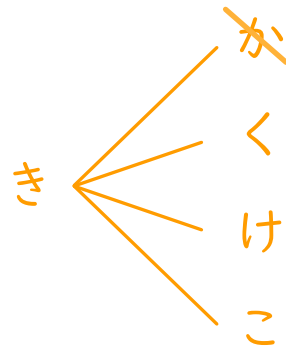
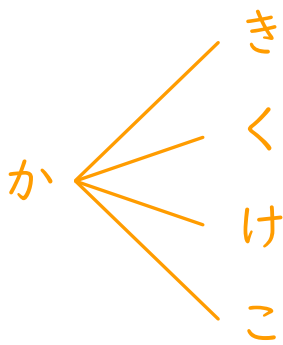
10

日にち：            月            日

名まえ \_\_\_\_\_

・か、き、く、け、この5つのひらがなから、2つ選びます。  
次の問いに答えましょう。

① どんな組み合わせがありますか。図にまとめましょう。



② ひらがなの組み合わせは全部で何通りありますか。

答え (    10通り    )



並べ方と  
組み合わせ方 6

● 2つ選ぶ組み合わせ  
(樹形図)






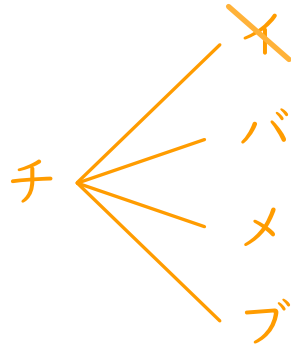
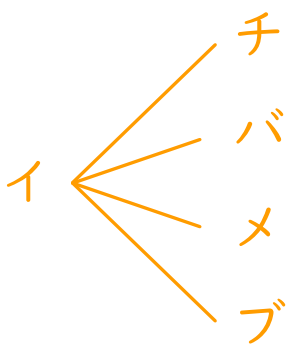
日にち：            月            日

名まえ \_\_\_\_\_

・イチゴ、チョコ、バナナ、メロン、ブドウの5つの味から、  
2つ選びます。次の問いに答えましょう。

① どんな組み合わせがありますか。図にまとめましょう。

イチゴ ⇒ イ      チョコ ⇒ チ      バナナ ⇒ バ  
メロン ⇒ メ      ブドウ ⇒ ブ



② 味の組み合わせは全部で何通りありますか。

答え (      10通り      )



# 並べ方と 組み合わせ方 6

● 2つ選ぶ組み合わせ  
(樹形図)

# 12


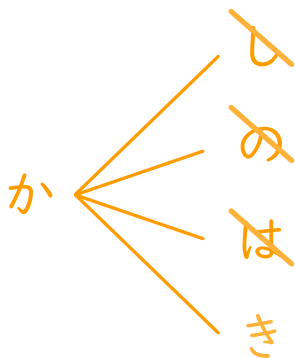
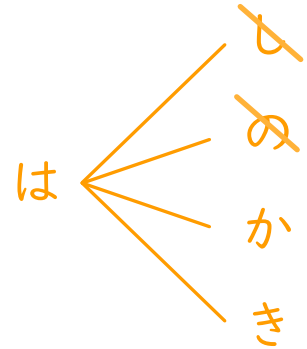
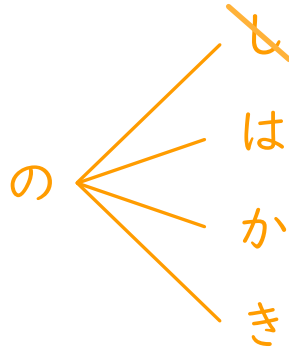
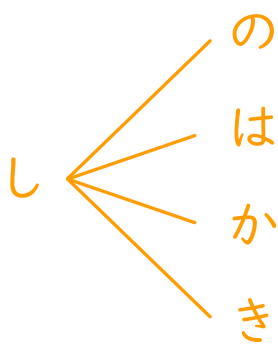
日にち：            月            日

名まえ \_\_\_\_\_

・しお、のり、はちみつ、カレー、キャラメルの5つの味から、  
2つ選びます。次の問いに答えましょう。

① どんな組み合わせがありますか。図にまとめましょう。

<u>し</u> お ⇒ し	<u>の</u> り ⇒ の	<u>は</u> ちみつ ⇒ は
<u>カ</u> レー ⇒ か	<u>キ</u> ャラメル ⇒ き	



② 味の組み合わせは全部で何通りありますか。

答え (    10通り    )





並べ方と  
組み合わせ方 6

● 2つ選ぶ組み合わせ  
(樹形図)

13

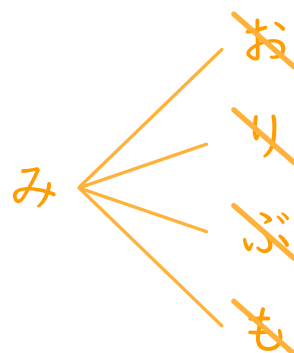

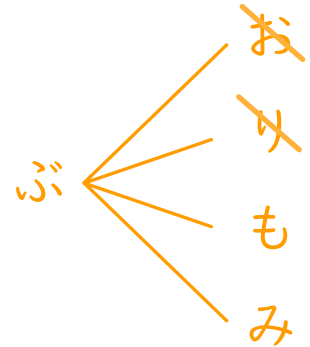
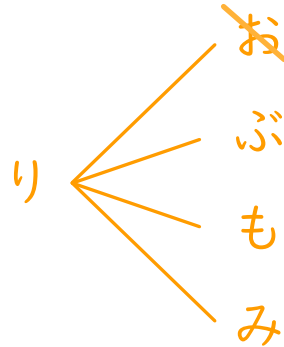
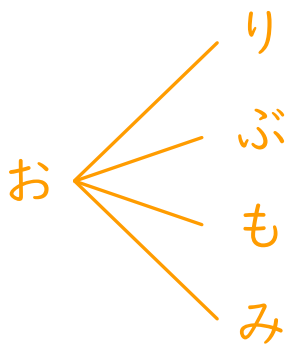
日にち： 月 日

名まえ \_\_\_\_\_

・ オレンジ、りんご、ぶどう、もも、みかんの5つのジュースから、  
2つ選びます。次の問いに答えましょう。

① どんな組み合わせがありますか。図にまとめましょう。

オレンジ ⇒ お    りんご ⇒ り    ぶどう ⇒ ぶ  
もも ⇒ も    みかん ⇒ み



② ジュースの組み合わせは全部で何通りありますか。

答え ( 10通り )



# 並べ方と 組み合わせ方 6

● 2つ選ぶ組み合わせ  
(樹形図)

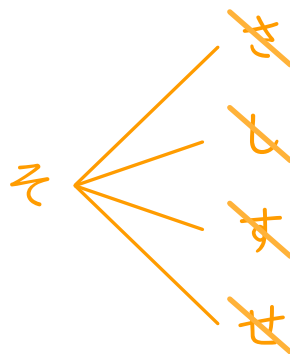

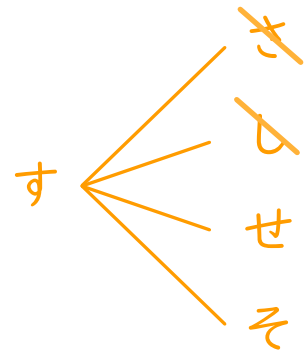
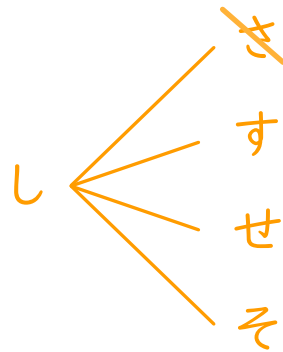
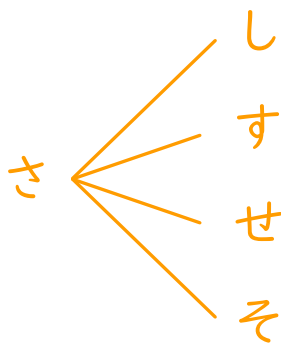
14

日にち：            月            日

名まえ \_\_\_\_\_

・ さ, し, す, せ, その5つのひらがなから、2つ選びます。  
次の問いに答えましょう。

① どんな組み合わせがありますか。図にまとめましょう。



② ひらがなの組み合わせは全部で何通りありますか。

答え (    10通り    )





# 並べ方と 組み合わせ方 6

● 2つ選ぶ組み合わせ  
(樹形図)

# 15

めざせ100点!

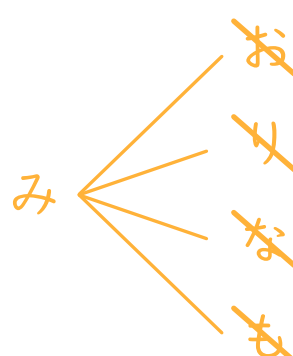
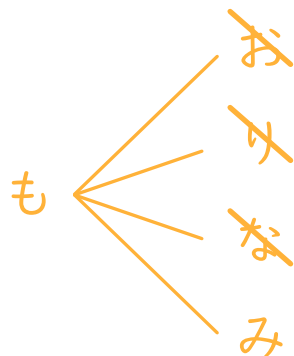
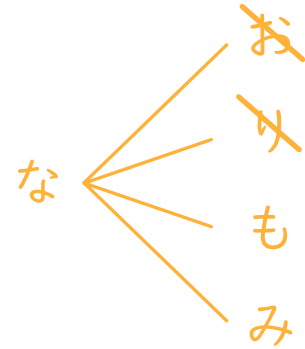
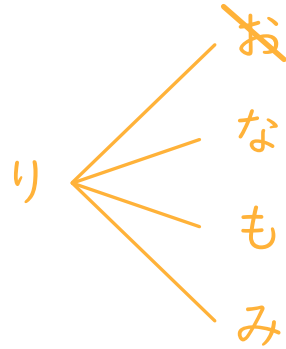
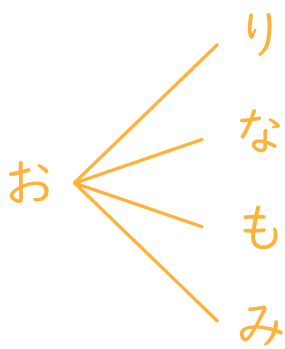


## 名まえ

・オレンジ、りんご、なし、もも、みかんの5つのフルーツから、  
2つ選びます。次の問いに答えましょう。

① どんな組み合わせがありますか。図にまとめましょう。(70点)

オレンジ ⇒ オ	りんご ⇒ リ	なし ⇒ な
もも ⇒ も	みかん ⇒ み	



② フルーツの組み合わせは全部で何通りありますか。(30点)

答え ( 10通り )






# 並べ方と 組み合わせ方 6

● 2つ選ぶ組み合わせ  
(樹形図)

# 16


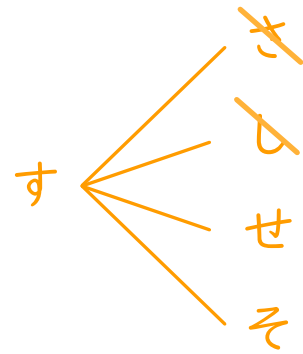
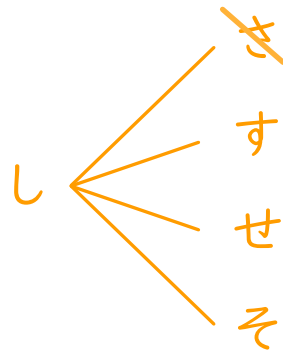
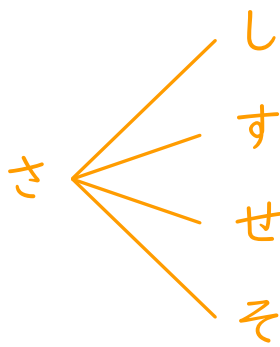
めざせ100点!



名まえ

・ さ, し, す, せ, その5つのひらがなから、2つ選びます。  
次の問いに答えましょう。

① どんな組み合わせがありますか。図にまとめましょう。(70点)



② ひらがなの組み合わせは全部で何通りありますか。(30点)

答え ( 10通り )

