



並べ方と 組み合わせ方 7

● お金を組み合わせて
できる金額



日にち： 月 日

名まえ _____

下の4種類のお金が1枚ずつあります。次の問いに答えましょう。

(うすい字はなぞりましょう。)



500円



100円

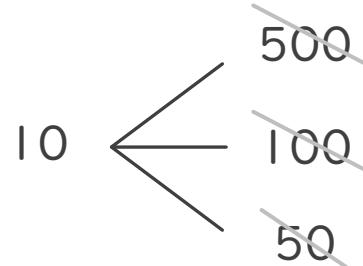
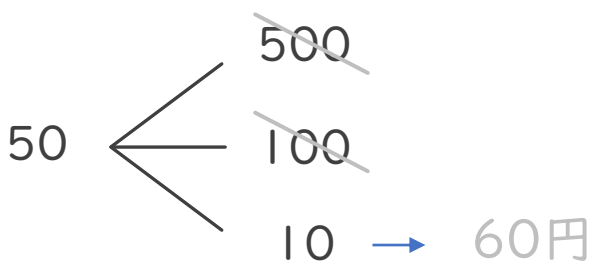
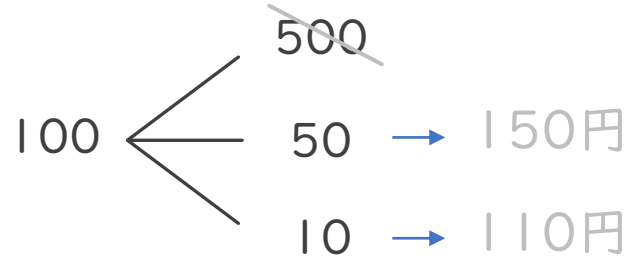
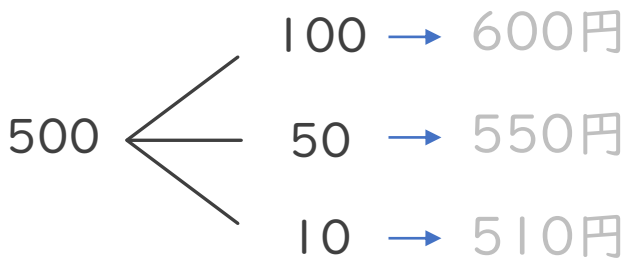


50円



10円

① 4枚のうち2枚を組み合わせてできる金額を全部かきましょう。



答え

600円、

② ①の金額のうち、90円以上の金額は何通りありますか。

答え ()



並べ方と 組み合わせ方 ⑦

◎ お金を組み合わせて
できる金額



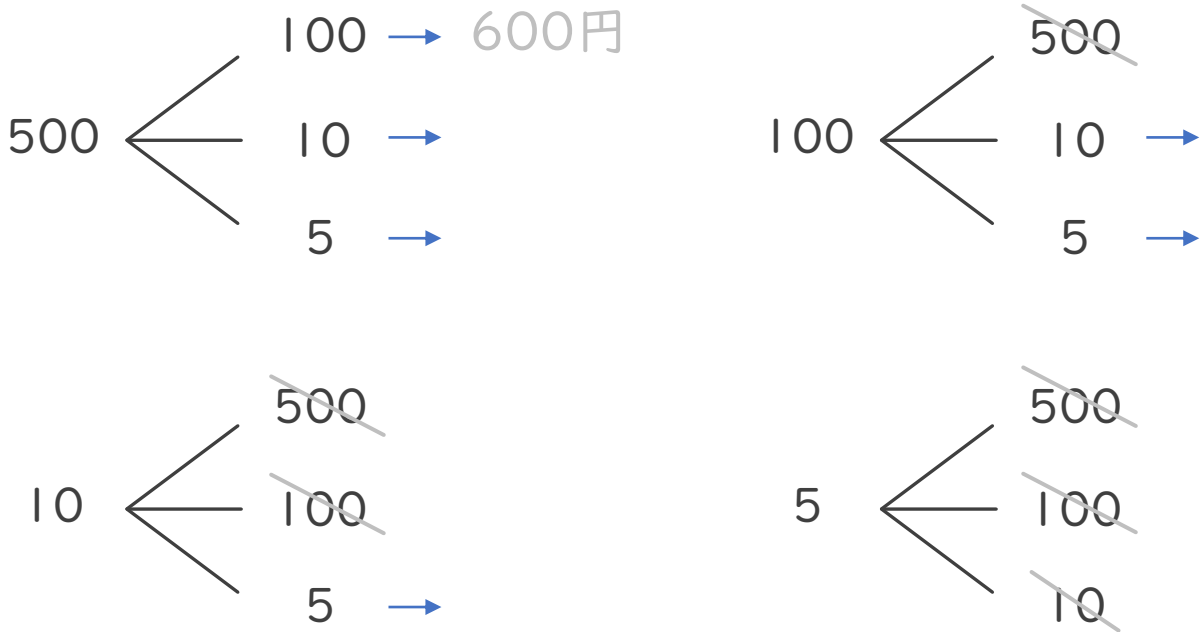
日にち： 月 日

名まえ _____

下の4種類のお金が1枚ずつあります。次の問いに答えましょう。
(うすい字はなぞりましょう。)



① 4枚のうち2枚を組み合わせてできる金額を全部かきましょう。



答え

② ①の金額のうち、500円以上の金額は何通りありますか。

答え ()





並べ方と
組み合わせ方 7

● お金を組み合わせて
できる金額



日にち： 月 日

名まえ _____

下の4種類のお金が1枚ずつあります。次の問いに答えましょう。
(うすい字はなぞりましょう。)



500円



100円

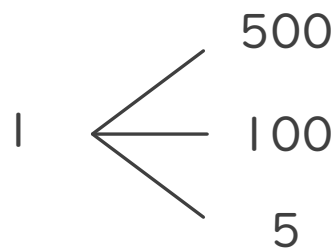
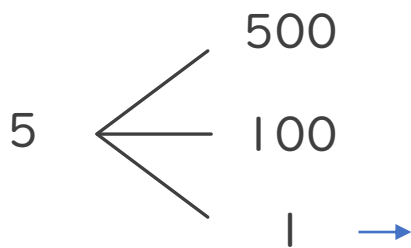
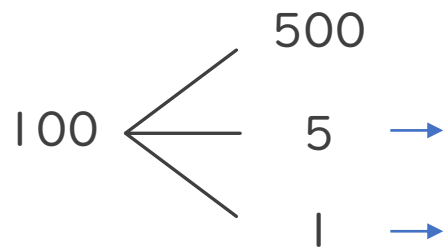
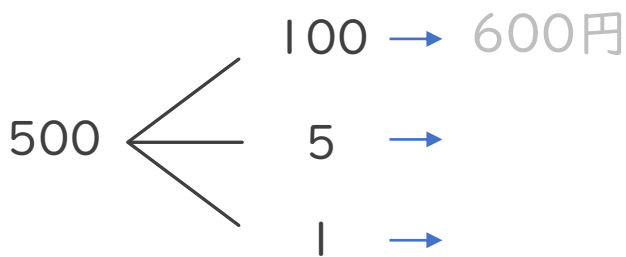


5円



1円

① 4枚のうち2枚を組み合わせてできる金額を全部かきましょう。



答え

② ①の金額のうち、500円以上の金額は何通りありますか。

答え ()



並べ方と 組み合わせ方 7

● お金を組み合わせる
できる金額



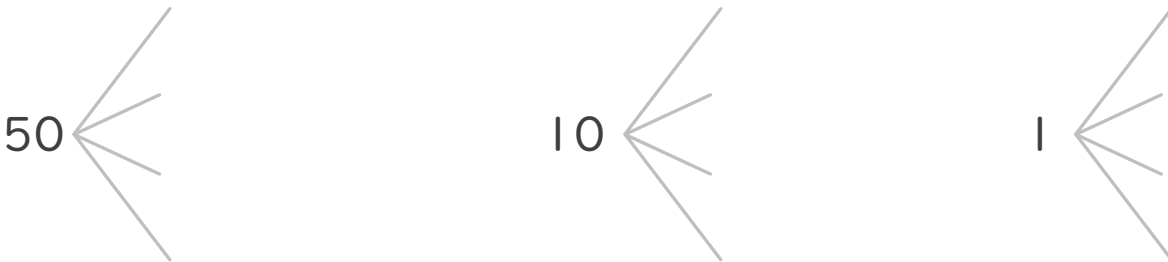
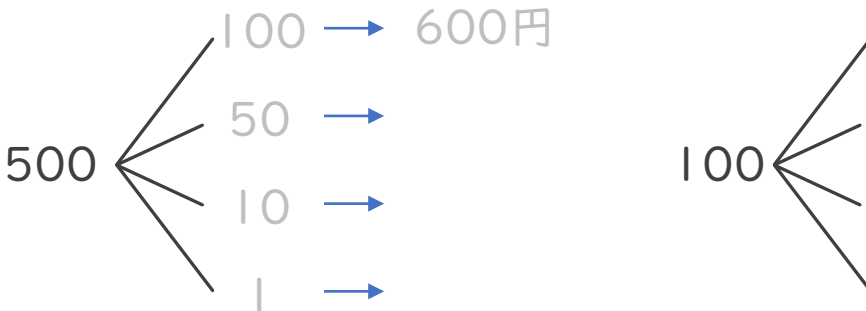
日にち： 月 日

名まえ _____

下の5種類のお金が1枚ずつあります。次の問いに答えましょう。



① 5枚のうち2枚を組み合わせることができる金額を全部かきましょう。



答え

② ①の金額のうち、100円以上の金額は何通りありますか。

答え ()





並べ方と 組み合わせ方 7

◎ お金を組み合わせて
できる金額



日にち： 月 日

名まえ _____

下の5種類のお金が1枚ずつあります。次の問いに答えましょう。



500円



100円



50円



5円



1円

① 5枚のうち2枚を組み合わせてできる金額を全部かきましょう。

答え

② ①の金額のうち、501円以上の金額は何通りありますか。

答え ()





並べ方と
組み合わせ方 7

● お金を組み合わせて
できる金額



日にち： 月 日

名まえ _____

下の5種類のお金が1枚ずつあります。次の問いに答えましょう。



500円



100円



50円



10円



5円

- ① 5枚のうち2枚を組み合わせてできる金額を全部かきましょう。

答え

- ② ①の金額のうち、150円以下の金額は何通りありますか。

答え ()



並べ方と
組み合わせ方 7

○ お金を組み合わせて
できる金額



日にち： 月 日

名まえ _____

下の5種類のお金が1枚ずつあります。次の問いに答えましょう。



500円



100円



10円



5円



1円

- ① 5枚のうち2枚を組み合わせてできる金額を全部かきましよう。

答え

- ② ①の金額のうち、105円以下の金額は何通りありますか。

答え ()



並べ方と
組み合わせ方 7

● お金を組み合わせて
できる金額



日にち： 月 日

名まえ _____

下の5種類のお金が1枚ずつあります。次の問いに答えましょう。



100円



50円



10円



5円



1円

① 5枚のうち2枚を組み合わせてできる金額を全部かきましょう。

答え

② ①の金額のうち、105円以下の金額は何通りありますか。

答え ()





並べ方と 組み合わせ方 7

● お金を組み合わせて
できる金額



日にち： 月 日

名まえ _____

下の4種類のお金が1枚ずつあります。次の問いに答えましょう。

(うすい字はなぞりましょう。)



500円



100円

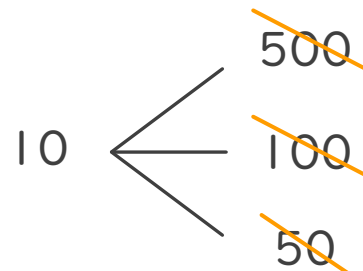
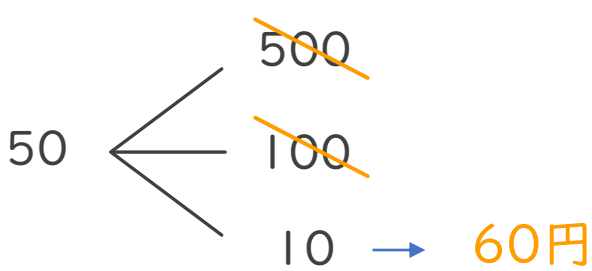
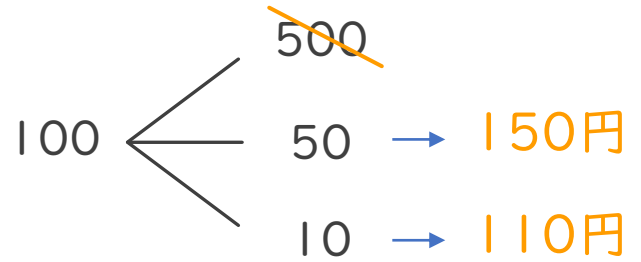
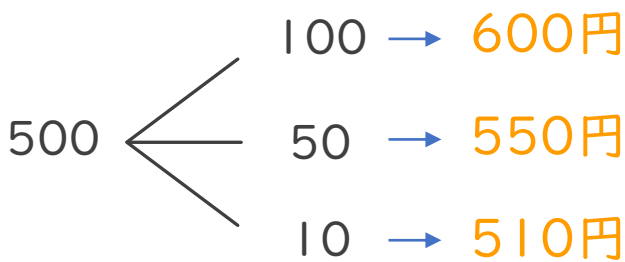


50円



10円

① 4枚のうち2枚を組み合わせてできる金額を全部かきましょう。



答え

600円、550円、510円、150円、110円、60円

② ①の金額のうち、90円以上の金額は何通りありますか。

答え (5通り)





並べ方と 組み合わせ方 7

● お金を組み合わせて
できる金額



日にち： 月 日

名まえ _____

下の4種類のお金が1枚ずつあります。次の問いに答えましょう。

(うすい字はなぞりましょう。)



500円



100円

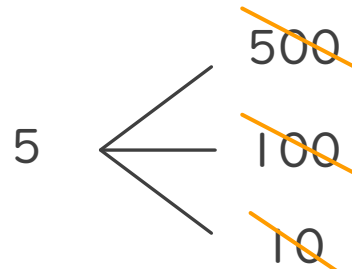
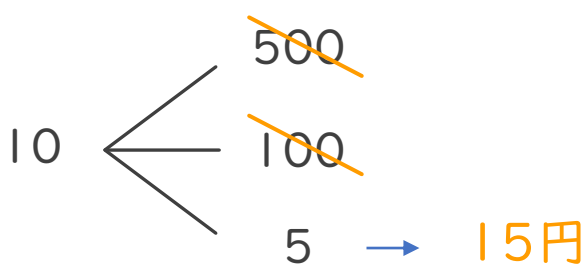
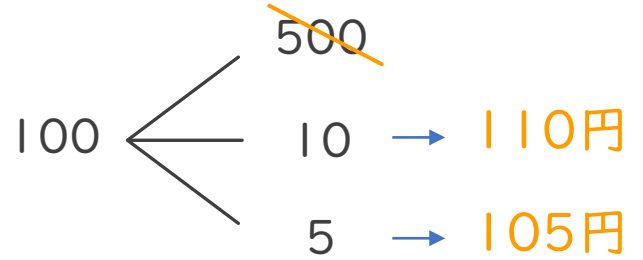
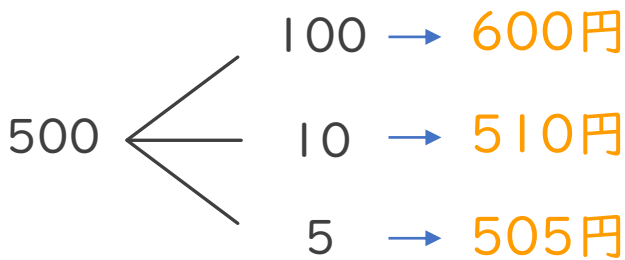


10円



5円

① 4枚のうち2枚を組み合わせてできる金額を全部かきましょう。



答え

600円、510円、505円、110円、105円、15円

② ①の金額のうち、500円以上の金額は何通りありますか。

答え (3通り)





並べ方と 組み合わせ方 7

● お金を組み合わせて
できる金額



日にち： 月 日

名まえ _____

下の4種類のお金が1枚ずつあります。次の問いに答えましょう。

(うすい字はなぞりましょう。)



500円



100円

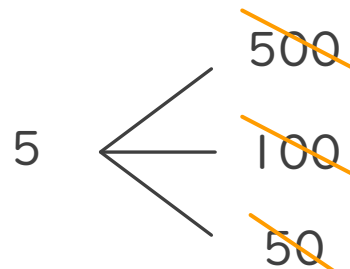
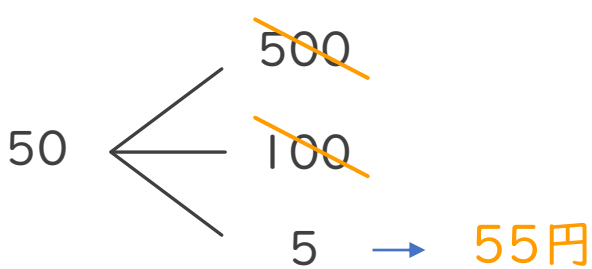
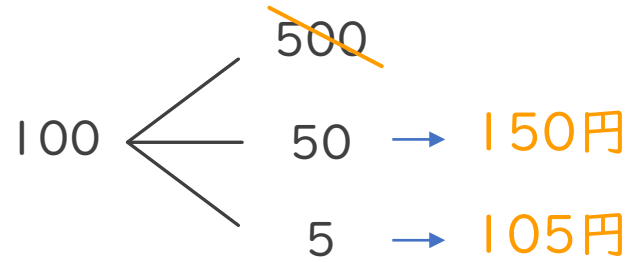
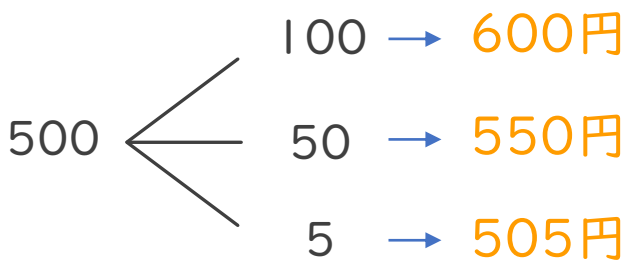


50円



5円

① 4枚のうち2枚を組み合わせてできる金額を全部かきましょう。



答え

600円、550円、505円、150円、105円、55円

② ①の金額のうち、105円以上の金額は何通りありますか。

答え (5通り)

③ 確認 答え



すらすらぷりんと



並べ方と 組み合わせ方 7

● お金を組み合わせて
できる金額

4

日にち： 月 日

名まえ _____

下の4種類のお金が1枚ずつあります。次の問いに答えましょう。

(うすい字はなぞりましょう。)



500円



100円

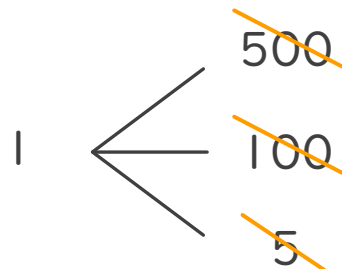
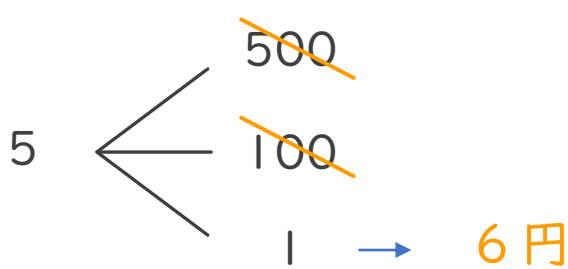
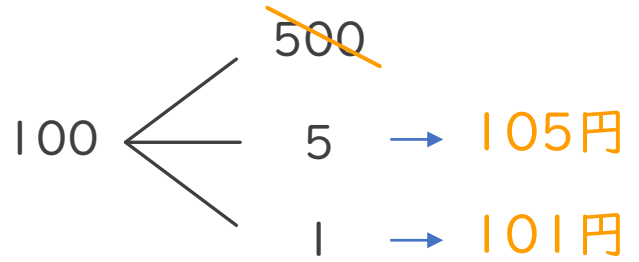
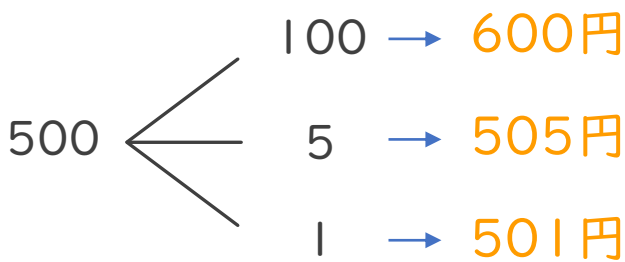


5円



1円

① 4枚のうち2枚を組み合わせてできる金額を全部かきましょう。



答え

600円、505円、501円、105円、101円、6円

② ①の金額のうち、500円以上の金額は何通りありますか。

答え (3通り)





並べ方と 組み合わせ方 7

● お金を組み合わせて
できる金額

5

日にち： 月 日

名まえ _____

下の5種類のお金が1枚ずつあります。次の問いに答えましょう。



500円



100円



50円

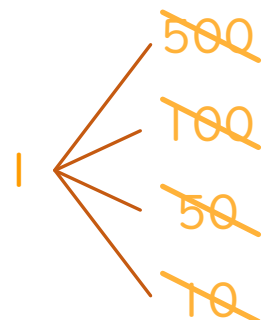
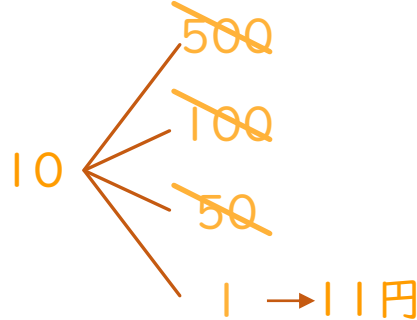
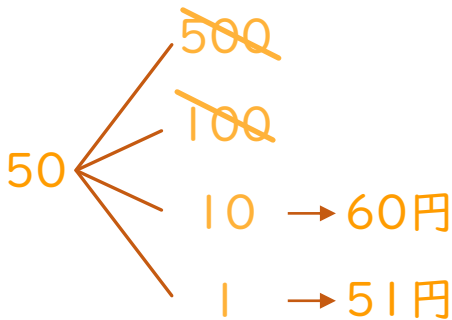
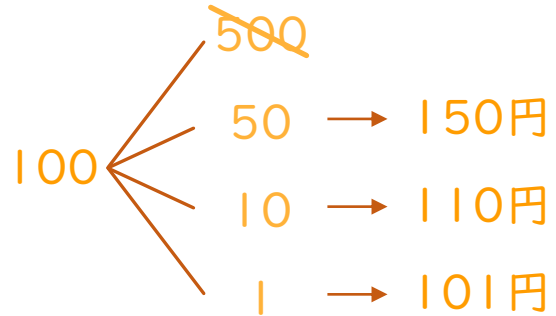
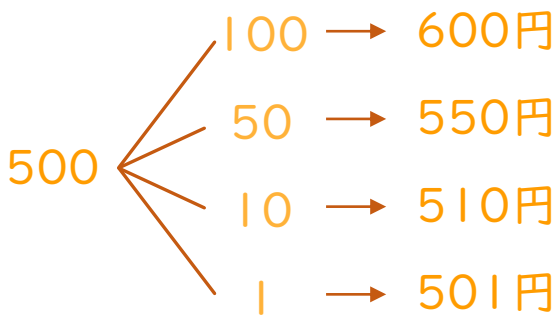


10円



1円

① 5枚のうち2枚を組み合わせてできる金額を全部かきましょう。



答え

600円、550円、510円、501円、150円、110円、
101円、60円、51円、11円

② ①の金額のうち、100円以上の金額は何通りありますか。

答え (7通り)





並べ方と 組み合わせ方 7

● お金を組み合わせて
できる金額



日にち： 月 日

名まえ _____

下の5種類のお金が1枚ずつあります。次の問いに答えましょう。



500円



100円



50円

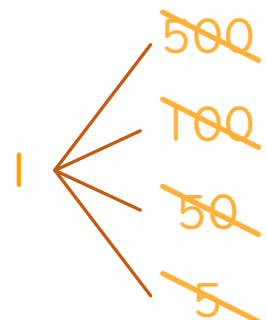
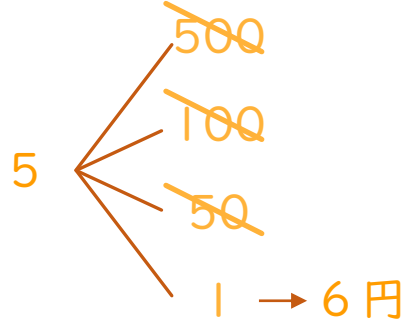
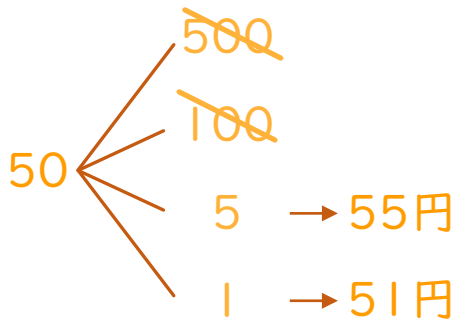
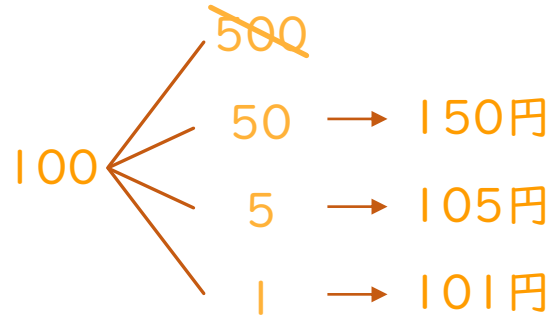
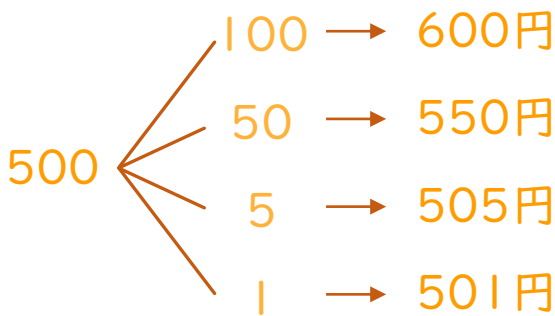


5円



1円

① 5枚のうち2枚を組み合わせてできる金額を全部かきましょう。



答え

600円、550円、505円、501円、150円、105円、
101円、55円、51円、6円

② ①の金額のうち、501円以上の金額は何通りありますか。

答え (4通り)





並べ方と 組み合わせ方 7

● お金を組み合わせて
できる金額



日にち： 月 日

名まえ _____

下の5種類のお金が1枚ずつあります。次の問いに答えましょう。



500円



100円



50円

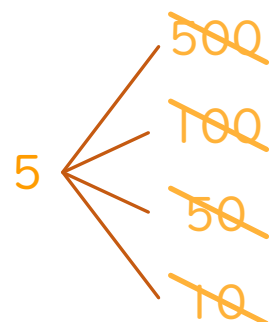
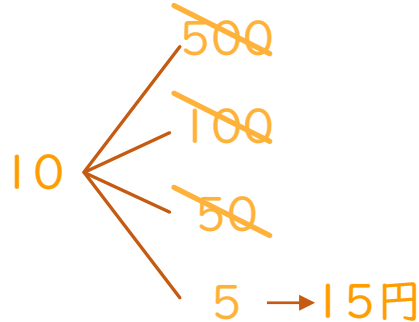
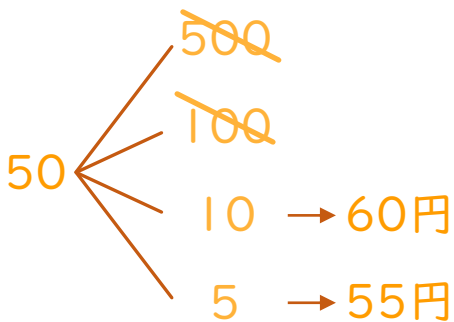
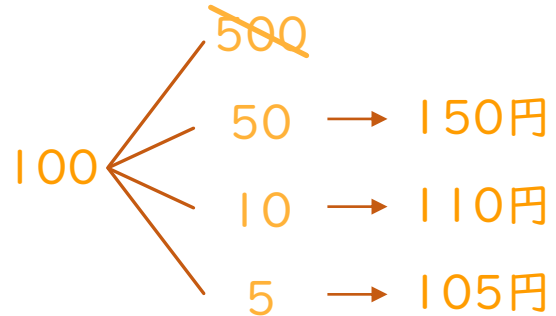
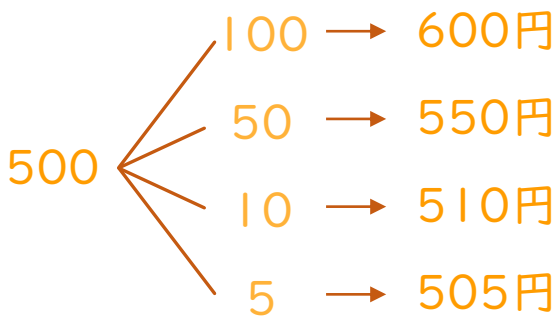


10円



5円

① 5枚のうち2枚を組み合わせてできる金額を全部かきましょう。



答え

600円、550円、510円、505円、150円、110円、
105円、60円、55円、15円

② ①の金額のうち、150円以下の金額は何通りありますか。

答え (6通り)





並べ方と 組み合わせ方 7

● お金を組み合わせて
できる金額



日にち： 月 日

名まえ _____

下の5種類のお金が1枚ずつあります。次の問いに答えましょう。



500円



100円



10円

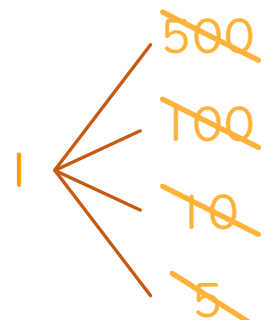
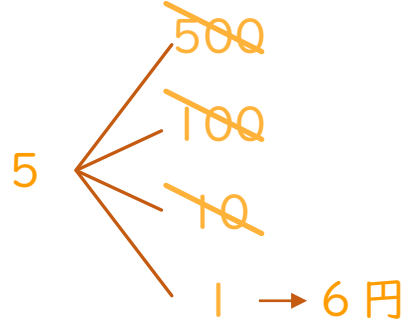
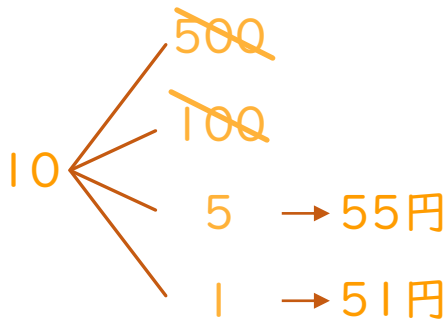
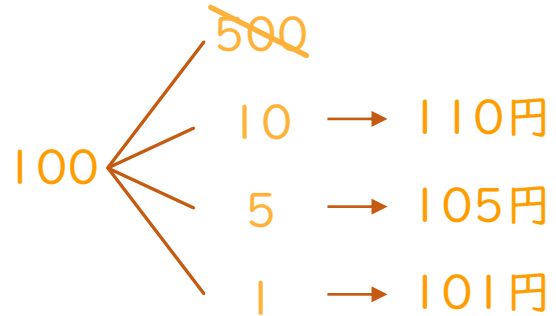
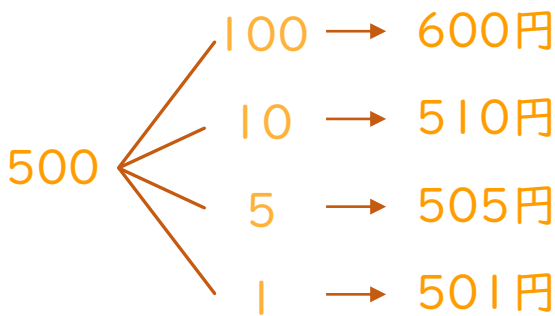


5円



1円

① 5枚のうち2枚を組み合わせてできる金額を全部かきましょう。



答え

600円、510円、505円、501円、110円、105円、
101円、55円、51円、6円

② ①の金額のうち、105円以下の金額は何通りありますか。

答え (5通り)





並べ方と 組み合わせ方 7

● お金を組み合わせて
できる金額



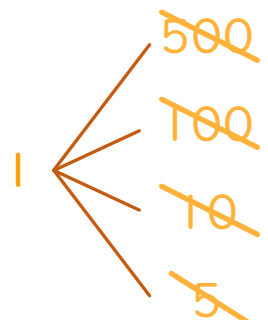
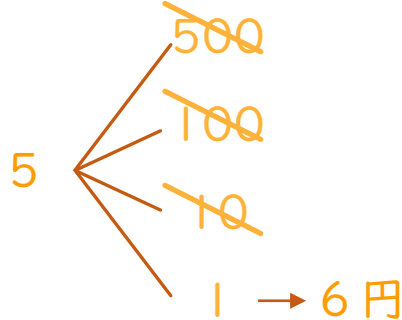
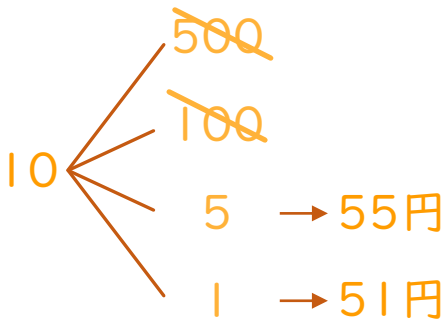
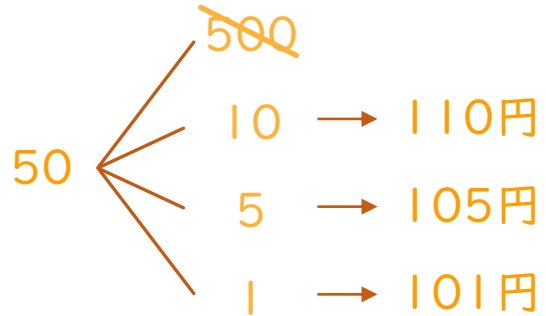
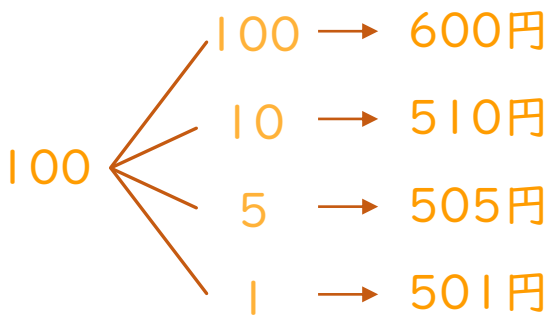
日にち： 月 日

名まえ _____

下の5種類のお金が1枚ずつあります。次の問いに答えましょう。



① 5枚のうち2枚を組み合わせてできる金額を全部かきましょう。



答え

600円、510円、505円、501円、110円、105円、
101円、55円、51円、6円

② ①の金額のうち、105円以下の金額は何通りありますか。

答え (5通り)

