





# 並べ方と 組み合わせ方 ⑦

● お金を組み合わせる  
ことができる金額



日にち：       月       日

名まえ \_\_\_\_\_

- ・下の4種類のお金が1枚ずつあります。次の問いに答えましょう。  
(うすい字はなぞりましょう。)



500円



100円

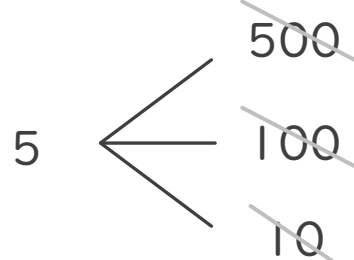
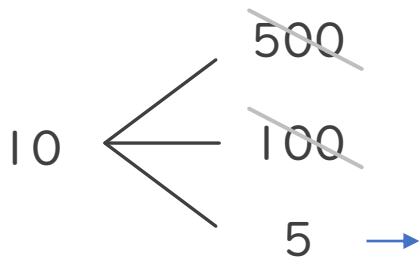
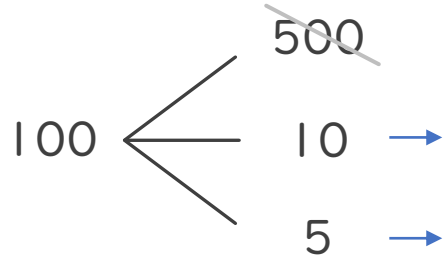
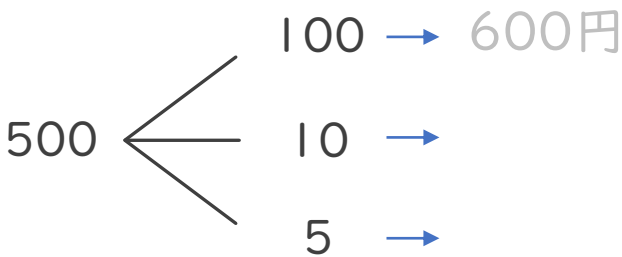


10円



5円

- ① 4枚のうち2枚を組み合わせることでできる金額を全部かきましょう。



答え

- ② ①の金額のうち、500円以上の金額は何通りありますか。

答え (                                    )



並べ方と  
組み合わせ方 7

● お金を組み合わせて  
できる金額



日にち：          月          日

名まえ \_\_\_\_\_

- ・ 下の4種類のお金が1枚ずつあります。次の問いに答えましょう。  
（うすい字はなぞりましょう。）



500円



100円

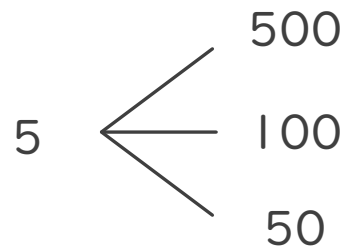
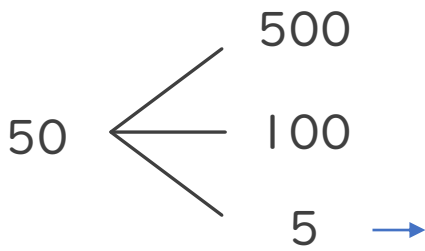
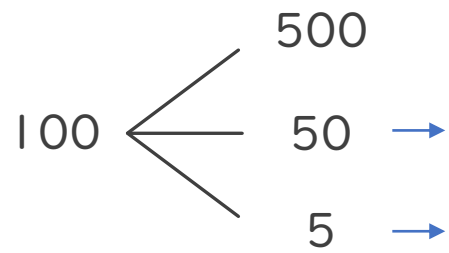
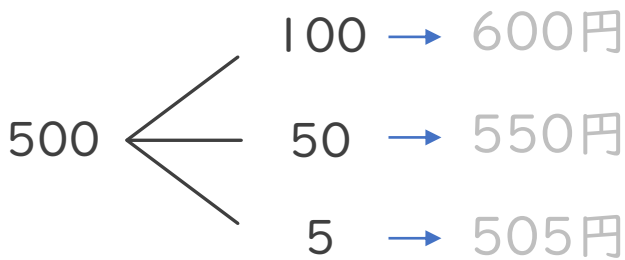


50円



5円

- ① 4枚のうち2枚を組み合わせてできる金額を全部かきましょう。



答え

- ② ①の金額のうち、105円以上の金額は何通りありますか。

答え (                      )





並べ方と  
組み合わせ方 7

● お金を組み合わせて  
できる金額



日にち： 月 日

名まえ \_\_\_\_\_

- ・下の4種類のお金が1枚ずつあります。次の問いに答えましょう。  
(うすい字はなぞりましょう。)



500円



100円

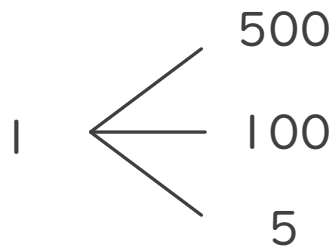
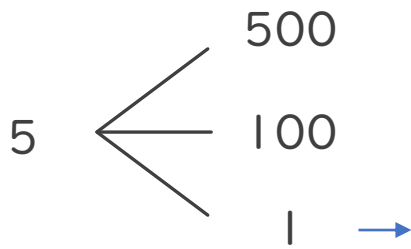
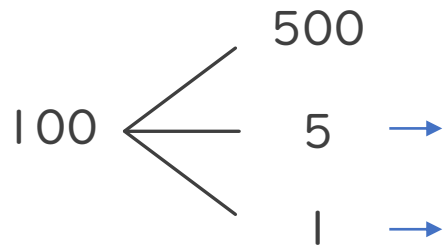
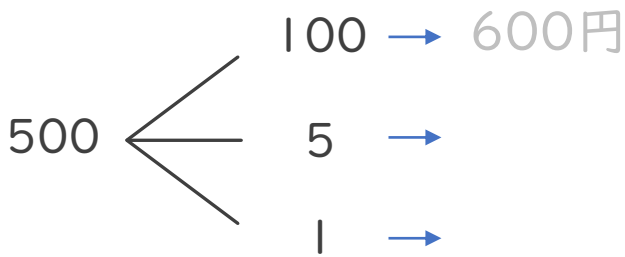


5円



1円

- ① 4枚のうち2枚を組み合わせてできる金額を全部かきましょう。



答え

- ② ①の金額のうち、500円以上の金額は何通りありますか。

答え ( )





# 並べ方と 組み合わせ方 7

● お金を組み合わせて  
できる金額



日にち： 月 日

名まえ \_\_\_\_\_

- ・ 下の5種類のお金が1枚ずつあります。次の問いに答えましょう。  
(うすい字はなぞりましょう。)



500円



100円



50円

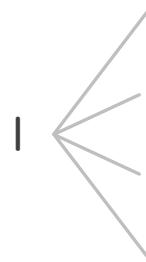
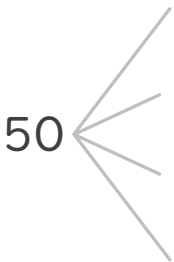
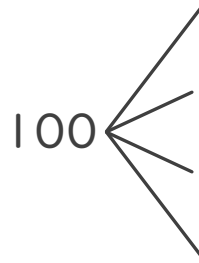
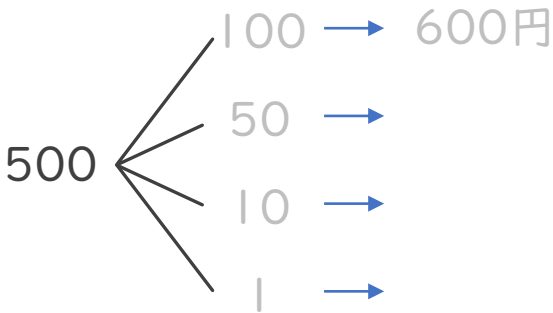


10円



1円

- ① 5枚のうち2枚を組み合わせてできる金額を全部かきましょう。



答え

- ② ①の金額のうち、100円以上の金額は何通りありますか。

答え ( )



並べ方と  
組み合わせ方 7

◎ お金を組み合わせて  
できる金額



日にち： 月 日

名まえ \_\_\_\_\_

・下の5種類のお金が1枚ずつあります。次の問いに答えましょう。



500円



100円



50円



5円



1円

① 5枚のうち2枚を組み合わせてできる金額を全部かきましょう。

答え

② ①の金額のうち、501円以上の金額は何通りありますか。

答え ( )





並べ方と  
組み合わせ方 7

● お金を組み合わせて  
できる金額



日にち： 月 日

名まえ \_\_\_\_\_

・下の5種類のお金が1枚ずつあります。次の問いに答えましょう。



500円



100円



50円



10円



5円

① 5枚のうち2枚を組み合わせてできる金額を全部かきましょう。

答え

② ①の金額のうち、150円以下の金額は何通りありますか。

答え ( )





## 並べ方と 組み合わせ方 7

● お金を組み合わせて  
できる金額



日にち： 月 日

名まえ \_\_\_\_\_

・ 下の5種類のお金が1枚ずつあります。次の問いに答えましょう。



500円



100円



10円



5円



1円

① 5枚のうち2枚を組み合わせてできる金額を全部かきましょう。

答え

② ①の金額のうち、105円以下の金額は何通りありますか。

答え (                      )









# 並べ方と 組み合わせ方 7

● お金を組み合わせて  
できる金額



日にち：            月            日

名まえ \_\_\_\_\_

- ・下の4種類のお金が1枚ずつあります。次の問いに答えましょう。  
(うすい字はなぞりましょう。)



500円



100円

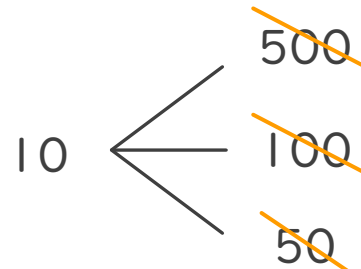
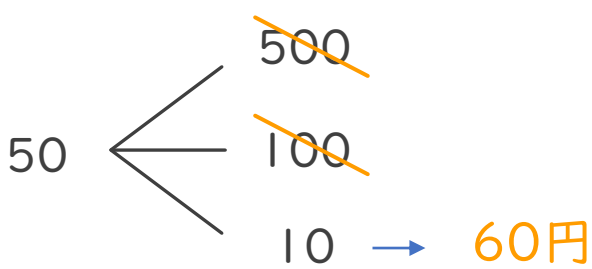
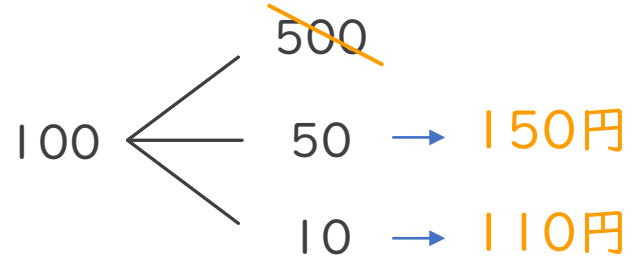
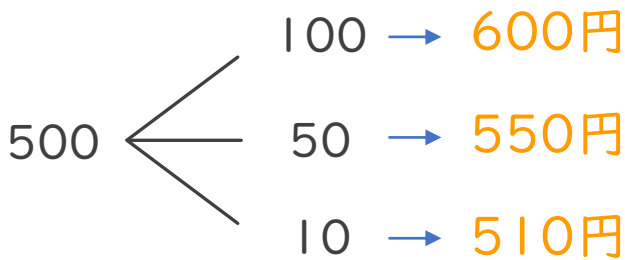


50円



10円

- ① 4枚のうち2枚を組み合わせてできる金額を全部かきましょう。



答え

600円、550円、510円、150円、110円、60円

- ② ①の金額のうち、90円以上の金額は何通りありますか。

答え (    5通り    )





並べ方と  
組み合わせ方 7

● お金を組み合わせて  
できる金額



日にち：            月            日

名まえ \_\_\_\_\_

- ・下の4種類のお金が1枚ずつあります。次の問いに答えましょう。  
(うすい字はなぞりましょう。)



500円



100円

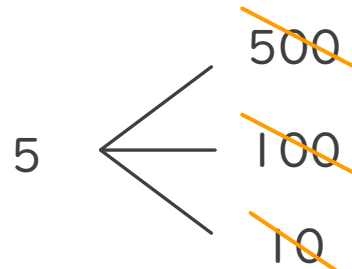
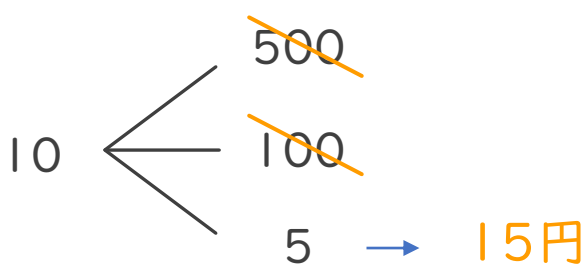
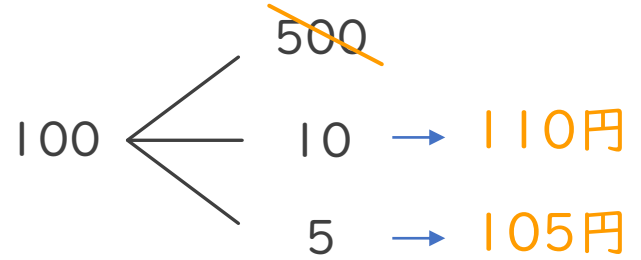
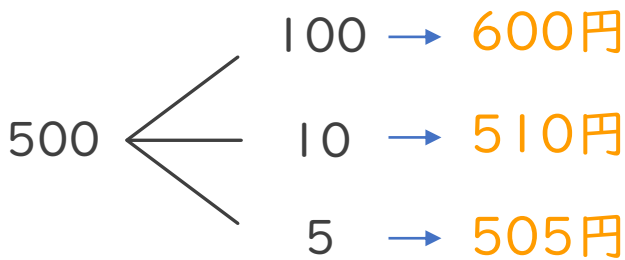


10円



5円

- ① 4枚のうち2枚を組み合わせてできる金額を全部かきましょう。



答え

600円、510円、505円、110円、105円、15円

- ② ①の金額のうち、500円以上の金額は何通りありますか。

答え (    3通り    )





# 並べ方と 組み合わせ方 7

● お金を組み合わせて  
できる金額



日にち：            月            日

名まえ \_\_\_\_\_

- ・下の4種類のお金が1枚ずつあります。次の問いに答えましょう。  
(うすい字はなぞりましょう。)



500円



100円

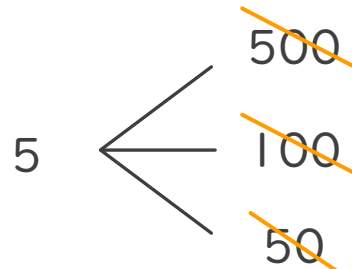
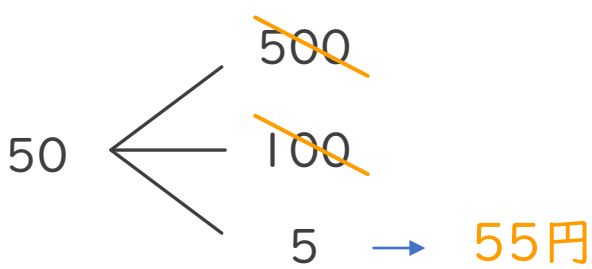
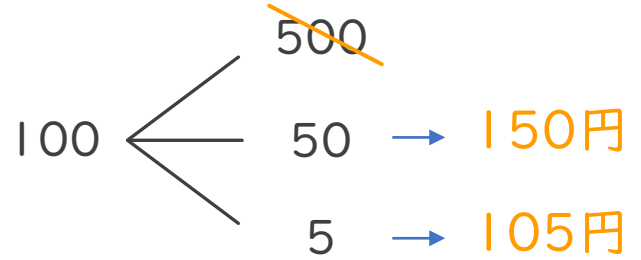
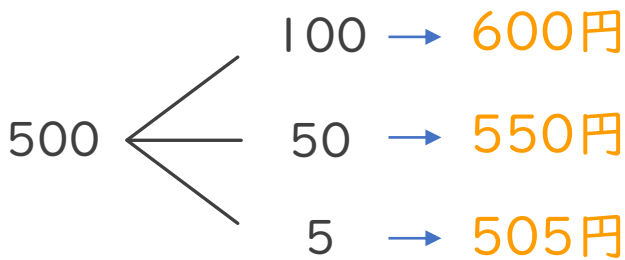


50円



5円

- ① 4枚のうち2枚を組み合わせてできる金額を全部かきましょう。



答え

600円、550円、505円、150円、105円、55円

- ② ①の金額のうち、105円以上の金額は何通りありますか。

答え (    5通り    )





# 並べ方と 組み合わせ方 7

● お金を組み合わせて  
できる金額

# 4

日にち：        月        日

名まえ \_\_\_\_\_

・ 下の4種類のお金が1枚ずつあります。次の問いに答えましょう。  
(うすい字はなぞりましょう。)



500円



100円

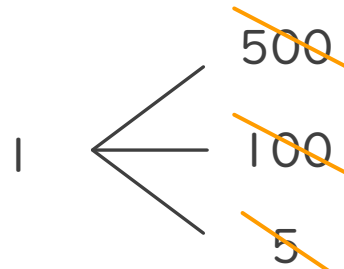
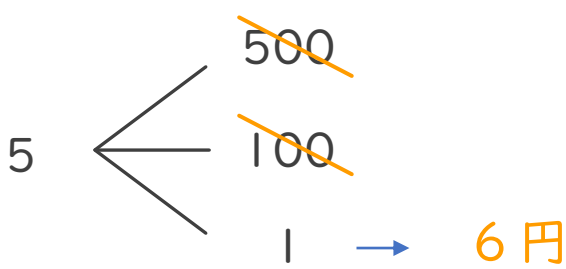
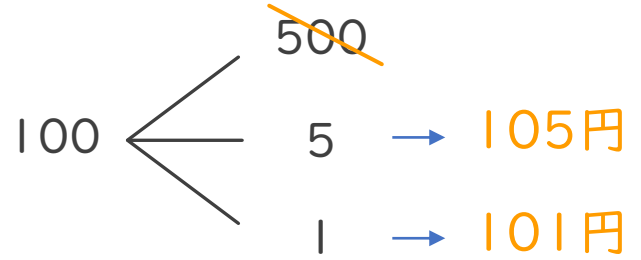
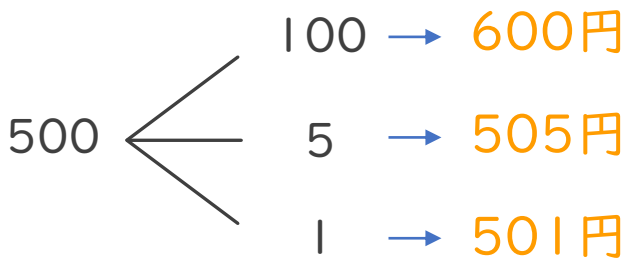


5円



1円

① 4枚のうち2枚を組み合わせてできる金額を全部かきましょう。



答え

600円、505円、501円、105円、101円、6円

② ①の金額のうち、500円以上の金額は何通りありますか。

答え (        3通り        )





# 並べ方と 組み合わせ方 7

● お金を組み合わせて  
できる金額



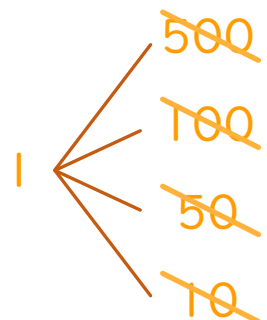
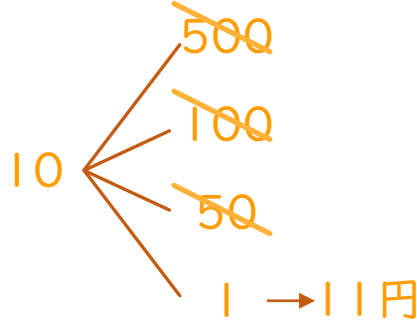
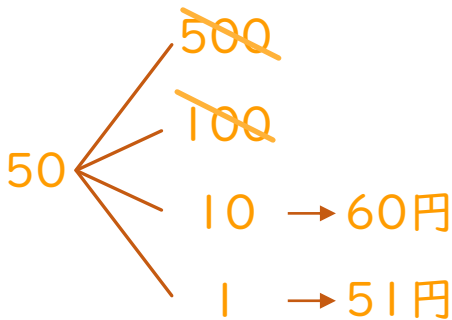
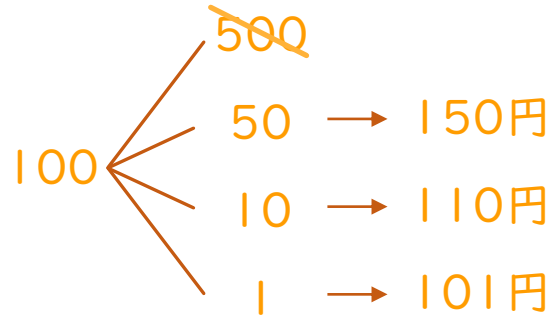
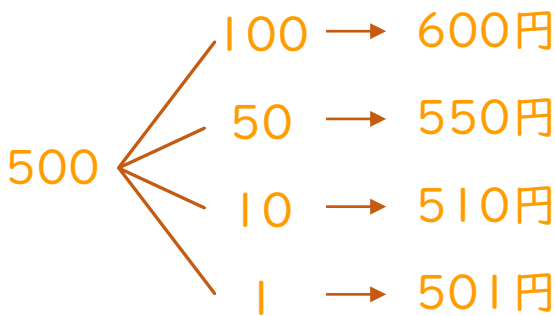
日にち：            月            日

名まえ \_\_\_\_\_

・ 下の5種類のお金が1枚ずつあります。次の問いに答えましょう。  
(うすい字はなぞりましょう。)



① 5枚のうち2枚を組み合わせてできる金額を全部かきましょう。



答え

600円、550円、510円、501円、150円、110円、  
101円、60円、51円、11円

② ①の金額のうち、100円以上の金額は何通りありますか。

答え (        7通り        )





# 並べ方と 組み合わせ方 7

● お金を組み合わせて  
できる金額

# 6

日にち：            月            日

名まえ \_\_\_\_\_

・ 下の5種類のお金が1枚ずつあります。次の問いに答えましょう。



500円



100円



50円

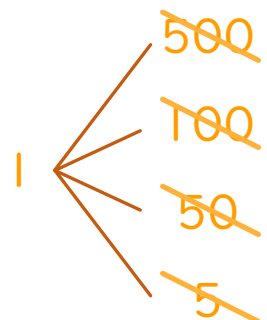
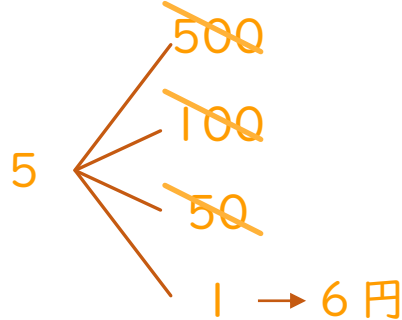
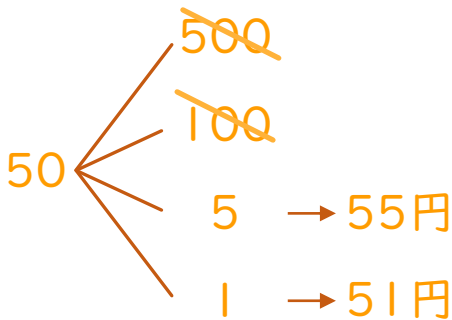
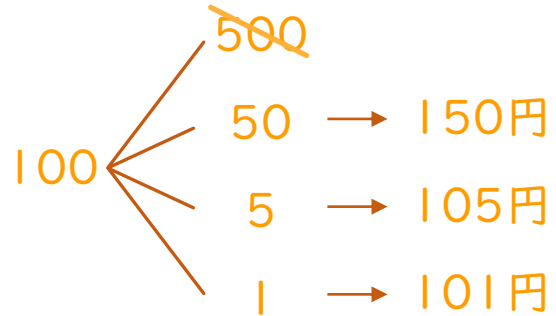
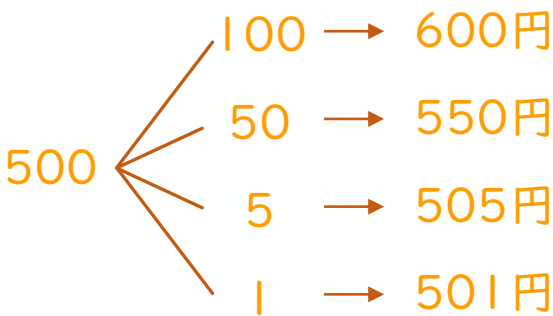


5円



1円

① 5枚のうち2枚を組み合わせてできる金額を全部かきましょう。



答え

600円、550円、505円、501円、150円、105円、  
101円、55円、51円、6円

② ①の金額のうち、501円以上の金額は何通りありますか。

答え (        4通り        )





# 並べ方と 組み合わせ方 7

● お金を組み合わせて  
できる金額



日にち：            月            日

名まえ \_\_\_\_\_

・ 下の5種類のお金が1枚ずつあります。次の問いに答えましょう。



500円



100円



50円

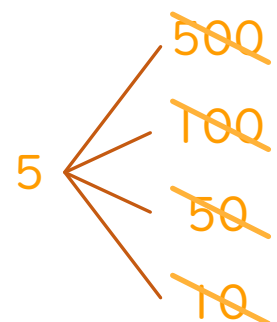
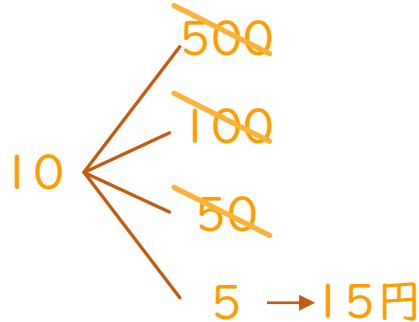
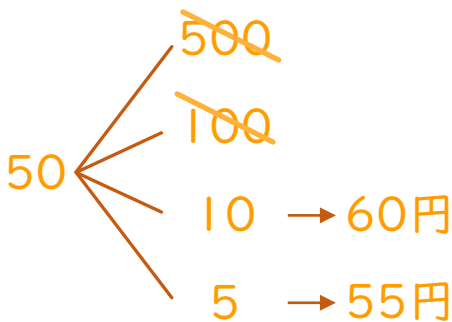
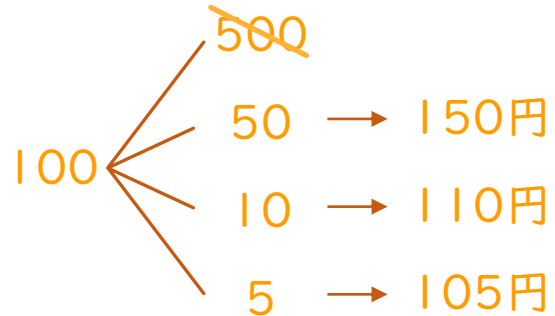
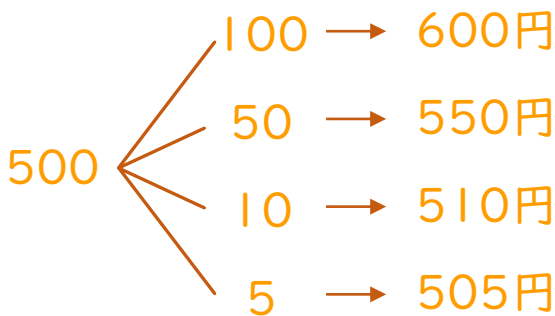


10円



5円

① 5枚のうち2枚を組み合わせてできる金額を全部かきましょう。



答え

600円、550円、510円、505円、150円、110円、  
105円、60円、55円、15円

② ①の金額のうち、150円以下の金額は何通りありますか。

答え (        6通り        )







# 並べ方と 組み合わせ方 7

● お金を組み合わせて  
できる金額



日にち：            月            日

名まえ \_\_\_\_\_

・ 下の5種類のお金が1枚ずつあります。次の問いに答えましょう。



500円



100円



10円

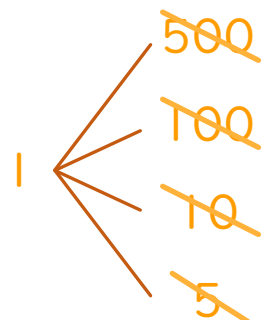
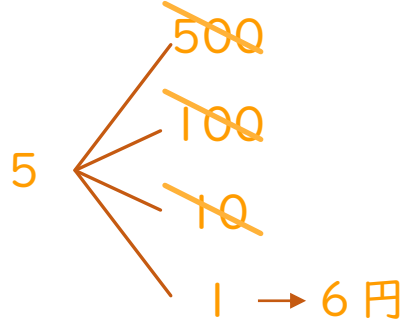
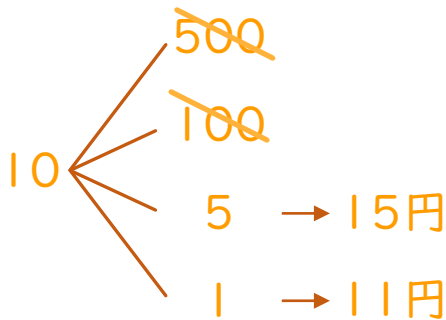
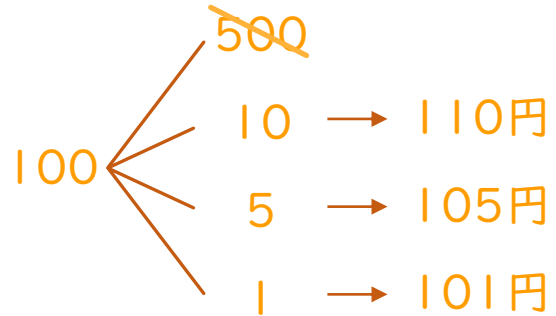
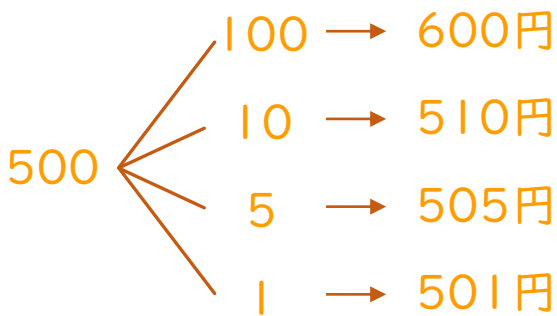


5円



1円

① 5枚のうち2枚を組み合わせてできる金額を全部かきましょう。



答え

600円、510円、505円、501円、110円、105円、  
101円、15円、11円、6円

② ①の金額のうち、105円以下の金額は何通りありますか。

答え (        5通り        )





# 並べ方と 組み合わせ方 7

● お金を組み合わせて  
できる金額



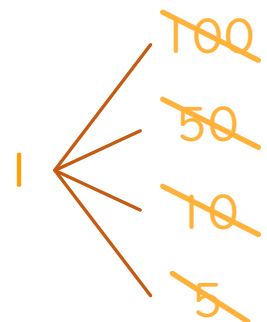
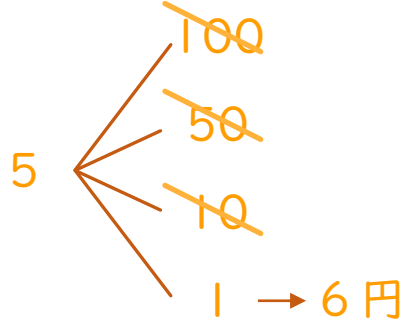
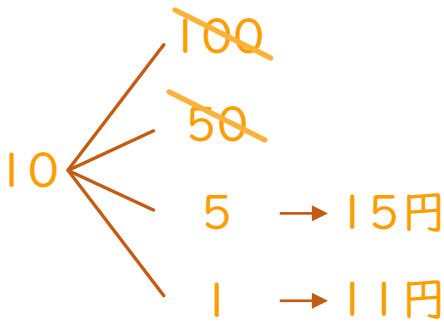
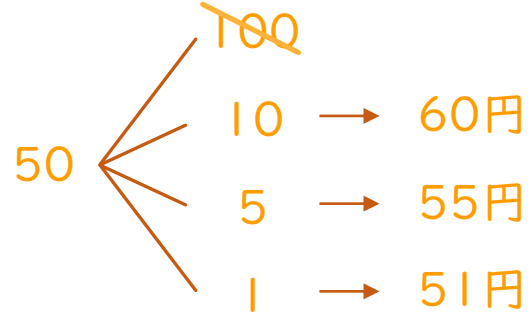
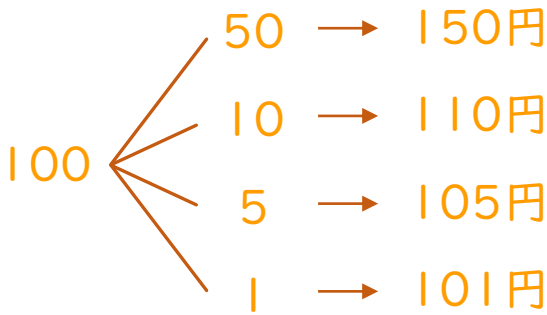
日にち：            月            日

名まえ \_\_\_\_\_

・ 下の5種類のお金が1枚ずつあります。次の問いに答えましょう。



① 5枚のうち2枚を組み合わせてできる金額を全部かきましょう。



答え

150円、110円、105円、101円、60円、55円、  
51円、15円、11円、6円

② ①の金額のうち、105円以下の金額は何通りありますか。

答え (        8通り        )

