



対称な図形2



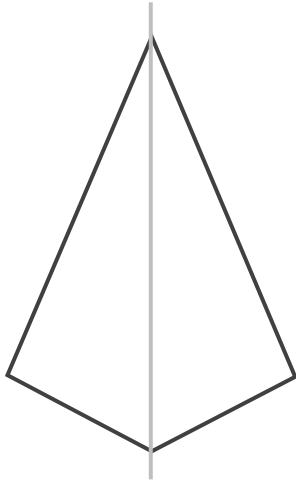
線対称の軸

日にち： 月 日

名まえ _____

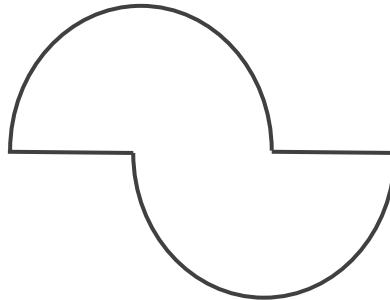
・次の図で、線対称な図には○、線対称な図形ではないものには×と答えなさい。また、○をつけた図形には対称の軸をすべてかき入れなさい。(うすい字はなぞりましょう。)

①



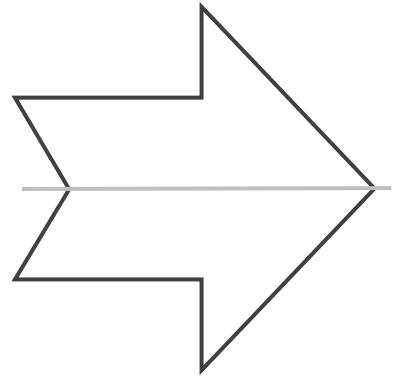
答え： ○

②



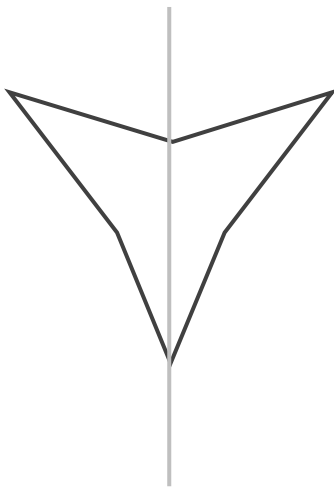
答え： ×

③



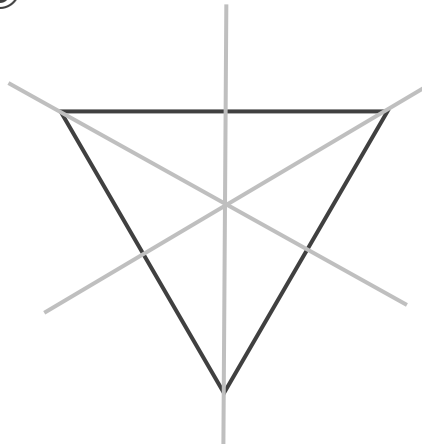
答え： ○

④




答え： _____

⑤



答え： _____

⑥



答え： _____





対称な図形2

2


線対称の軸

日にち： 月 日

名まえ _____

・次の図で、線対称な図には○、線対称な図形ではないものには×と答えなさい。また、○をつけた図形には対称の軸をすべてかき入れなさい。(うすい字はなぞりましょう。)

①



答え：

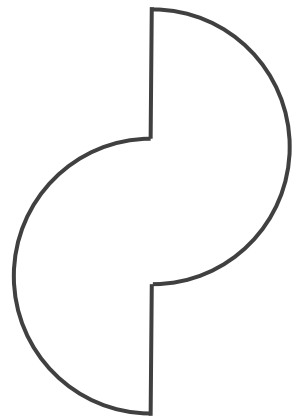


②



答え：

③



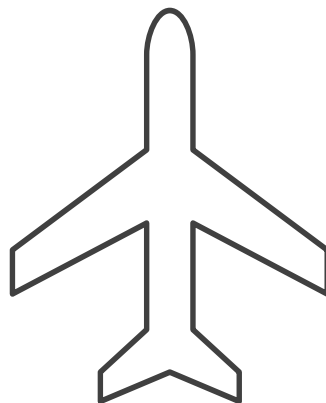
答え：

④



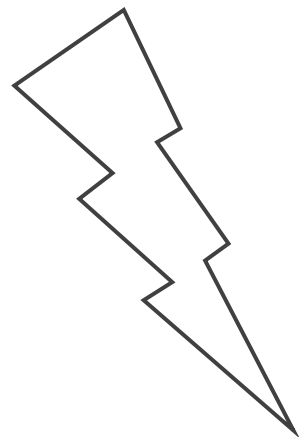
答え：

⑤



答え：

⑥



答え：





対称な図形2



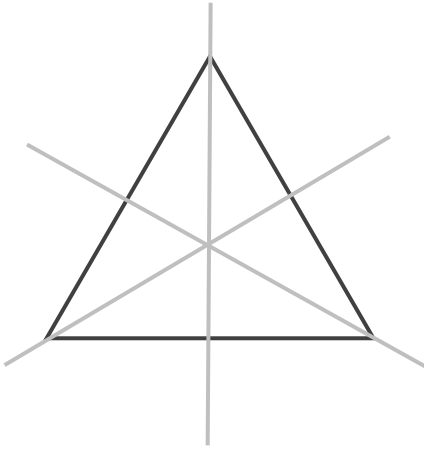
線対称の軸

日にち： 月 日

名まえ _____

・次の図で、線対称な図には○、線対称な図形ではないものには×と答えなさい。また、○をつけた図形には対称の軸をすべてかき入れなさい。(うすい字はなぞりましょう。)

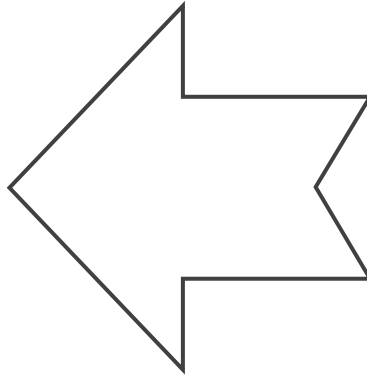
①



答え：



②




答え：

③



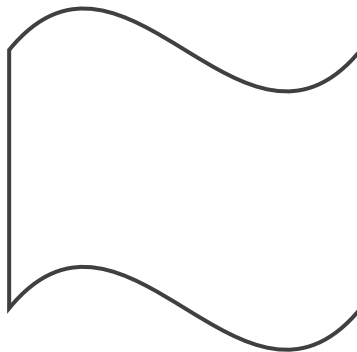
答え：

④



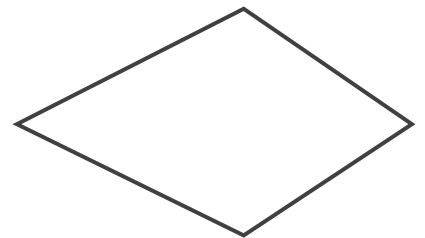
答え：

⑤



答え：

⑥



答え：





対称な図形2

4

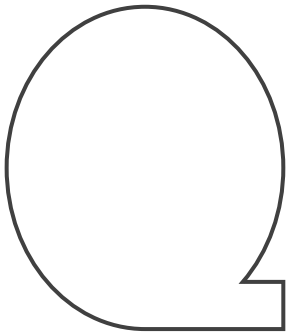
線対称の軸

日にち： 月 日

名まえ _____

・次の図で、線対称な図には○、線対称な図形ではないものには×と答えなさい。また、○をつけた図形には対称の軸をすべてかき入れなさい。

①




答え： _____

②




答え： _____

③




答え： _____

④



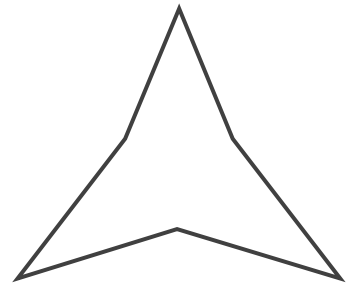
答え： _____

⑤



答え： _____

⑥



答え： _____





対称な図形2

5

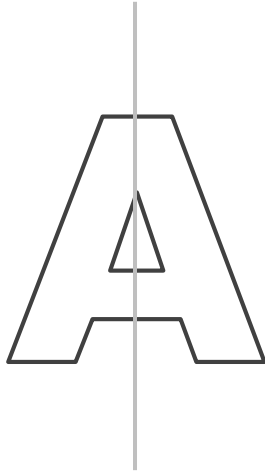
線対称の軸

日にち： 月 日

名まえ _____

・次の図で、線対称な図には○、線対称な図形ではないものには×と答えなさい。また、○をつけた図形には対称の軸をすべてかき入れなさい。(うすい字はなぞりましょう。)


①



答え：



②



答え：

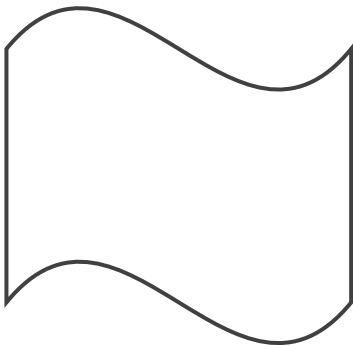


③




答え：

④



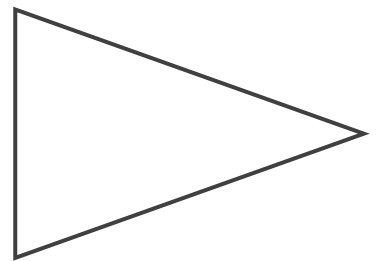
答え：

⑤



答え：

⑥



答え：





対称な図形2



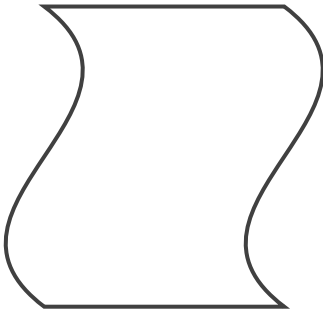
線対称の軸

日にち： 月 日

名まえ _____

・次の図で、線対称な図には○、線対称な図形ではないものには×と答えなさい。また、○をつけた図形には対称の軸をすべてかき入れなさい。

①




答え： _____

②




答え： _____

③



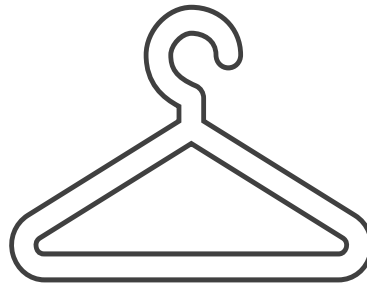
答え： _____

④



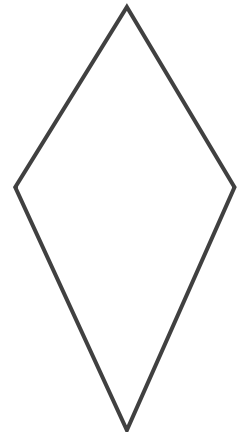
答え： _____

⑤



答え： _____

⑥



答え： _____





対称な図形2




線対称の軸

日にち： 月 日

名まえ _____


・次の図で、線対称な図には○、線対称な図形ではないものには×と答えなさい。また、○をつけた図形には対称の軸をすべてかき入れなさい。

①




答え： _____

②



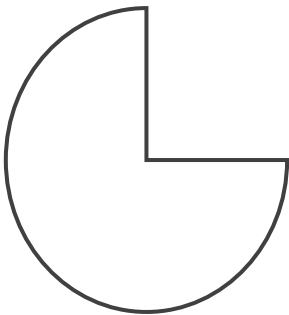
答え： _____

③



答え： _____

④



答え： _____

⑤



答え： _____

⑥



答え： _____





対称な図形2



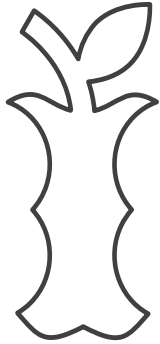
線対称の軸

日にち： 月 日

名まえ _____


・次の図で、線対称な図には○、線対称な図形ではないものには×と答えなさい。また、○をつけた図形には対称の軸をすべてかき入れなさい。

①




答え： _____

②




答え： _____

③



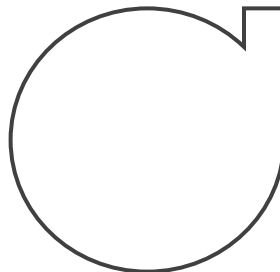
答え： _____

④




答え： _____

⑤



答え： _____

⑥



答え： _____





対称な図形2



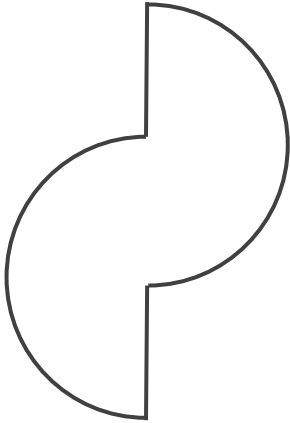
線対称の軸

日にち： 月 日

名まえ _____

・次の図で、線対称な図には○、線対称な図形ではないものには×と答えなさい。また、○をつけた図形には対称の軸をすべてかき入れなさい。

①




答え： _____

②




答え： _____

③



答え： _____

④




答え： _____

⑤



答え： _____

⑥



答え： _____





対称な図形2

10


線対称の軸

日にち： 月 日

名まえ _____

・次の図で、線対称な図には○、線対称な図形ではないものには×と答えなさい。また、○をつけた図形には対称の軸をすべてかき入れなさい。

①




答え： _____

②



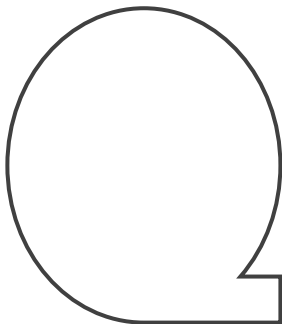
答え： _____

③



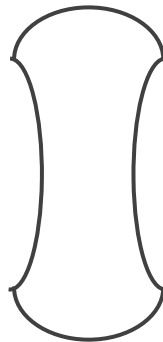
答え： _____

④



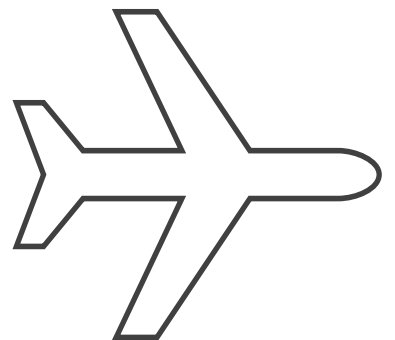
答え： _____

⑤



答え： _____

⑥



答え： _____





対称な図形2

線対称の軸

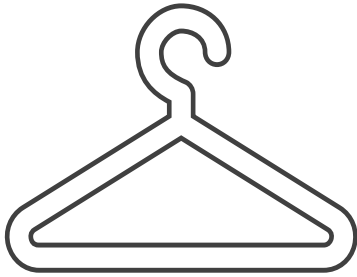


日にち： 月 日

名まえ _____

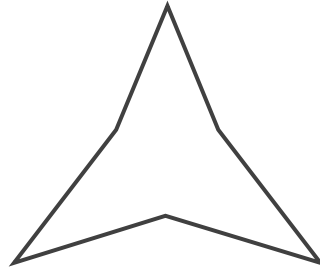
・次の図で、線対称な図には○、線対称な図形ではないものには×と答えなさい。また、○をつけた図形には対称の軸をすべてかき入れなさい。

①




答え： _____

②




答え： _____

③



答え： _____

④



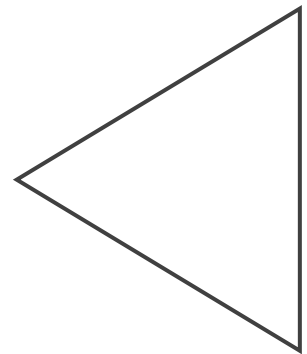
答え： _____

⑤



答え： _____

⑥



答え： _____





対称な図形2

12

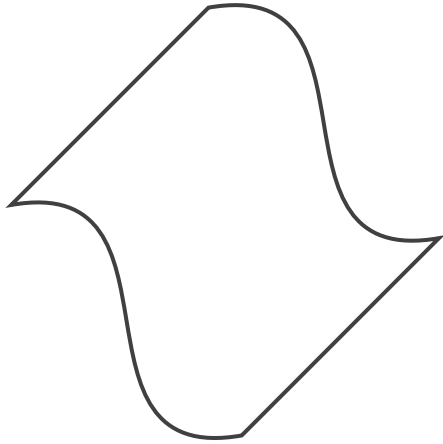
線対称の軸

日にち： 月 日

名まえ _____

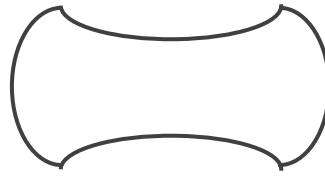
・次の図で、線対称な図には○、線対称な図形ではないものには×と答えなさい。また、○をつけた図形には対称の軸をすべてかき入れなさい。

①



答え： _____

②




答え： _____

③




答え： _____

④



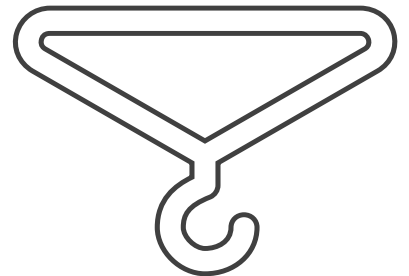
答え： _____

⑤



答え： _____

⑥



答え： _____





対称な図形2

13


線対称の軸

日にち： 月 日

名まえ _____

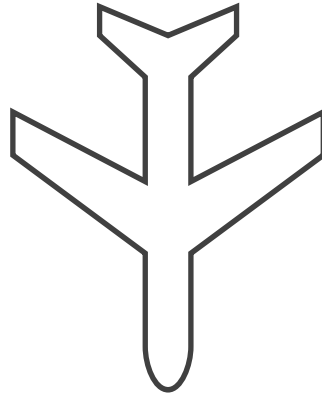
・次の図で、線対称な図には○、線対称な図形ではないものには×と答えなさい。また、○をつけた図形には対称の軸をすべてかき入れなさい。

①




答え： _____

②



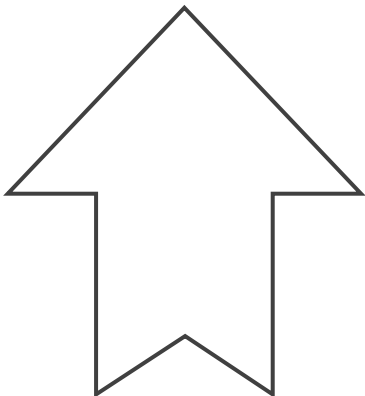
答え： _____

③



答え： _____

④



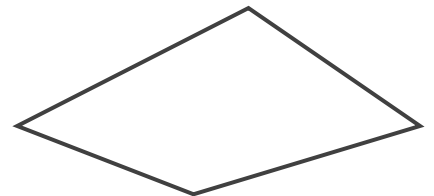
答え： _____

⑤



答え： _____

⑥



答え： _____





対称な図形2

14


線対称の軸

日にち： 月 日

名まえ _____

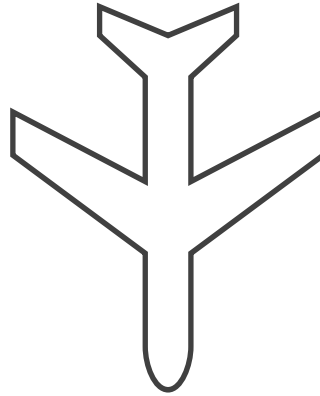
・次の図で、線対称な図には○、線対称な図形ではないものには×と答えなさい。また、○をつけた図形には対称の軸をすべてかき入れなさい。

①




答え： _____

②



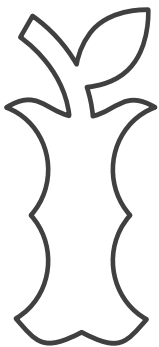
答え： _____

③




答え： _____

④



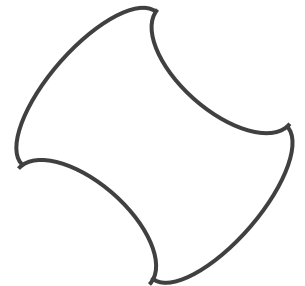
答え： _____

⑤



答え： _____

⑥



答え： _____






対称な図形2

15

目指せ80点!



線対称の軸

名まえ _____

・次の図で、線対称な図には○、線対称な図形ではないものには×と答えなさい。また、○をつけた図形には対称の軸をすべてかき入れなさい。
(各20点)

①




答え： _____

②




答え： _____

③



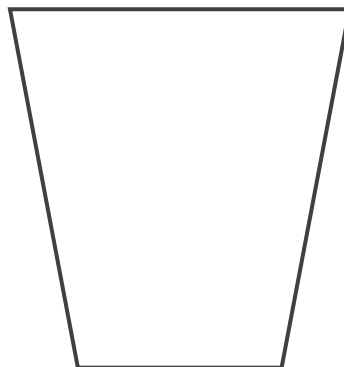
答え： _____

④



答え： _____

⑤



答え： _____






対称な図形2

16

目指せ80点!

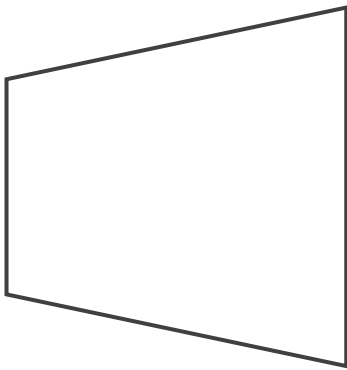


線対称の軸

名まえ _____


・次の図で、線対称な図には○、線対称な図形ではないものには×と答えなさい。また、○をつけた図形には対称の軸をすべてかき入れなさい。
(各20点)

①




答え： _____

②




答え： _____

③



答え： _____

④



答え： _____

⑤



答え： _____





対称な図形2



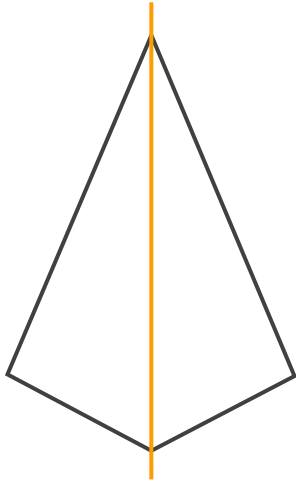
線対称の軸

日にち： 月 日

名まえ _____

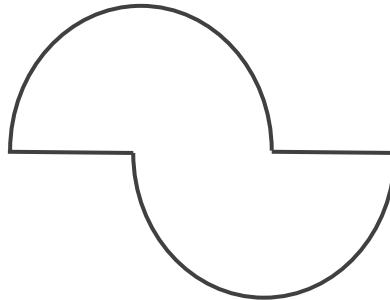
・次の図で、線対称な図には○、線対称な図形ではないものには×と答えなさい。また、○をつけた図形には対称の軸をすべてかき入れなさい。(うすい字はなぞりましょう。)

①



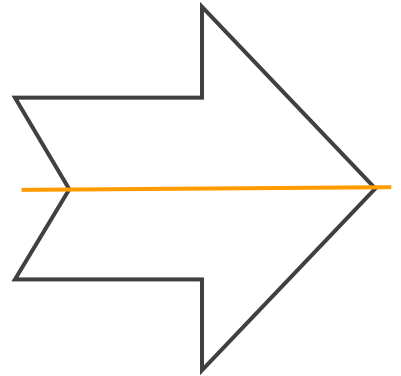
答え： ○

②



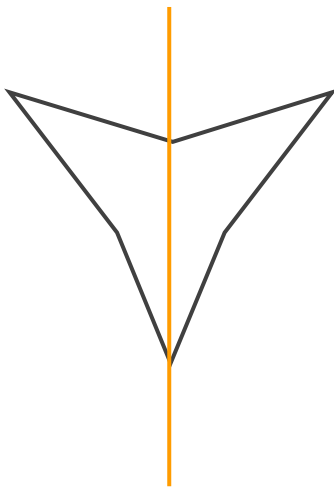
答え： ×

③



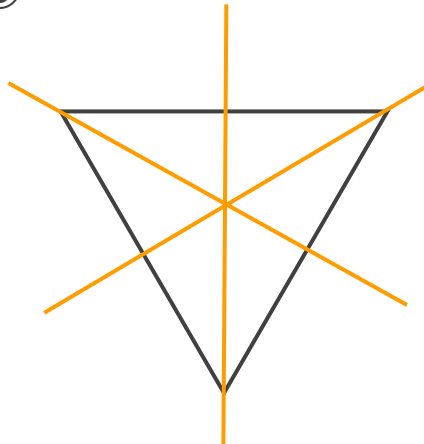
答え： ○

④




答え： ○

⑤



答え： ○

⑥



答え： ×





対称な図形2

2


線対称の軸

日にち： 月 日

名まえ _____

・次の図で、線対称な図には○、線対称な図形ではないものには×と答えなさい。また、○をつけた図形には対称の軸をすべてかき入れなさい。(うすい字はなぞりましょう。)

①



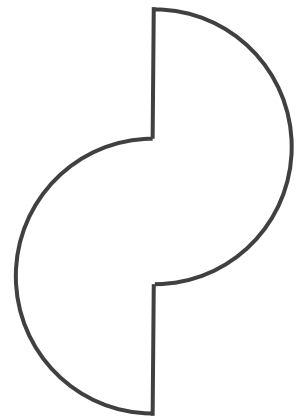
答え： ○

②




答え： ○

③



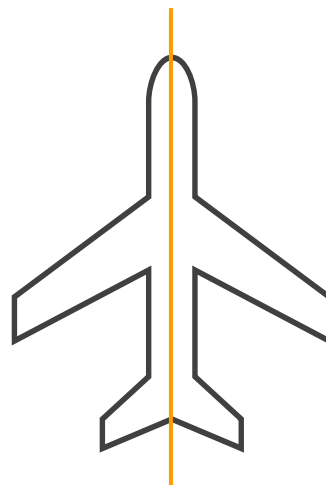
答え： ×

④



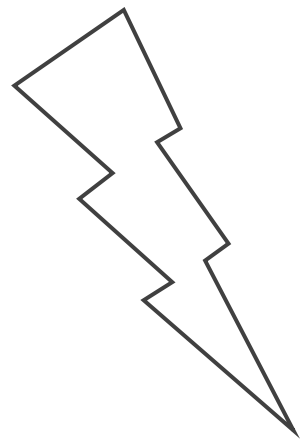
答え： ×

⑤



答え： ○

⑥



答え： ×





対称な図形2

3

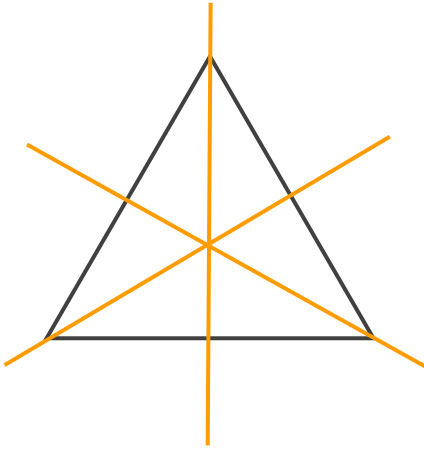
線対称の軸

日にち： 月 日

名まえ _____

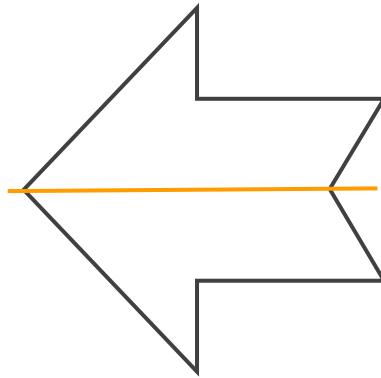
・次の図で、線対称な図には○、線対称な図形ではないものには×と答えなさい。また、○をつけた図形には対称の軸をすべてかき入れなさい。(うすい字はなぞりましょう。)

①



答え： ○

②




答え： ○

③



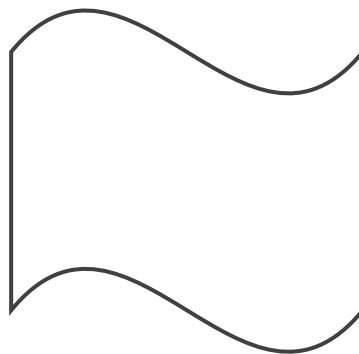
答え： ×

④



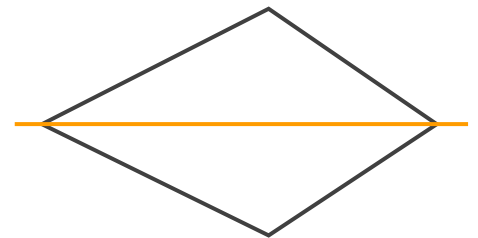
答え： ○

⑤



答え： ×

⑥



答え： ○





対称な図形2

4

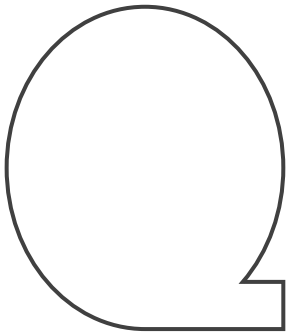
線対称の軸

日にち： 月 日

名まえ _____


・次の図で、線対称な図には○、線対称な図形ではないものには×と答えなさい。また、○をつけた図形には対称の軸をすべてかき入れなさい。

①



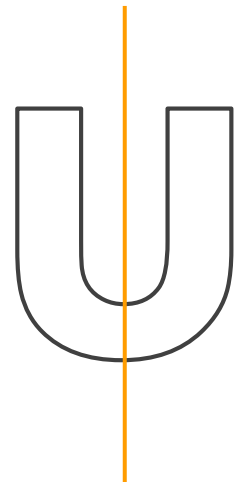
答え： ×

②



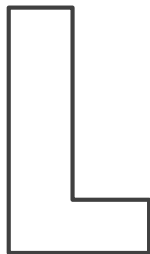
答え： ○

③




答え： ○

④



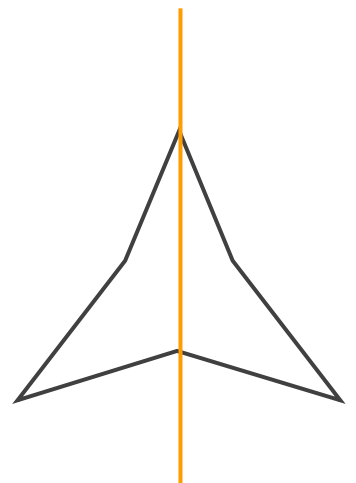
答え： ×

⑤



答え： ×

⑥



答え： ○





対称な図形2

5


線対称の軸

日にち： 月 日

名まえ _____

・次の図で、線対称な図には○、線対称な図形ではないものには×と答えなさい。また、○をつけた図形には対称の軸をすべてかき入れなさい。(うすい字はなぞりましょう。)


①



答え：

○

②



答え：

×

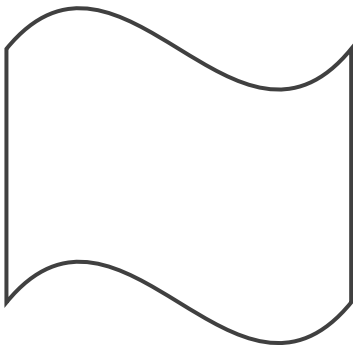
③



答え：

○

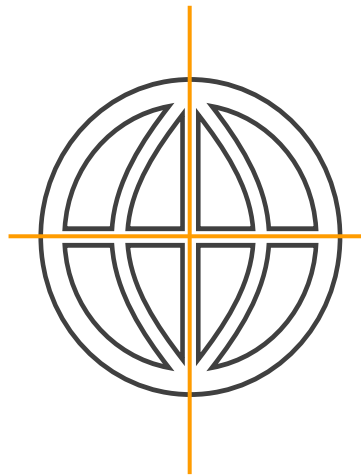
④



答え：

×

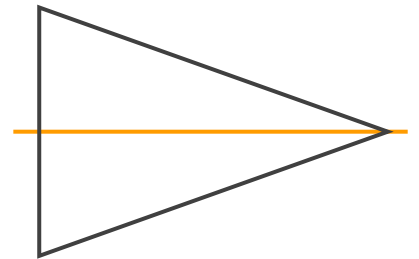
⑤



答え：

○

⑥



答え：

○





対称な図形2

6

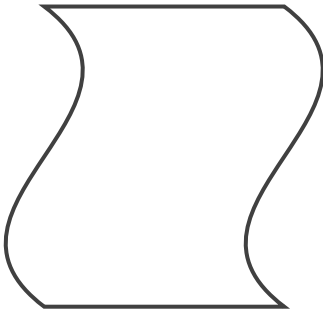
線対称の軸

日にち： 月 日

名まえ _____

・次の図で、線対称な図には○、線対称な図形ではないものには×と答えなさい。また、○をつけた図形には対称の軸をすべてかき入れなさい。

①




答え： ×

②



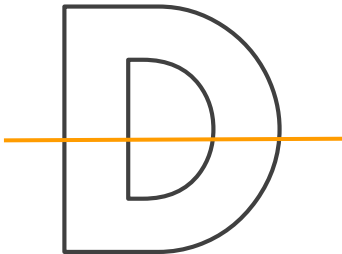
答え： ○

③



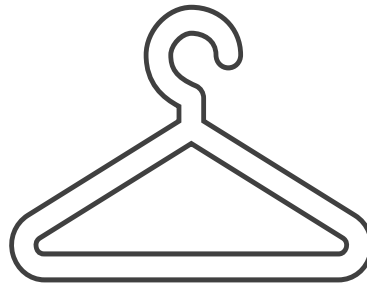
答え： ×

④



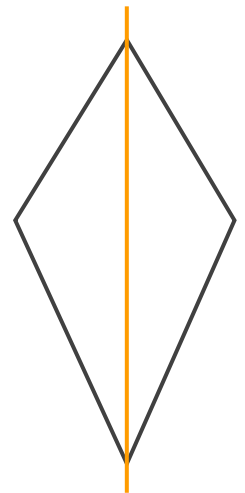
答え： ○

⑤



答え： ×

⑥



答え： ○





対称な図形2



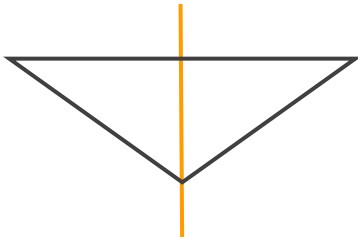
線対称の軸

日にち： 月 日

名まえ _____

・次の図で、線対称な図には○、線対称な図形ではないものには×と答えなさい。また、○をつけた図形には対称の軸をすべてかき入れなさい。


①



答え：




②



答え：



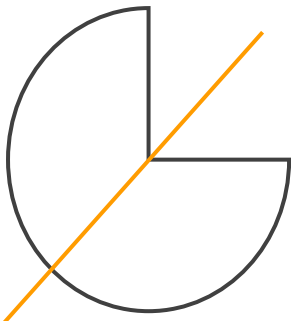
③



答え：



④



答え：



⑤



答え：



⑥



答え：





対称な図形2



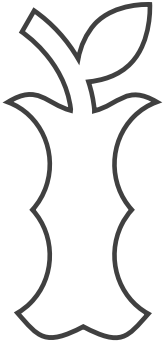
線対称の軸

日にち： 月 日

名まえ _____


・次の図で、線対称な図には○、線対称な図形ではないものには×と答えなさい。また、○をつけた図形には対称の軸をすべてかき入れなさい。

①




答え： ×

②



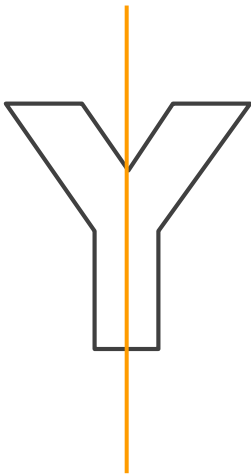
答え： ○

③



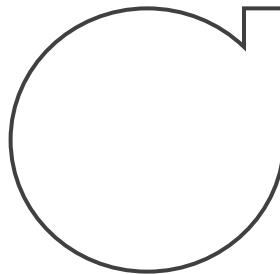
答え： ○

④



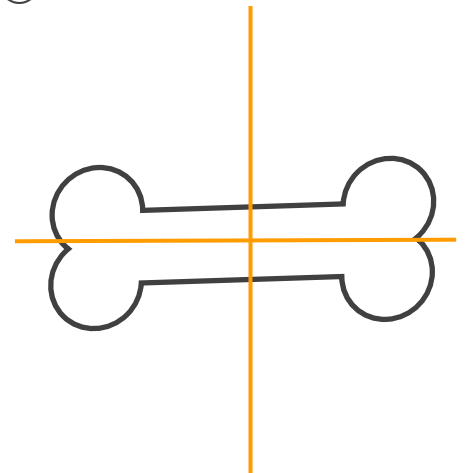
答え： ○

⑤



答え： ×

⑥



答え： ○





対称な図形2



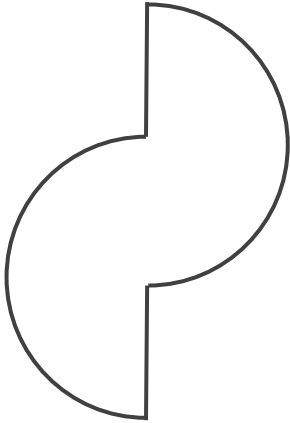
線対称の軸

日にち： 月 日

名まえ _____


・次の図で、線対称な図には○、線対称な図形ではないものには×と答えなさい。また、○をつけた図形には対称の軸をすべてかき入れなさい。

①




答え： ×

②



答え： ○

③




答え： ○

④




答え： ×

⑤



答え： ×

⑥



答え： ○





対称な図形2

10


線対称の軸

日にち： 月 日

名まえ _____

・次の図で、線対称な図には○、線対称な図形ではないものには×と答えなさい。また、○をつけた図形には対称の軸をすべてかき入れなさい。

①




答え： ○

②



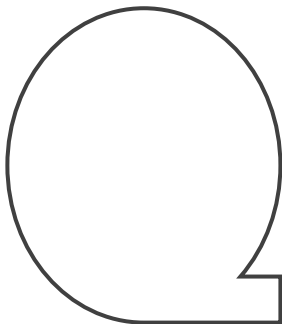
答え： ×

③



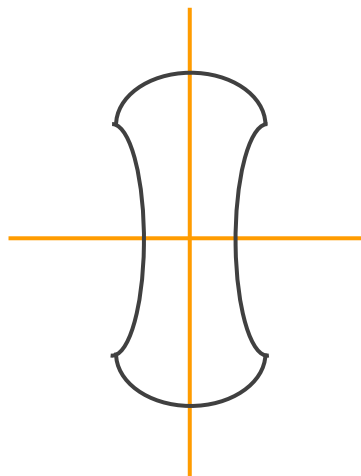
答え： ○

④



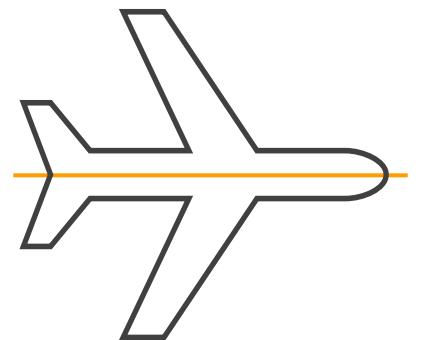
答え： ×

⑤



答え： ○

⑥



答え： ○





対称な図形2



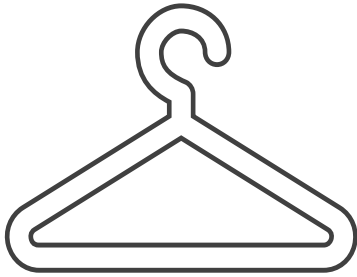
線対称の軸

日にち： 月 日

名まえ _____

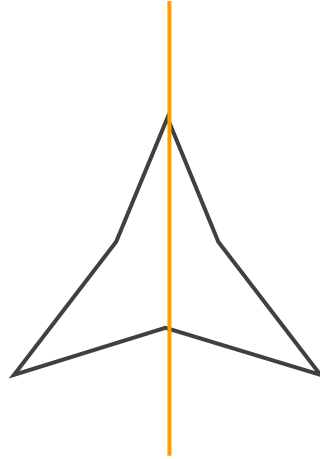
・次の図で、線対称な図には○、線対称な図形ではないものには×と答えなさい。また、○をつけた図形には対称の軸をすべてかき入れなさい。

①



答え： ×

②




答え： ○

③



答え： ×

④



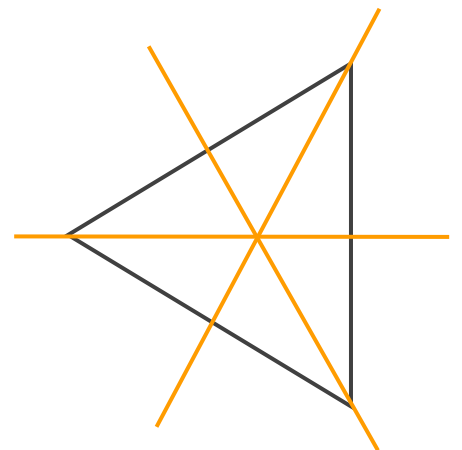
答え： ×

⑤



答え： ○

⑥



答え： ○





対称な図形2

12

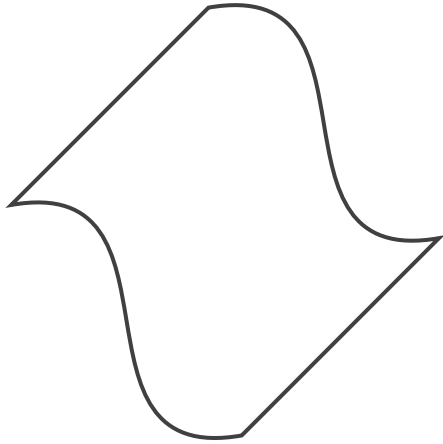
線対称の軸

日にち： 月 日

名まえ _____

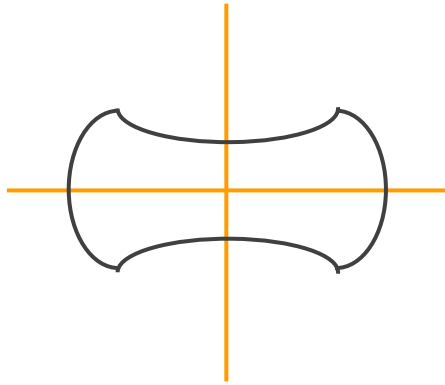
・次の図で、線対称な図には○、線対称な図形ではないものには×と答えなさい。また、○をつけた図形には対称の軸をすべてかき入れなさい。

①



答え： ×

②




答え： ○

③




答え： ×

④



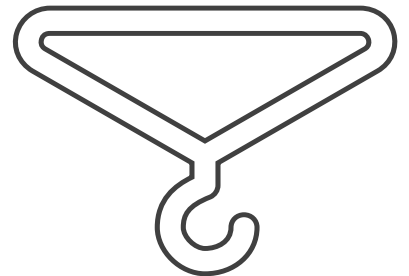
答え： ○

⑤



答え： ○

⑥



答え： ×





対称な図形2

13

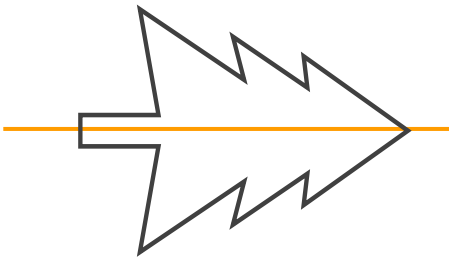
線対称の軸

日にち： 月 日

名まえ _____

・次の図で、線対称な図には○、線対称な図形ではないものには×と答えなさい。また、○をつけた図形には対称の軸をすべてかき入れなさい。


①



答え：




②



答え：



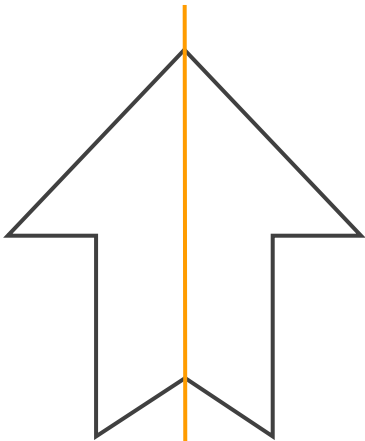
③



答え：




④



答え：



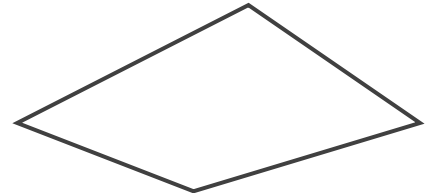
⑤



答え：



⑥



答え：





対称な図形2

14


線対称の軸

日にち： 月 日

名まえ _____

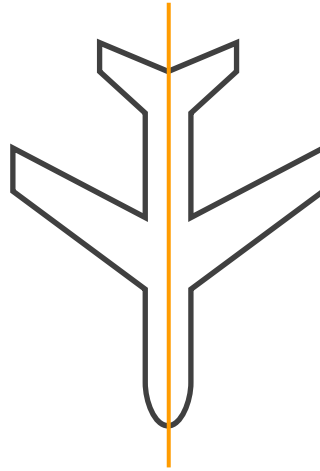
・次の図で、線対称な図には○、線対称な図形ではないものには×と答えなさい。また、○をつけた図形には対称の軸をすべてかき入れなさい。

①




答え： ○

②



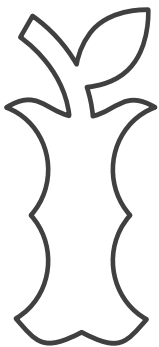
答え： ○

③




答え： ×

④




答え： ×

⑤



答え： ×

⑥



答え： ○






対称な図形2

15

目指せ80点!



線対称の軸

名まえ _____

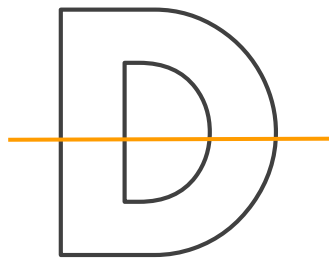
・次の図で、線対称な図には○、線対称な図形ではないものには×と答えなさい。また、○をつけた図形には対称の軸をすべてかき入れなさい。
(各20点)

①




答え： ×

②




答え： ○

③



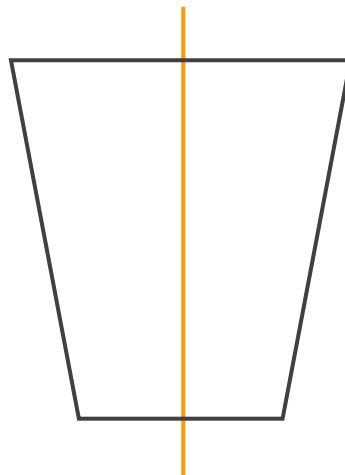
答え： ○

④



答え： ×

⑤



答え： ○






対称な図形2

16

目指せ80点!

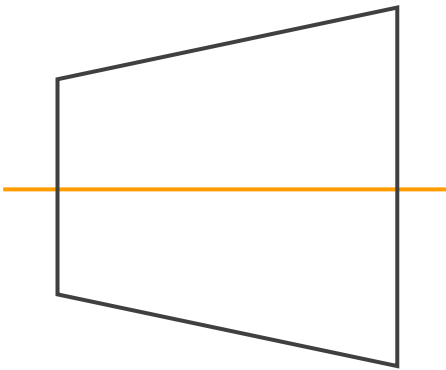


線対称の軸

名まえ


・次の図で、線対称な図には○、線対称な図形ではないものには×と答えなさい。また、○をつけた図形には対称の軸をすべてかき入れなさい。
(各20点)

①




答え： ○

②




答え： ×

③



答え： ○

④



答え： ○

⑤



答え： ×

