



## 並べ方と 組み合わせ方 3

● シュートの入り方を  
書き出そう (樹形図)

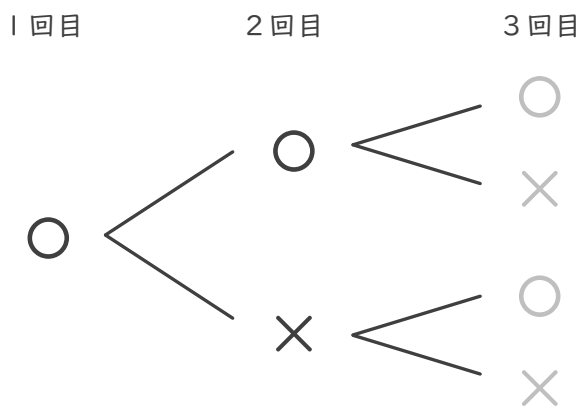


日にち：            月            日

名まえ \_\_\_\_\_

・バスケットボールのシュートを3回して、その入り方を表します。次の問いに答えましょう。(うすい字はなぞりましょう。)

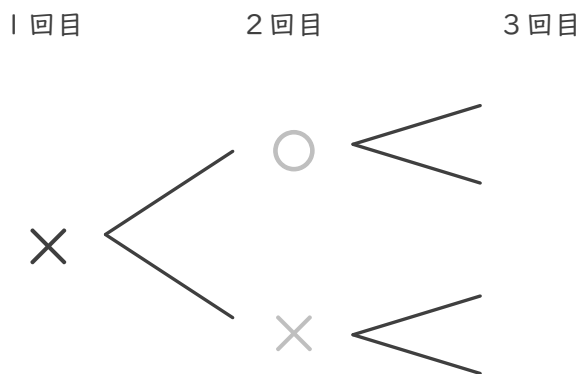
① 入った場合を○、入らなかった場合を×として、1回目が入った場合を図に表しましょう。



このような図を  
樹形図 (じゅけいず) というよ!



② 1回目が入らなかった場合を①のように図に表しましょう。



③ シュートの入り方は全部で何通りありますか。

答え (            8通り            )





## 並べ方と 組み合わせ方 3

● シュートの入り方を  
書き出そう (樹形図)

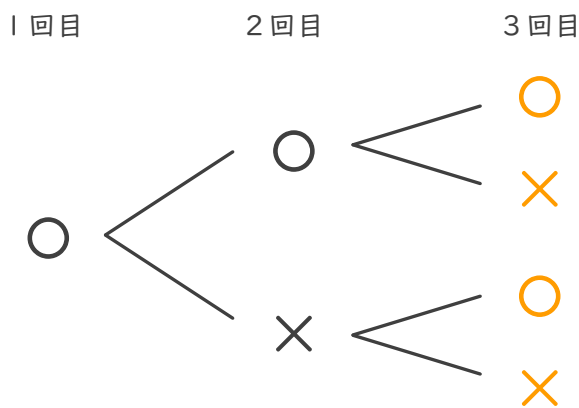


日にち：            月            日

名まえ \_\_\_\_\_

・バスケットボールのシュートを3回して、その入り方を表します。次の問いに答えましょう。(うすい字はなぞりましょう。)

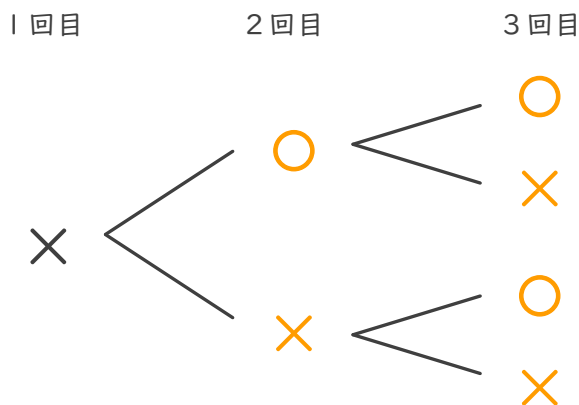
① 入った場合を○、入らなかった場合を×として、1回目が入った場合を図に表しましょう。



このような図を  
樹形図 (じゅけいず) というよ!



② 1回目が入らなかった場合を①のように図に表しましょう。



③ シュートの入り方は全部で何通りありますか。

答え (            8通り            )

