



データの調べ方 7

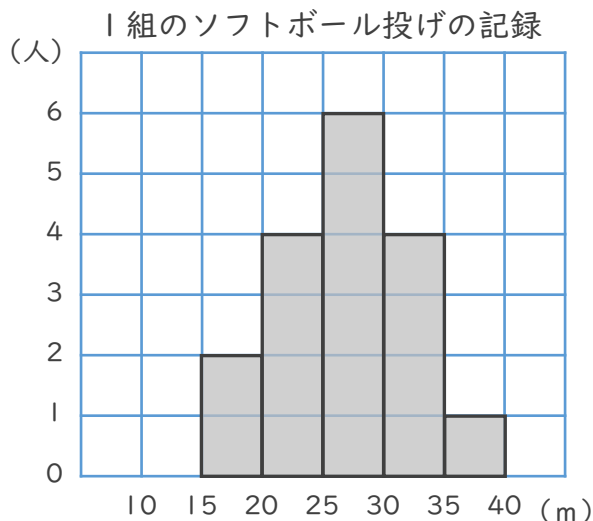
◎ ヒストグラムの読み取り



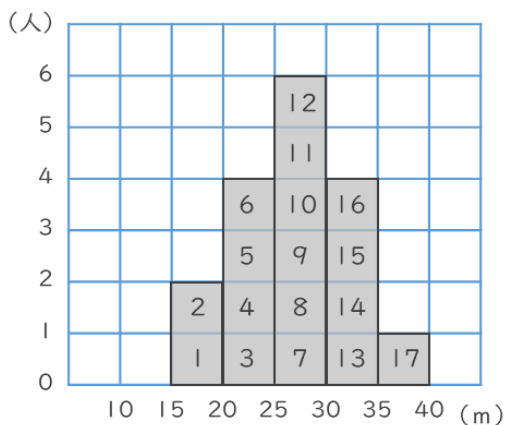
日にち： 月 日

名まえ _____

下のヒストグラムを見て、次の問いに答えましょう。



① 1組の人数は何人ですか。

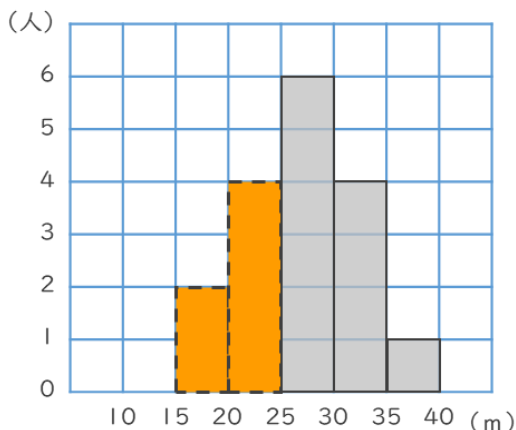


1つのマスが1人だから
マスの数を数えればいいね!



答え (**17人**)

② 記録が25m未満の人は何人ですか。



15m以上20m未満と
20m以上25m未満の階級
を合わせると...



答え (**6人**)

