



分数のわり算 21

● 分数÷整数の文章問題

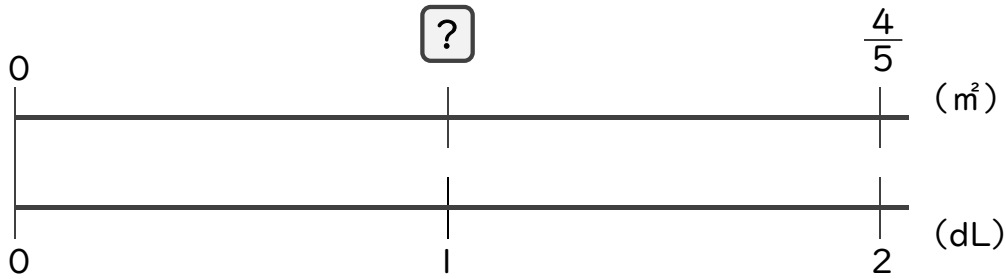


日にち： 月 日

名まえ _____

・次の問いに答えましょう。(うすい字は、しっかりなぞりましょう)

1 2dLで、板を $\frac{4}{5}$ ㎡ぬれるペンキがあります。このペンキ1dLでは板を何㎡ぬれますか。



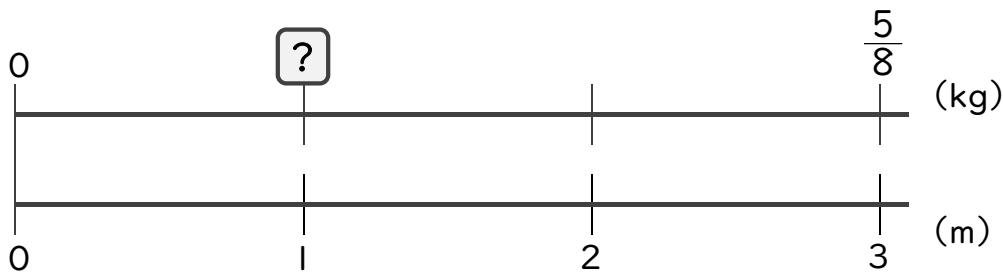
$$\square = \frac{4}{5} \div 2$$

$$= \frac{4^2}{5 \times 2}$$

$$= \frac{2}{5}$$

答え： $\frac{2}{5}$ ㎡

2 3mの重さが $\frac{5}{8}$ kgのホースがあります。このホース1mの重さは何kgですか。



$$\square = \frac{5}{8} \div 3$$

=

答え： _____



分数のわり算 21

● 分数÷整数の文章問題

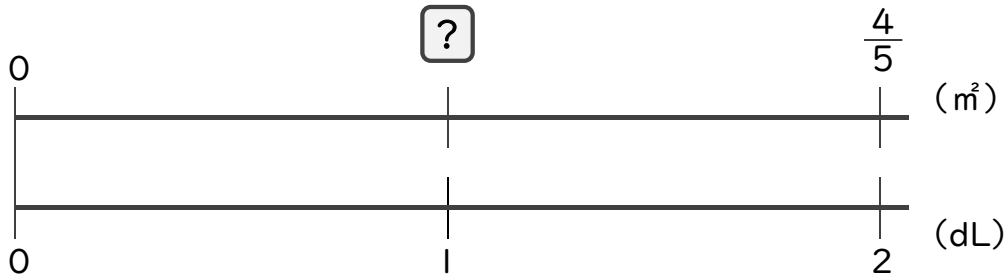


日にち： 月 日

名まえ _____

・次の問いに答えましょう。(うすい字は、しっかりなぞりましょう)

1 2dLで、板を $\frac{4}{5}$ m²ぬれるペンキがあります。このペンキ1dLでは板を何m²ぬれますか。



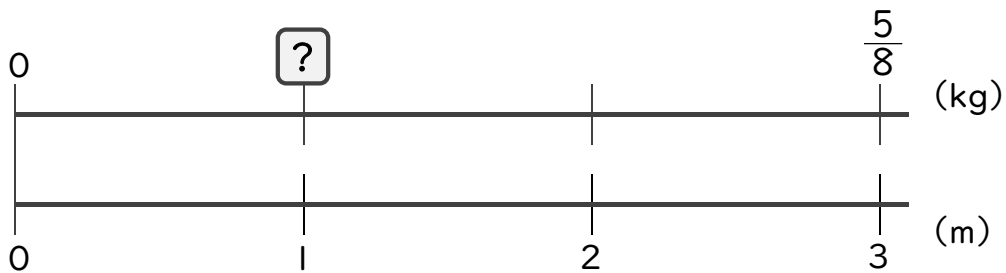
$$\square = \frac{4}{5} \div 2$$

$$= \frac{4^2}{5 \times 2}$$

$$= \frac{2}{5}$$

答え： $\frac{2}{5}$ m²

2 3mの重さが $\frac{5}{8}$ kgのホースがあります。このホース1mの重さは何kgですか。



$$\square = \frac{5}{8} \div 3$$

$$= \frac{5}{8 \times 3}$$

$$= \frac{5}{24}$$

答え： $\frac{5}{24}$ kg