



# 対称な図形2



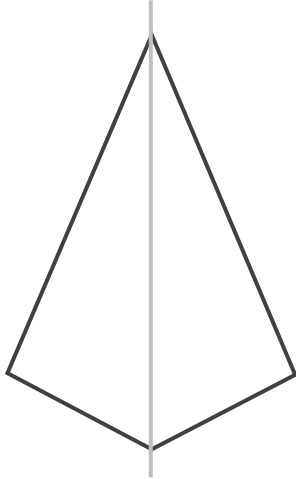
## 線対称の軸

日にち：      月      日

名まえ \_\_\_\_\_

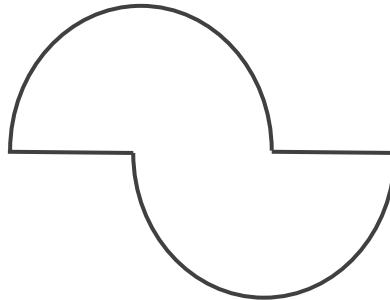
・次の図で、線対称な図には○、線対称な図形ではないものには×と答えなさい。また、○をつけた図形には対称の軸をすべてかき入れなさい。(うすい字はなぞりましょう。)

①



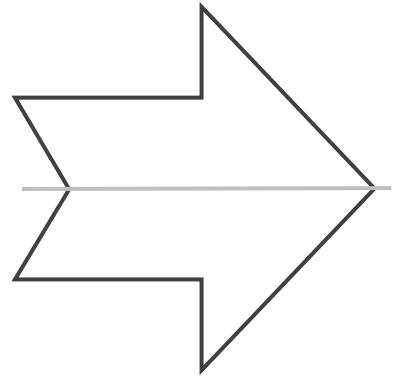
答え： ○

②



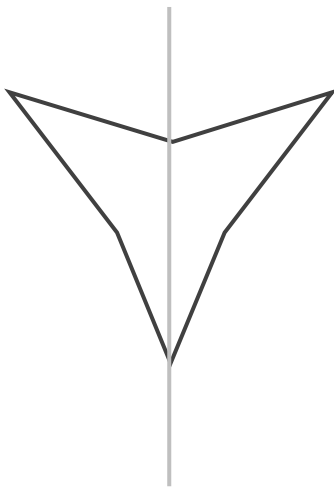
答え： ×

③



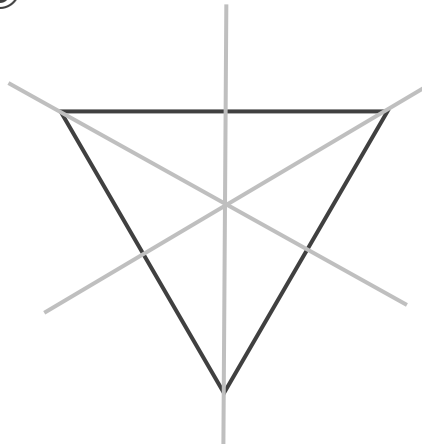
答え： ○

④




答え： \_\_\_\_\_

⑤



答え： \_\_\_\_\_

⑥



答え： \_\_\_\_\_





# 対称な図形2



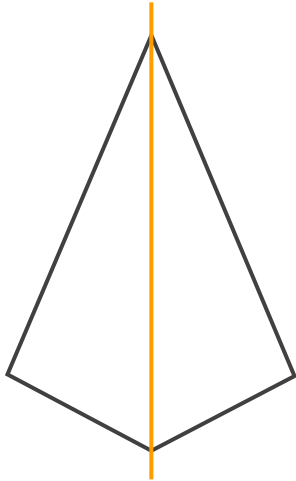
## 線対称の軸

日にち：      月      日

名まえ \_\_\_\_\_

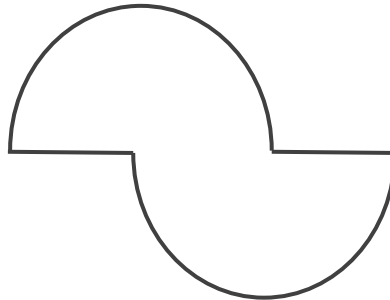
・次の図で、線対称な図には○、線対称な図形ではないものには×と答えなさい。また、○をつけた図形には対称の軸をすべてかき入れなさい。(うすい字はなぞりましょう。)

①



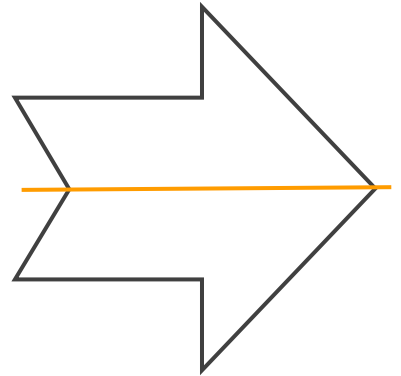
答え： ○

②



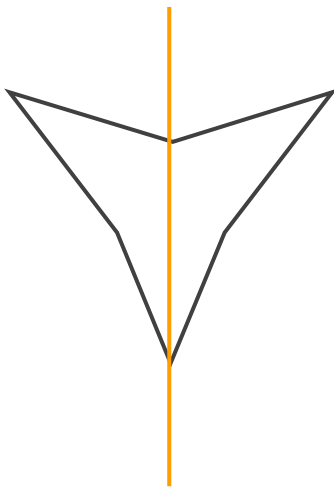
答え： ×

③



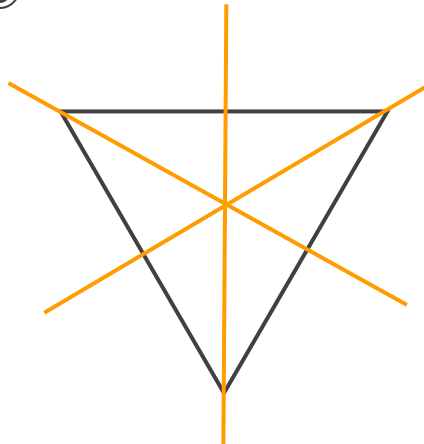
答え： ○

④



答え： ○

⑤



答え： ○

⑥



答え： ×

